

# سوالات موضوعی نهایی

## ((حسابان ۲))


پایه دوازدهم رشته‌ی ریاضی و فیزیک

سال تحصیلی ۱۴۰۱-۱۴۰۰



آخرین نسخه: شهریور ۱۴۰۰

تهیه کننده: جابر عامری



عضو گروه ریاضی دوره ی دوّم متوسطه استان خوزستان

# (( فصل اوّل : تابع ))

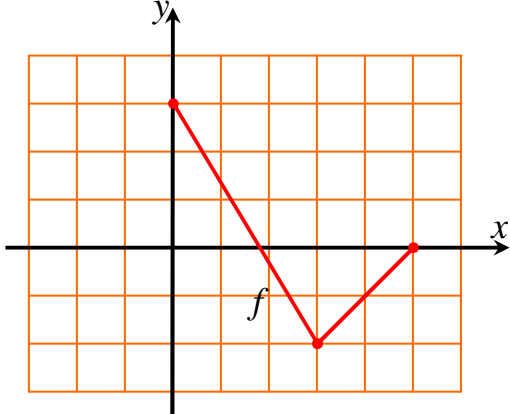
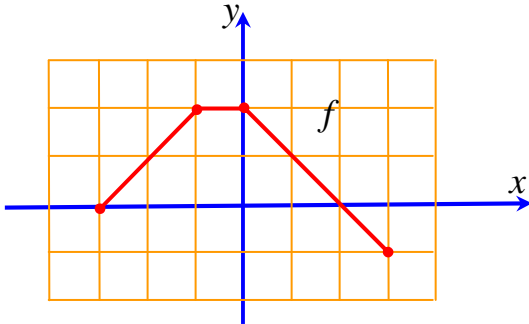
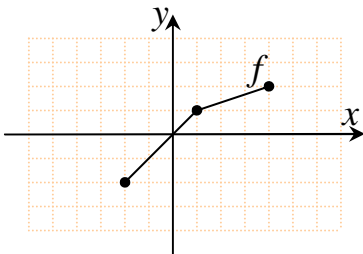
\*\*\*

## تبدیل نمودار توابع

برای تابع  $y = f(x)$  و با فرض مثبت بودن عدد  $k$  به شکل زیر بیان می شود.

نتیجه	نحوه‌ی تبدیل	تابع جدید	
نمودار به اندازه‌ی $k$ واحد بالا می رود.	به عرض نقاط $k$ واحد اضافه می شود.	طول نقاط ثابت می ماند.	$y = f(x) + k$
نمودار به اندازه‌ی $k$ واحد پایین می رود.	از عرض نقاط $k$ واحد کم می شود.		$y = f(x) - k$
اگر $0 < k < 1$ نمودار در جهت عمودی منقبض می شود. اگر $k > 1$ نمودار در جهت عمودی منبسط می شود.	عرض نقاط در $k$ ضرب می شود.		$y = kf(x)$
نمودار به اندازه‌ی $k$ واحد به عقب می رود.	از طول نقاط $k$ واحد کم می شود.	عرض نقاط ثابت می ماند.	$y = f(x + k)$
نمودار به اندازه‌ی $k$ واحد به جلو می رود.	به طول نقاط $k$ واحد اضافه می شود.		$y = f(x - k)$
اگر $0 < k < 1$ نمودار در جهت افقی منبسط می شود. اگر $k > 1$ نمودار در جهت افقی منقبض می شود.	طول نقاط در $\frac{1}{k}$ ضرب می شود.		$y = f(kx)$

<p>۱/۵ نمره</p>	<p>دی ۹۷</p>	<p>۱ نمودار تابع <math>f</math> در شکل زیر رسم شده است. نمودار تابع <math>g(x) = -f(2x)</math> را رسم کنید. سپس دامنه و برد تابع <math>g</math> را تعیین کنید.</p>
<p>۱ نمره</p>	<p>خرداد ۹۸</p>	<p>۲ نمودار تابع <math>y = f(x)</math> به صورت زیر است. نمودار <math>g(x) = 2f(x-1)</math> را رسم کرده و دامنه و برد آن را تعیین کنید.</p>
<p>۰/۲۵ نمره</p>	<p>خرداد ۹۸</p>	<p>۳ درستی یا نادرستی عبارت زیر را تعیین کنید. اگر <math>k &gt; 1</math> باشد، نمودار <math>y = f(kx)</math> از انبساط افقی نمودار <math>y = f(x)</math> در راستای محور <math>x</math> ها به دست می‌آید.</p>
<p>۱/۲۵ نمره</p>	<p>تیر ۹۸</p>	<p>۴ نمودار تابع <math>f</math> در شکل زیر رسم شده است. نمودار تابع <math>g(x) = f(2x) - 1</math> را رسم کنید. سپس دامنه‌ی تابع <math>g</math> را تعیین کنید.</p>
<p>۰/۵ نمره</p>	<p>شهریور ۹۸</p>	<p>۵ کوتاه پاسخ دهید. الف: در فاصله‌ی <math>(0, 1)</math> از بین دو تابع <math>g(x) = x^3</math> و <math>f(x) = x^2</math>، نمودار کدام تابع پایین تر از دیگری قرار دارد؟ ب: نمودار تابع <math>y = -f(x)</math>، قرینه‌ی نمودار تابع <math>y = f(x)</math> نسبت به کدام محور است؟</p>

<p>شهریور ۹۸ نمبره ۱</p>		<p>۶ نمودار تابع <math>f</math> در شکل زیر رسم شده است. نمودار تابع <math>g(x) = f(3 - x)</math> را رسم کرده و دامنه‌ی آن را تعیین کنید.</p> 	<p>۶</p>
<p>دی ۹۸ نمبره ۱/۲۵</p>		<p>۷ نمودار تابع <math>f(x)</math> در شکل زیر رسم شده است. نمودار تابع <math>g(x) = f(2x + 1)</math> را رسم کرده و دامنه و برد آن را تعیین کنید.</p> 	<p>۷</p>
<p>خرداد ۹۹ نمبره ۱</p>		<p>۸ با توجه به نمودار تابع <math>f</math> که در شکل زیر آمده است. نمودار تابع <math>g(x) = f(2x) - 1</math> را رسم کرده و دامنه و برد آن را تعیین کنید.</p> 	<p>۸</p>
<p>خرداد ۹۹ خ نمبره ۰/۲۵</p>		<p>۹ در جای خالی کلمه یا عبارت مناسب بنویسید. نقطه‌ی <math>(2, -1)</math> در تابع <math>y = f(2x + 1) - 1</math> متناظر با نقطه‌ی ..... در تابع <math>y = f(x)</math> است.</p>	<p>۹</p>

۱/۵ نمره	خرداد ۹۹ خ	<p>اگر نمودار <math>f</math> به صورت مقابل باشد. نمودار تابع <math>y = f(x-1) + 2</math> زیر را رسم کنید و دامنه و برد آنها را بنویسید.</p>	۱۰
۰/۲۵ نمره	خرداد ۹۹ خ	<p>درستی یا نادرستی عبارت زیر را مشخص کنید. نمودار تابع <math>y = (x+2)^3</math> را می‌توان با ۲ واحد انتقال نمودار تابع <math>y = x^3</math> به سمت چپ، رسم کرد.</p>	۱۱
۰/۵ نمره	شهریور ۹۹	<p>در جاهای خالی کلمه یا عبارت مناسب بنویسید. اگر بازه‌ی <math>[-2, 1]</math> دامنه‌ی تابع <math>f(x)</math> باشد، دامنه‌ی تابع <math>f(3x+1)</math> برابر ..... است.</p>	۱۲
۱ نمره	شهریور ۹۹	<p>نمودار تابع زیر را به کمک نمودار تابع <math>y = \cos x</math> رسم کنید. <math>y = \cos 2x - 1</math></p>	۱۳
۱ نمره	دی ۹۹	<p>نمودار تابع <math>f(x)</math> به صورت زیر است. نمودار تابع <math>g(x) = f(2x-1)</math> را رسم کنید و دامنه و برد آن را تعیین کنید.</p>	۱۴
۰/۷۵ نمره	خرداد ۱۴۰۰	<p>نمودار تابع <math>y = \cos(x - \frac{\pi}{4})</math> را به کمک نمودار <math>y = \cos x</math> در بازه‌ی <math>[0, 2\pi]</math> رسم کنید.</p>	۱۵
۰/۲۵ نمره	شهریور ۱۴۰۰	<p>جای خالی را با عدد یا کلمه‌ی مناسب کامل کنید. اگر <math>k &gt; 1</math> باشد. نمودار <math>y = f(kx)</math> از ..... نمودار <math>y = f(x)</math> در راستای محور <math>x</math> ها به دست می‌آید.</p>	۱۶

شهریور ۱۴۰۰	انصره ۱	<p>نمودار <math>y = f(x)</math> به صورت زیر است. نمودار <math>g(x) = ۲f(x+۱)</math> را رسم کرده و دامنه و برد تابع <math>g</math> را تعیین کنید.</p>	۱۷
----------------	------------	--	----

\*\*\*

### تابع درجه‌ی سوم و چند جمله‌ای

اگر  $n$  یک عدد صحیح نامنفی و  $a_0$  و  $a_1$  و  $a_2$  و ... و  $a_n$  اعداد حقیقی باشند که  $a_n \neq 0$ . در این صورت تابع زیر را یک **تابع چندجمله‌ای** از درجه‌ی  $n$  می‌نامند.

$$f(x) = a_n x^n + a_{n-1} x^{n-1} + a_{n-2} x^{n-2} + \dots + a_2 x^2 + a_1 x + a_0$$

برای مثال توابع زیر توابع چندجمله‌ای هستند.

(الف) تابع ثابت

$$f(x) = c$$

تابع چندجمله‌ای از درجه صفر<sup>۱</sup>

(ب) تابع خطی

$$f(x) = ax + b$$

تابع چندجمله‌ای از درجه یک

(ج) تابع درجه ۲ (سه‌می)

$$f(x) = ax^2 + bx + c$$

تابع چندجمله‌ای از درجه دو

(د) تابع زیر نیز یک تابع چند جمله‌ای از درجه ۳ است.

$$f(x) = ax^3 + bx^2 + cx + d$$

تابع چندجمله‌ای از درجه سه

شهریور ۹۸	نصره ۰/۲۵	<p>کوتاه پاسخ دهید. درجه‌ی تابع <math>f(x) = x^2(1-x)^5</math> را مشخص کنید.</p>	۱
خرداد ۹۹	نصره ۰/۲۵	<p>درستی یا نادرستی عبارت زیر را مشخص کنید. نمودار تابع <math>y = x^3</math> در بازه‌ی <math>[0, 1]</math> پایین‌تر از نمودار تابع <math>y = x^2</math> قرار دارد.</p>	۲
شهریور ۹۹	نصره ۰/۲۵	<p>درستی یا نادرستی عبارت زیر را مشخص کنید. چند جمله‌ای <math>P(x) = (2-x)^2(x+1)^3</math> یک چند جمله‌ای از درجه‌ی ۵ است.</p>	۳

\*\*\*

### توابع یکنوا

تابع  $y = f(x)$  را روی دامنه اش صعودی گویند، هرگاه:

1. برای تابع  $f(x) = 0$  درجه تعریف نمی‌شود.

$$\forall x_1, x_2 \in D_f; x_1 < x_2 \rightarrow f(x_1) \leq f(x_2)$$

تابع  $y = f(x)$  را روی دامنه اش صعودی اکید (اکیداً صعودی) گویند، هرگاه :

$$\forall x_1, x_2 \in D_f; x_1 < x_2 \rightarrow f(x_1) < f(x_2)$$

تابع  $y = f(x)$  را روی دامنه اش نزولی گویند، هرگاه :

$$\forall x_1, x_2 \in D_f; x_1 < x_2 \rightarrow f(x_1) \geq f(x_2)$$

تابع  $y = f(x)$  را روی دامنه اش نزولی اکید (اکیداً نزولی) گویند، هرگاه :

$$\forall x_1, x_2 \in D_f; x_1 < x_2 \rightarrow f(x_1) > f(x_2)$$

تابع  $y = f(x)$  را روی دامنه اش ثابت است، هرگاه :

$$\forall x_1, x_2 \in D_f; x_1 < x_2 \rightarrow f(x_1) = f(x_2)$$

**توجه :**

۱ : هر تابع صعودی اکید یا نزولی اکید را تابع اکیداً یکنوا می نامند.

۲ : اگر تابعی صعودی یا نزولی باشد، را یکنوا می نامند.

۳ : طبق تعریف تابع ثابت هم صعودی و هم نزولی است یعنی یکنوا است ولی اکیداً یکنوا نیست.

۴ : برای تعیین صعودی یا نزولی یا ثابت بودن تابع به کمک نمودار آن، نمودار را از چپ به راست نگاه کنید. ۵ : به طور

مشابه، صعودی یا نزولی بودن تابع را می توان در یک فاصله مانند  $I \subseteq D_f$  تعریف نمود.

۹۷ دی نمره ۰/۷۵	نمودار تابع $f(x) = (x+1)^3$ را رسم کنید. سپس تعیین کنید که این تابع در دامنه‌ی خود اکیداً صعودی است یا اکیداً نزولی؟	۱
۹۸ شهریور نمره ۰/۳۵	تابع $h(x) =  x+2 $ در چه بازه ای اکیداً صعودی است؟	۲
۹۸ شهریور نمره ۰/۵	اگر $\log(x+1) \leq \log(2x-3)$ ، حدود $x$ را به دست آورید؟	۳
۹۸ دی نمره ۰/۵	درستی یا نادرستی عبارات زیر را مشخص کنید. اگر تابع $f$ در یک بازه نزولی باشد، آنگاه در این بازه اکیداً نزولی می باشد.	۴
۹۸ دی نمره ۰/۵	در جاهای خالی کلمه یا عبارت مناسب بنویسید. اگر $\frac{1}{64} \leq \frac{1}{2}^{3x-2}$ باشد، حدود $x$ برابر ..... است.	۵

۶	درستی یا نادرستی عبارت زیر را مشخص کنید. اگر تابع $y = f(x)$ در یک فاصله صعودی باشد، آنگاه در آن فاصله اکیداً صعودی نیز خواهد بود.	۲۵/۰ نمراه	۹۹ خرداد
۷	نمودار تابع $f(x) = x^2 + 2$ را رسم کرده و مشخص کنید در چه بازه‌ای این تابع اکیداً صعودی و در چه بازه‌ای اکیداً نزولی است.	۱ نمراه	۹۹ خرداد
۸	درستی یا نادرستی عبارت زیر را مشخص کنید. تابع $g(x) = 2^{-x}$ ، تابعی است که در تمام دامنه‌ی خود اکیداً یکنوا است.	۲۵/۰ نمراه	۹۹ خرداد
۹	درستی یا نادرستی عبارت زیر را مشخص کنید. تابع $f(x) = -x^2 + 2x$ روی بازه‌ی $[-\infty, 3]$ اکیداً صعودی است.	۲۵/۰ نمراه	۹۹ خرداد
۱۰	جاهای خالی را با عبارت مناسب پر کنید. برای آنکه تابع $y = ax + b$ در دامنه‌اش هم صعودی باشد و هم نزولی، مقدار $a$ باید برابر با ..... باشد.	۲۵/۰ نمراه	۹۹ خرداد
۱۱	درستی یا نادرستی عبارت زیر را مشخص کنید. اگر تابع $f$ در یک بازه نزولی اکید باشد، در این بازه نزولی نیز هست.	۲۵/۰ نمراه	۹۹ شهریور
۱۲	با رسم نمودار تابع $f(x) = \begin{cases} 1-x^2 & x \leq 1 \\ -1 & x > 1 \end{cases}$ تعیین کنید که این تابع در چه بازه‌ای صعودی و در چه بازه‌ای نزولی می‌باشد	۱ نمراه	۹۹ دی
۱۳	درستی یا نادرستی عبارت زیر را تعیین کنید. تابع $f(x)$ در بازه‌ی شامل $a$ و $b$ صعودی است. اگر $f(a) \leq f(b)$ آنگاه $a \leq b$	۲۵/۰ نمراه	۹۹ دی
۱۴	جای خالی را با عدد یا عبارت مناسب پر کنید. به تابعی که در یک بازه فقط صعودی یا نزولی باشد، ..... می‌گوییم.	۲۵/۰ نمراه	۱۴۰۰ خرداد
۱۵	با رسم نمودار تابع $f(x) = \begin{cases} x^2 & x \geq 0 \\ -3x & -1 < x < 0 \end{cases}$ ، تعیین کنید، تابع در چه بازه‌ای اکیداً صعودی و در چه بازه‌ای اکیداً نزولی می‌باشد.	۷۵/۰ نمراه	۱۴۰۰ خرداد



شهریور ۱۴۰۰ نمره ۰/۳۵	۱۶	درستی یا نادرستی عبارت زیر را تعیین کنید. تابع $y = -\log_5^x + 1$ در دامنه‌ی خود، یک تابع اکیداً یکنوا است.
شهریور ۱۴۰۰ نمره ۱	۱۷	با رسم نمودار تابع $f(x) = \begin{cases} -x^2 + 2 & -2 \leq x < -1 \\ -x - 1 & -1 \leq x < 1 \\ x^2 - 1 & 1 \leq x \end{cases}$ تعیین کنید. تابع در چه بازه‌ی صعودی و در چه بازه‌ی نزولی می‌باشد.
شهریور ۱۴۰۰ نمره ۰/۵	۱۸	در $\left(\frac{1}{3}\right)^{1-2x} \leq \left(\frac{1}{81}\right)$ حدود $x$ را به دست آورید.

### تقسیم چند جمله‌ای‌ها و بخش پذیری

اگر چند جمله‌ای  $P(x)$  را بر  $x - a$  تقسیم کنیم، خواهیم داشت:

$$P(x) = Q(x) \times (x - a) + R(x)$$

و باقی مانده‌ی تقسیم  $P(x)$  بر  $x - a$  برابر  $P(a)$  است.

چند جمله‌ای  $A(x)$  را بر چند جمله‌ای  $B(x)$  بخش پذیر گویند، هرگاه باقی مانده‌ی تقسیم  $A(x)$  بر  $B(x)$  صفر شود.

دی ۹۷ نمره ۰/۳۵	۱	جای خالی را با عدد یا عبارت مناسب پر کنید. اگر باقی مانده‌ی تقسیم $f(x) = x^2 + kx - 1$ بر $x + 1$ برابر ۲ باشد. مقدار $k$ برابر ..... است.
خرداد ۹۸ نمره ۰/۳۵	۲	اگر چند جمله‌ای $f(x) = x^2 + ax - 3$ بر $x + 1$ بخش پذیر باشد. باقی مانده‌ی تقسیم $f(x)$ بر $x - 2$ را به دست آورید.
تیر ۹۸ نمره ۰/۳۵	۳	جای خالی را با عدد یا عبارت مناسب پر کنید. باقی مانده‌ی تقسیم $f(x) = x^3 - 2x$ بر $x - 1$ برابر با ..... است.
تیر ۹۸ نمره ۱	۴	مقدار $a$ و $b$ را طوری تعیین کنید که چندجمله‌ای $P(x) = x^3 + ax^2 + bx - 2$ بر $x - 2$ بخش پذیر بوده و باقی مانده‌ی تقسیم آن بر $x + 1$ برابر ۳ باشد.
شهریور ۹۸ نمره ۱	۵	مقادیر $a$ و $b$ را طوری تعیین کنید که چندجمله‌ای $P(x) = x^3 + ax^2 + bx + 1$ بر $x - 2$ و $x + 1$ بخش پذیر باشد.

۱/۲۵ نمره	دی ۹۸	در چند جمله‌ای $f(x) = x^3 + ax^2 + b$ ، مقادیر $a$ و $b$ را چنان بیابید که باقی مانده‌ی تقسیم آن بر $x - 1$ برابر ۴ باشد و بر $x + 2$ بخش پذیر باشد.	۶
۱ نمره	خرداد ۹۹	مقدار $a$ و $b$ را طوری تعیین کنید که چندجمله‌ای $x^3 + ax^2 + bx + 1$ بر $x - 2$ و $x + 1$ بخش پذیر باشد.	۷
۰/۲۵ نمره	خرداد ۹۹ خ	درستی یا نادرستی عبارت زیر را مشخص کنید. در تقسیم $f(x) = x^3 + 2$ بر $p(x) = 2x - 1$ باقی مانده برابر صفر است.	۸
۱ نمره	خرداد ۹۹ خ	در چند جمله‌ای $y = x^3 + ax^2 + x + b$ مقادیر $a$ و $b$ را چنان بیابید که باقی مانده‌ی تقسیم آن بر $x - 1$ برابر ۴ باشد و بر $x + 2$ بخش پذیر باشد.	۹
۱/۵ نمره	شهریور ۹۹	مقادیر $a$ و $b$ را طوری تعیین کنید که چندجمله‌ای $P(x) = x^3 + ax^2 + bx - 2$ بر $x - 2$ بخش پذیر بوده و باقی مانده‌ی تقسیم آن بر $x + 1$ برابر ۳ باشد.	۱۰
۰/۷۵ نمره	خرداد ۱۴۰۰	باقی مانده‌ی تقسیم عبارت‌های $p(x) = x^3 + ax + 1$ و $q(x) = 2x^2 - x + 1$ بر $x + 2$ یکسان می‌باشد. مقدار $a$ را بیابید.	۱۱

\*\*\*

### اتحادهای تکمیلی

برای هر عدد طبیعی  $n$  عبارت  $x^n - y^n$  بر  $x - y$  بخش پذیر است. همچنین:

$$x^n - y^n = (x - y)(x^{n-1} + x^{n-2}y + \dots + xy^{n-2} + y^{n-1})$$

اگر  $n$  فرد باشد،

$$x^n + y^n = (x + y)(x^{n-1} - x^{n-2}y + \dots - xy^{n-2} + y^{n-1})$$

اگر  $n$  زوج باشد،

$$x^n - y^n = (x + y)(x^{n-1} - x^{n-2}y + \dots + xy^{n-2} - y^{n-1})$$

**نتیجه:** اگر  $a$  یک عدد حقیقی و  $n$  یک عدد طبیعی باشد. به کمک اتحادهای فوق داریم:

الف:

$$a^n - 1 = (a - 1)(a^{n-1} + a^{n-2} + a^{n-3} + a^{n-4} + \dots + a^2 + a + 1)$$

ب: در حالتی که  $n$  فرد باشد.

$$a^n + 1 = (a + 1)(a^{n-1} - a^{n-2} + a^{n-3} - a^{n-4} + \dots + a^2 - a + 1)$$

۱ نمره	دی ۹۷	هر یک از چندجمله‌ای‌های زیر را برحسب عامل خواسته شده، تجزیه کنید. الف) $x^5 + 1$ با عامل $x + 1$ ب) $x^6 - 1$ با عامل $x - 1$	۱
-----------	-------	---	---

سؤالات موضوعی امتحانات نهایی کشوری فصل اول درس حسابان ۲ پایه‌ی دوازدهم رشته‌ی ریاضی فیزیک

۵/۰ نمره	۹۸ خرداد	چند جمله‌ای $x^6 - 1$ را بر حسب عامل $x + 1$ تجزیه کنید.	۲
۵/۰ نمره	۹۹ خرداد خ	چند جمله‌ای $x^5 + 1$ را بر حسب عامل $x + 1$ تجزیه کنید.	۳
۱ نمره	۹۹ دی	چند جمله‌ای $x^6 - 1$ را با عامل $x - 1$ تجزیه کنید.	۴
۲/۰ نمره	۱۴۰۰ شهریور	چند جمله‌ای $x^5 + 32$ را بر حسب عامل $x + 2$ تجزیه کنید.	۵

تهیه کننده : جابر عامری

عضو گروه ریاضی دوره‌ی دوّم متوسطه استان خوزستان

[www.mathtower.ir](http://www.mathtower.ir)

@amerimath

# (( فصل دوّم : مثلثات ))

\*\*\*

## دورهی تناوب

برای توابع  $f(x) = a \sin bx + c$  و  $f(x) = a \cos bx + c$  داریم :

الف : مقدار ماکزیمم برابر  $|a| + c$       ب : مقدار می نیمم برابر  $-|a| + c$       پ : دورهی تناوب برابر  $T = \frac{2\pi}{|b|}$

در صورتی مقدار ماکزیمم و مقدار می نیمم و دورهی تناوب معلوم باشد. برای نوشتن معادلهی توابع مثلثاتی به صورت

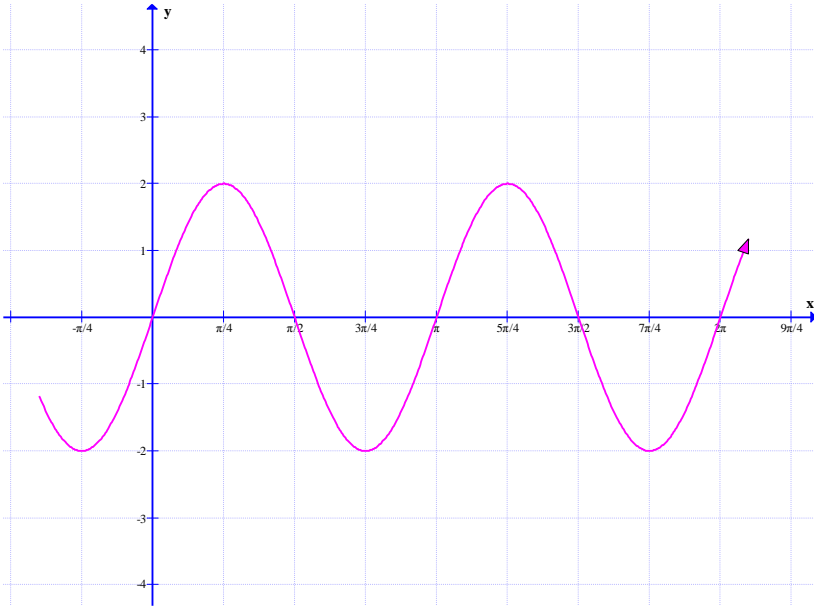
$$f(x) = a \sin bx + c \text{ یا } f(x) = a \cos bx + c$$

الف : مقدار  $b$  را مثبت قرار می دهیم و  $b = \frac{2\pi}{T}$

ب :  $a = \pm \frac{\max(f) - \min(f)}{2}$       ج :  $c = \frac{\max(f) + \min(f)}{2}$

۰/۳۵ نمره	دی ۹۷	درست یا نادرست بودن جملهی زیر را مشخص کنید.  مینیمم تابع $y = -3 \cos(\pi x) + 2$ برابر یک است.	۱
۱ نمره	دی ۹۷	ضابطهی تابعی به فرم $y = a \sin bx + c$ را بنویسید که دورهی تناوب آن $\pi$ ، مقدار ماکزیمم آن ۳ و مقدار مینیمم آن -۳ باشد.	۲
۰/۲۵ نمره	خرداد ۹۸	جای خالی را با عدد یا عبارت مناسب کامل کنید. دورهی تناوب تابع $y = 3 \cos(-\frac{\pi}{4} x)$ برابر با .... است.	۳
۰/۲۵ نمره	تیر ۹۸	جای خالی را با عدد یا عبارت مناسب کامل کنید. دورهی تناوب تابع $y = -\frac{1}{4} \cos(\pi x)$ برابر با .... است.	۴
۰/۵ نمره	تیر ۹۸	مقدار ماکزیمم و مینیمم تابع $y = 1 - 2 \sin(3x)$ را به دست آورید.	۵

سؤالات موضوعی امتحانات نهایی کشوری فصل دوم درس حسابان ۲ پایه‌ی دوازدهم رشته‌ی ریاضی فیزیک

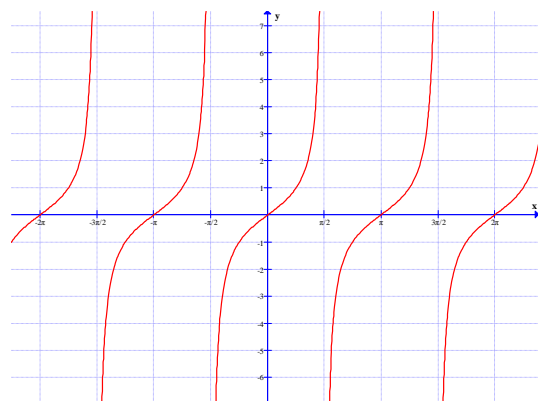
شهریور ۹۸	شماره ۱/۵	دوره‌ی تناوب و مقادیر ماکزیمم و مینیمم تابع $y = -3 \cos(\pi x) + 1$ را مشخص کنید.	۶
دی ۹۸	شماره ۱/۵	ضابطه‌ی تابعی به صورت $y = a \sin bx + c$ را بنویسید که دوره‌ی تناوب آن $\pi$ ، مقدار ماکزیمم آن ۶ و مقدار مینیمم آن $-2$ باشد.	۷
خرداد ۹۹	شماره ۰/۲۵	در جای خالی کلمه یا عبارت مناسب را بنویسید. دوره‌ی تناوب تابع $y = 8 \cos\left(\frac{x}{3}\right)$ برابر با ..... است.	۸
خرداد ۹۹	شماره ۱	مقدار ماکزیمم و می نیمم تابع $y = 1 + 2 \sin 7x$ را به دست آورید.	۹
خرداد ۹۹	شماره ۱	معادله‌ی منحنی رو به رو را به صورت $y = a \sin(bx)$ یا $y = a \cos(bx)$ بیان کنید. 	۱۰
خرداد ۹۹	شماره ۰/۲۵	جای خالی را با عبارت مناسب پر کنید. دوره‌ی تناوب و مقدار مینیمم تابع $y = 2 \sin \frac{\pi}{2} x - 1$ به ترتیب برابر با ..... و ..... است.	۱۱
شهریور ۹۹	شماره ۱	دوره‌ی تناوب و مقادیر ماکزیمم و مینیمم تابع $y = \sqrt{5} - \pi \cos \frac{1}{2} x$ را محاسبه کنید.	۱۲

<p>۱/۲۵ نمره</p>	<p>دی ۹۹</p>	<p>۱۳ در شکل نمودار زیر، با تعیین مقادیر ماکزیمم و می نیمم تابع، ضابطه‌ی آن را بنویسید.</p>	<p>۱۳</p>
<p>۰/۷۵ نمره</p>	<p>خرداد ۱۴۰۰</p>	<p>۱۴ ضابطه‌ی یک تابع سینوسی با دوره‌ی تناوب ۳ و مقادیر ماکزیمم ۵ و مینیمم ۳ را بنویسید.</p>	<p>۱۴</p>
<p>۱/۵ نمره</p>	<p>شهریور ۱۴۰۰</p>	<p>۱۵ دوره‌ی تناوب و مقادیر ماکزیمم و مینیمم تابع <math>y = 9 - 2\pi \cos\left(\frac{x}{\pi}\right)</math> را محاسبه کنید.</p>	<p>۱۵</p>

### تابع تانژانت

تابع  $f(x) = \tan(x)$  را **تابع تانژانت** می نامند.

تابع تانژانت در یک دوره‌ی تناوب محصور بین مضرب های متوالی  $\frac{\pi}{4}$  اکیداً صعودی است. اما در دامنه اش نه صعودی و



نه نزولی می باشد.

تابع تانژانت دارای ویژگی های زیر است.

**الف:** اگر زاویه‌ی  $\alpha$  در ربع اول یا سوم باشد، مقدار تابع مثبت است.

**ب:** اگر زاویه‌ی  $\alpha$  در ربع دوم یا چهارم باشد، مقدار تابع منفی است.

سؤالات موضوعی امتحانات نهایی کشوری فصل دوم درس حسابان ۲ پایه‌ی دوازدهم رشته‌ی ریاضی فیزیک

ج: اگر زاویه‌ی  $\alpha$  برابر صفر یا  $\pi$  رادیان باشد، مقدار تابع صفر است.

د: تابع در نقاط  $\frac{\pi}{2}$  و  $\frac{3\pi}{2}$  تعریف نمی‌شود. به طور کلی دامنه و برد تابع تانژانت به شکل زیر است.

$$D_f = \{x \in R \mid x \neq k\pi + \frac{\pi}{2}, k \in Z\}$$

$$R_f = R$$

و: چون  $\tan(\pi + x) = \tan(x)$  پس این تابع متناوب است و دوره‌ی تناوب آن  $T = \pi$  می‌باشد.

به طور کلی دوره‌ی تناوب تابع  $f(x) = a \tan(bx) + c$  برابر  $T = \frac{\pi}{|b|}$  است.

توجه داشته باشیم که

الف)  $\tan(\alpha + \beta) = \frac{\tan \alpha + \tan \beta}{1 - \tan \alpha \cdot \tan \beta}$

ب)  $\tan(\alpha - \beta) = \frac{\tan \alpha - \tan \beta}{1 + \tan \alpha \cdot \tan \beta}$

دی ۹۷ نمره ۰/۲۵	جای خالی را با عدد یا عبارت مناسب پر کنید. دوره‌ی تناوب تابع تانژانت برابر با ..... است.	۱
دی ۹۷ نمره ۰/۲۵	درست یا نادرست بودن جمله‌ی زیر را مشخص کنید. تابع تانژانت در دامنه اش صعودی است.	۲
خرداد ۹۸ نمره ۰/۲۵	درست یا نادرست بودن جمله‌ی زیر را مشخص کنید. نقاطی به فرم $x = k\pi + \frac{\pi}{2}$ که در آن $k \in Z$ در دامنه‌ی تابع تانژانت قرار ندارند.	۳
شهریور ۹۸ نمره ۰/۵	کدام یک از جملات زیر درست و کدام یک نادرست است؟ الف: تابع تانژانت در بازه‌ی $(\frac{\pi}{2}, \frac{3\pi}{2})$ اکیداً صعودی است؟ ب: نقاطی به فرم $x = k\pi + \frac{\pi}{2}$ و $k \in Z$ در دامنه‌ی تابع تانژانت قرار دارند.	۴
خرداد ۹۹ نمره ۰/۲۵	جای خالی را با عبارت مناسب پر کنید. دوره‌ی تناوب اصلی تابع $y = \tan x$ برابر ..... است.	۵
شهریور ۹۹ نمره ۰/۲۵	درستی یا نادرستی عبارت های زیر را مشخص کنید. مقدار تابع تانژانت در $x = \frac{\pi}{2}$ تعریف نشده است.	۶

۲۵/۰۳۵ نمره	دی ۹۹	جای خالی را با عدد یا عبارت مناسب پر کنید. دامنه‌ی تابع با ضابطه‌ی $y = \tan x$ به صورت $\{x \in R \mid x \neq \dots\}$ است.	۷
۲۵/۰۳۵ نمره	خرداد ۱۴۰۰	جای خالی را با عدد یا عبارت مناسب پر کنید. برد تابع تانژانت ( $y = \tan x$ ) برابر ..... است.	۸
۲۵/۰۳۵ نمره	شهریور ۱۴۰۰	درستی یا نادرستی عبارت زیر را تعیین کنید. در بازه‌ی $\frac{3\pi}{2} < \theta < 2\pi$ مقدار $\tan \theta$ از مقدار $\sin \theta$ کوچکتر است.	۹
۲۵/۰۳۵ نمره	شهریور ۱۴۰۰	جای خالی را با عدد یا کلمه‌ی مناسب کامل کنید. دوره‌ی تناوب تابع تانژانت برابر ..... می باشد.	۱۰

### معادلات مثلثاتی

برای حل هر معادله‌ی مثلثاتی باید ابتدا با انجام عملیاتی<sup>۱</sup> آن را به یکی از صورت های زیر تبدیل کرد و جواب عمومی آن را تعیین کرد.

ردیف	صورت معادله	شرط داشتن جواب	یافتن زاویه	جواب عمومی
۱	$\sin(u) = a$	$-1 \leq a \leq 1$	$\sin(u) = \sin \alpha$	$u = 2k\pi + \alpha$ $u = (2k + 1)\pi - \alpha$
۲	$\cos(u) = b$	$-1 \leq b \leq 1$	$\cos(u) = \cos \alpha$	$u = 2k\pi + \alpha$ $u = 2k\pi - \alpha$
۳	$\tan(u) = c$	-	$\tan(u) = \tan \alpha$	$u = k\pi + \alpha$
۴	$\cot(u) = d$	-	$\cot(u) = \cot \alpha$	

**تذکر:** با توجه به این جدول

(۱) اگر مقادیر  $c$  و  $a$  منفی باشد، در فرمول جواب قرینه‌ی زاویه‌ی  $\alpha$  را قرار دهید.

(۲) اگر مقادیر  $d$  و  $b$  منفی باشد، در فرمول جواب مکمل زاویه‌ی  $\alpha$  را قرار دهید.

(۳)  $\alpha$  کوچکترین زاویه‌ی غیر منفی است که تساوی به ازاء آن برقرار می باشد و آنرا **زاویه‌ی اصلی** می نامند.

<sup>۱</sup> رایج ترین این عملیات، استفاده از فرمول های مثلثاتی و فاکتور گیری است. این عملیات به دو منظور بکار می روند.  
الف: یکسان سازی نسبت های مثلثاتی  
ب: یکسان سازی زاویه‌ی مثلثاتی



سؤالات موضوعی امتحانات نهایی کشوری فصل دوم درس حسابان ۲ پایه‌ی دوازدهم رشته‌ی ریاضی فیزیک

برای تعیین زاویه‌ی اصلی در صورت وجود می‌توانید از جدول مقادیر نسبت‌های مثلثاتی استفاده کنید و در غیر این صورت می‌توانید به ذکر  $\alpha$  اکتفا کنید.

علاوه بر جدول کلی فوق در حل معادلات مثلثاتی می‌توان از حالت‌های خاص زیر نیز استفاده نمود.

$\sin(u) = 1 \rightarrow u = 2k\pi + \frac{\pi}{2}$	$\cos(u) = 0 \rightarrow u = k\pi + \frac{\pi}{2}$
$\sin(u) = 0 \rightarrow u = k\pi$	$\cos(u) = -1 \rightarrow u = 2k\pi + \pi$
$\sin(u) = -1 \rightarrow u = 2k\pi - \frac{\pi}{2}$	$\tan(u) = 0 \rightarrow u = k\pi$
$\cos(u) = 1 \rightarrow u = 2k\pi$	$\cot(u) = 0 \rightarrow u = k\pi + \frac{\pi}{2}$

۱/۲۵ نمره	دی ۹۷	۱ معادله‌ی مثلثاتی $\cos 3x - \cos x = 0$ را حل کنید.
۱/۵ نمره	خرداد ۹۸	۲ معادله‌ی $\cos 2x + \cos x + 1 = 0$ را حل کنید.
۱/۲۵ نمره	تیر ۹۸	۳ معادله‌ی $\sin 2x - \cos x = 0$ را حل کنید.
۱ نمره	شهریور ۹۸	۴ معادله‌ی $\sin 3x = \sin 2x$ را حل کنید.
۱/۵ نمره	دی ۹۸	۵ معادله‌ی $2\cos 3x - \sqrt{3} = 0$ را حل کنید.
۱/۵ نمره	خرداد ۹۹	۶ معادله‌ی $2\sin 3x - \sqrt{2} = 0$ را حل کنید.

۷	مثلثی با مساحت $۸\sqrt{۲}$ سانتی متر مربع است. اگر اندازه‌ی هر ضلع آن ۴ و ۸ سانتی متر باشد، آنگاه چند مثلث با این خاصیت وجود دارد؟	خرداد ۹۹ خ انمره ۱
۸	معادله‌ی مثلثاتی مقابل را حل کنید. $۲\sin^2 x + ۹\cos x + ۳ = ۰$	خرداد ۹۹ خ انمره ۱
۹	معادله‌ی مثلثاتی $\cos^3 x - \cos x = ۰$ را حل کنید.	شهریور ۹۹ انمره ۱/۷۵
۱۰	معادله‌ی مثلثاتی $\sin x \cos x = \frac{\sqrt{۲}}{۴}$ را حل کنید.	دی ۹۹ انمره ۱/۵
۱۱	معادله‌ی مثلثاتی $۲\cos^2 x = \sin x - ۱$ را حل کنید.	خرداد ۱۴۰۰ انمره ۱
۱۲	معادله‌ی $۲\sin x \cos x + ۳\cos x = ۰$ را حل کنید.	شهریور ۱۴۰۰ انمره ۱

تهیه کننده: جابر عامری

عضو گروه ریاضی دوره‌ی دوم متوسطه استان خوزستان

[www.mathtower.ir](http://www.mathtower.ir)

@mathameri

# فصل سوم

## ((حدهای نامتناهی، حد در بینهایت))

\*\*\*

### حدهای نامتناهی و حد در بی نهایت

فرض کنیم که تابع  $f$  در یک همسایگی راست نقطه ای مانند  $a$  تعریف شده باشد. در این صورت

$$\lim_{x \rightarrow a^+} f(x) = +\infty$$

بدین معنی است که می توانیم  $f(x)$  را به دلخواه هر قدر که بخواهیم از هر عدد مثبتی بزرگتر کنیم به شرطی که  $x$  را از سمت راست به اندازه ای کافی به  $a$  نزدیک کرده باشیم.

همچنین فرض کنیم که تابع  $f$  در یک همسایگی چپ نقطه ای مانند  $a$  تعریف شده باشد. در این صورت

$$\lim_{x \rightarrow a^-} f(x) = +\infty$$

بدین معنی است که می توانیم  $f(x)$  را به دلخواه هر قدر که بخواهیم از هر عدد مثبتی بزرگتر کنیم به شرطی که  $x$  را از سمت چپ به اندازه ای کافی به  $a$  نزدیک کرده باشیم.

به طور مشابه

فرض کنیم که تابع  $f$  در یک همسایگی راست نقطه ای مانند  $a$  تعریف شده باشد. در این صورت

$$\lim_{x \rightarrow a^+} f(x) = -\infty$$

بدین معنی است که می توانیم  $f(x)$  را به دلخواه هر قدر که بخواهیم از هر عدد منفی کوچکتر کرد به شرطی که  $x$  را از سمت راست به اندازه ای کافی به  $a$  نزدیک کرده باشیم.

فرض کنیم که تابع  $f$  در یک همسایگی چپ نقطه ای مانند  $a$  تعریف شده باشد. در این صورت

$$\lim_{x \rightarrow a^-} f(x) = -\infty$$

بدین معنی است که می توانیم  $f(x)$  را به دلخواه هر قدر که بخواهیم از هر عدد منفی کوچکتر کرد به شرطی که  $x$  را از سمت چپ به اندازه ی کافی به  $a$  نزدیک کرده باشیم.

اکنون **حدهای نامتناهی** را به صورت زیر تعریف می کنیم.

فرض کنید تابع  $f$  در همسایگی محذوف  $a$  تعریف شده باشد. در این صورت

$$\lim_{x \rightarrow a} f(x) = +\infty$$

یعنی اینکه می توانیم  $f(x)$  را به دلخواه هر قدر که بخواهیم از هر عدد مثبتی بزرگتر کنیم به شرطی که  $x$  را از هر دو سمت راست و چپ به اندازه ی کافی به  $a$  نزدیک کرده باشیم.

همچنین فرض کنید تابع  $f$  در همسایگی محذوف  $a$  تعریف شده باشد. در این صورت

$$\lim_{x \rightarrow a} f(x) = -\infty$$

یعنی اینکه می توانیم  $f(x)$  را به دلخواه هر قدر که بخواهیم از هر عدد منفی کوچکتر کنیم به شرطی که  $x$  را از هر دو سمت راست و چپ به اندازه ی کافی به  $a$  نزدیک کرده باشیم.

و اما **حد در بی نهایت** را به صورت زیر تعریف می کنیم.

**الف:** اگر تابع  $f(x)$  در بازه ای مانند  $(a, +\infty)$  تعریف شده باشد، گوییم حد  $f(x)$  وقتی  $x$  به سمت بی نهایت میل می

کند برابر  $l$  است و می نویسیم  $\lim_{x \rightarrow +\infty} f(x) = l$  هرگاه بتوان با اختیار  $x$  های به قدر کافی بزرگ، فاصله ی  $f(x)$  از  $l$

را به هر اندازه کوچک کرد.

**ب:** اگر تابع  $f(x)$  در بازه ای مانند  $(-\infty, a)$  تعریف شده باشد، گوییم حد  $f(x)$  وقتی  $x$  به سمت بی نهایت میل می

کند برابر  $l$  است و می نویسیم  $\lim_{x \rightarrow -\infty} f(x) = l$  هرگاه بتوان با اختیار  $x$  های به قدر کافی بزرگ، فاصله ی  $f(x)$  از  $l$

را به هر اندازه کوچک کرد.

اکنون به تعاریف زیر توجه کنید.

الف : برای هر تابع مانند  $f$  که در بازه ی  $(a, +\infty)$  تعریف شده باشد، اگر با بزرگ شدن مقادیر  $x$  مقادیر  $f(x)$  از هر عدد دلخواه مثبت بزرگتر شوند، می نویسند.

$$\lim_{x \rightarrow +\infty} f(x) = +\infty$$

ب: برای هر تابع مانند  $f$  که در بازه‌ی  $(a, +\infty)$  تعریف شده باشد، اگر با بزرگ شدن مقادیر  $x$  مقادیر  $f(x)$  از هر عدد دلخواه منفی کوچکتر شوند، می‌نویسند.

$$\lim_{x \rightarrow +\infty} f(x) = -\infty$$

ج: برای هر تابع مانند  $f$  که در بازه‌ی  $(-\infty, a)$  تعریف شده باشد، اگر با بزرگ شدن مقادیر  $x$  مقادیر  $f(x)$  از هر عدد دلخواه مثبت بزرگتر شوند، می‌نویسند.

$$\lim_{x \rightarrow -\infty} f(x) = +\infty$$

د: برای هر تابع مانند  $f$  که در بازه‌ی  $(-\infty, a)$  تعریف شده باشد، اگر با بزرگ شدن مقادیر  $x$  مقادیر  $f(x)$  از هر عدد دلخواه منفی کوچکتر شوند، می‌نویسند.

$$\lim_{x \rightarrow -\infty} f(x) = -\infty$$

توجه: در حد توابع چند جمله‌ای، با توجه به روش فاکتورگیری نتیجه می‌شود، که حد تابع چند جمله‌ای، با حد جمله‌ای از آن که دارای بیشترین توان باشد، برابر است. از این به بعد در یک چند جمله‌ای، جمله‌ای که دارای بیشترین توان باشد، را **جمله‌ی ارشد** نام گذاری می‌کنیم.

به طور مشابه برای محاسبه‌ی حد توابع کسری<sup>۱</sup>، مانند توابع چند جمله‌ای، ابتدا جملات ارشد را از صورت و مخرج انتخاب نموده و پس از ساده کردن، حد را محاسبه می‌کنیم به استدلال زیر توجه کنید.

در محاسبه‌ی حد توابع کسری نظیر  $f(x) = \frac{p(x)}{q(x)}$  وقتی که  $x \rightarrow \pm\infty$  به شکل زیر عمل می‌کنیم.

$$\lim_{x \rightarrow \pm\infty} f(x) = \lim_{x \rightarrow \pm\infty} \frac{p(x)}{q(x)} = \frac{\lim_{x \rightarrow \pm\infty} p(x)}{\lim_{x \rightarrow \pm\infty} q(x)} = \frac{a \lim_{x \rightarrow \pm\infty} x^n}{b \lim_{x \rightarrow \pm\infty} x^m} = \frac{a}{b} \lim_{x \rightarrow \pm\infty} x^{n-m}$$

که در آن  $ax^n$  جمله‌ی ارشد صورت و  $bx^m$  جمله‌ی ارشد مخرج فرض شده است.

نتیجه می‌شود که در محاسبه‌ی حد توابع کسری سه حالت وجود دارد.

الف) توان جمله‌ی ارشد صورت از توان جمله‌ی ارشد مخرج، بیشتر باشد. در این صورت جواب مثبت بی‌نهایت یا منفی بی‌نهایت می‌شود.

ب) توان جمله‌ی ارشد صورت از توان جمله‌ی ارشد مخرج، کمتر باشد. در این صورت جواب صفر حدی می‌شود.

<sup>۱</sup>. تابعی که صورت و مخرج آن چند جمله‌ای باشند.

سؤالات موضوعی امتحانات نهایی کشوری فصل سوم درس حسابان ۲ پایه‌ی دوازدهم رشته‌ی ریاضی فیزیک

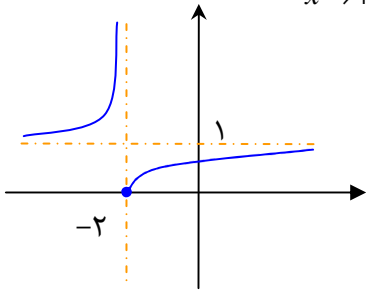
ج) توان جمله‌ی ارشد صورت و مخرج برابر باشد. در این صورت جواب عددی غیر صفر بوده و برابر نسبت ضریب های جملات ارشد می شود.

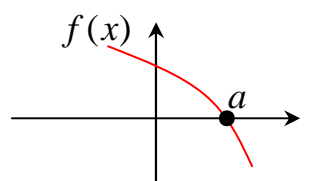
برای محاسبه‌ی حد تابع رادیکالی با فرجه‌ی ۲ (اصم)، با توجه به روش فاکتورگیری هم ارزی های زیر حاصل می شود. این هم ارزی ها را هم ارزی های نیوتن می نامند. توجه داشته باشید که دو تابع را هم ارزی گویند هرگاه حد برابر داشته باشند.

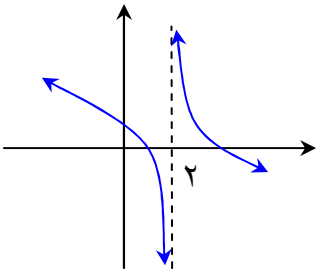
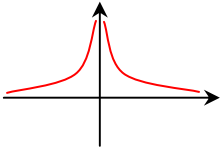
$$\lim_{x \rightarrow +\infty} \sqrt{ax^2 + bx + c} \equiv \lim_{x \rightarrow +\infty} \sqrt{a} \left(x + \frac{b}{2a}\right)$$

$$\lim_{x \rightarrow -\infty} \sqrt{ax^2 + bx + c} \equiv - \lim_{x \rightarrow -\infty} \sqrt{a} \left(x + \frac{b}{2a}\right)$$

در این دو هم ارزی عدد  $a$  مثبت فرض شده است و اگر منفی باشد، تابع دارای حد نیست.

۱/۵ نمره	دی ۹۷	حدود زیر را به دست آورید. الف) $\lim_{x \rightarrow 2^+} \frac{2x+1}{4-x^2}$ ب) $\lim_{x \rightarrow +\infty} \frac{4x^5 + 3x^3 + 1}{-3x^5 + 3x^2 + 3}$	۱
۰/۲۵ نمره	خرداد ۹۸	درستی یا نادرستی عبارت زیر را تعیین کنید. حاصل $\lim_{x \rightarrow 3^+} \frac{x+1}{9-x^2}$ برابر با $-\infty$ است.	۲
۰/۲۵ نمره	خرداد ۹۸	جای خالی را با عدد یا عبارت مناسب کامل کنید. حاصل حد $\lim_{x \rightarrow +\infty} \frac{3x+5}{x-2}$ برابر با ..... است.	۳
۱/۲۵ نمره	تیر ۹۸	حدود زیر را به دست آورید. الف) $\lim_{x \rightarrow (-1)^-} \frac{x^2 + x}{x^2 + 2x + 1}$ ب) $\lim_{x \rightarrow -\infty} \frac{5x^3 + 2x - 1}{-2x^3 + 4}$	۴
۰/۵ نمره	شهریور ۹۸	با توجه به نمودار تابع $f$ که در شکل زیر آورده شده است. به سؤالات زیر پاسخ دهید. الف) $\lim_{x \rightarrow (-2)^-} f(x) = \dots$ ب) $\lim_{x \rightarrow +\infty} f(x) = \dots$ 	۵

شهریور ۹۸	شماره ۱/۷۵	<p>حدهای زیر را محاسبه کنید.</p> <p>پ) <math>\lim_{x \rightarrow +\infty} \frac{x^3 + 1}{2x^3 - 4x}</math>    ب) <math>\lim_{x \rightarrow -\infty} (-2x^3 + x - 1)</math>    الف) <math>\lim_{x \rightarrow 1^+} \frac{x^2 - 1}{(x-1)^2}</math></p>	۶
دی ۹۸	شماره ۰/۵	<p>جای خالی را با عدد یا عبارت مناسب کامل کنید.</p> <p>حاصل <math>\lim_{x \rightarrow +\infty} (3 - 2x - 5x^4)</math> برابر با ..... است.</p>	۷
دی ۹۸	شماره ۱/۵	<p>حاصل حدهای زیر را به دست آورید.</p> <p>ب) <math>\lim_{x \rightarrow +\infty} \left( \frac{3x+1}{x-5} - \frac{2}{x} \right)</math>    الف) <math>\lim_{x \rightarrow 3^+} \frac{[x]-2}{3-x}</math></p>	۸
خرداد ۹۹	شماره ۲	<p>حدود زیر را محاسبه کنید.</p> <p>ب) <math>\lim_{x \rightarrow \pm\infty} \frac{2x^2 - x + 1}{4x^3 + 2x - 1}</math>    الف) <math>\lim_{x \rightarrow 0^+} \frac{x^2 + x}{x^2}</math></p>	۹
خرداد ۹۹ خ	شماره ۱/۲۵	<p>نمودار تابع <math>f</math> به صورت مقابل است.</p>  <p>الف: حدود زیر را محاسبه کنید.</p> <p>ب) <math>\lim_{x \rightarrow a^-} \frac{-2x}{f(x)}</math>    الف) <math>\lim_{x \rightarrow a^+} \frac{-2x}{f(x)}</math></p> <p>ب: نمودار تابع <math>y = \frac{-2x}{f(x)}</math> در اطراف نقطه‌ی <math>x = a</math> چگونه است؟</p>	۱۰
خرداد ۹۹ خ	شماره ۱	<p>حدهای زیر را به دست آورید.</p> <p>ب) <math>\lim_{x \rightarrow +\infty} \frac{x - 2x^2}{4x^3 + 2x - 1}</math>    الف) <math>\lim_{x \rightarrow 3^+} \frac{[x]-2}{3-x}</math></p>	۱۱
شهریور ۹۹	شماره ۱/۵	<p>حدود زیر را محاسبه کنید.</p> <p>ب) <math>\lim_{x \rightarrow \pm\infty} \frac{x^2 + 1}{x^3 + 2x^2 + 1}</math>    الف) <math>\lim_{x \rightarrow \frac{\pi}{2}} \frac{x+1}{\tan x}</math></p>	۱۲
دی ۹۹	شماره ۱	<p>حدهای زیر را محاسبه کنید.</p> <p>ب) <math>\lim_{x \rightarrow -\infty} \frac{5x - x^3}{3x^2 + 2}</math>    الف) <math>\lim_{x \rightarrow (-1)^-} \frac{[x]+1}{x+1}</math></p>	۱۳

نمره ۰/۵	دی ۹۹	<p>در نمودار تابع <math>f(x)</math> موارد زیر را مشخص کنید.</p>  <p>الف) <math>\lim_{x \rightarrow 2^+} f(x)</math>      ب) <math>\lim_{x \rightarrow 2^-} f(x)</math></p>	۱۴
نمره ۱	خرداد ۱۴۰۰	<p>حدهای زیر را محاسبه کنید.</p> <p>الف) <math>\lim_{x \rightarrow 2^-} \frac{x+1}{ x-2 }</math>      ب) <math>\lim_{x \rightarrow +\infty} \frac{3 + \frac{1}{x}}{\frac{4}{x} - 2}</math></p>	۱۵
نمره ۰/۲۵	خرداد ۱۴۰۰	<p>جای خالی را با عدد یا عبارت مناسب پر کنید.</p> <p>با توجه به شکل مقابل حد-تابع <math>f(x) = \frac{1}{ x }</math> در نقطه‌ی <math>x = 0</math> برابر است با .....</p> 	۱۶
نمره ۲/۵	شهریور ۱۴۰۰	<p>حدهای زیر را محاسبه کنید.</p> <p>الف) <math>\lim_{x \rightarrow 0^+} \frac{\sin 5x + [-x]}{2x}</math>      ب) <math>\lim_{x \rightarrow -\infty} \frac{x^2 + 2}{5 - x}</math></p>	۱۷

\*\*\*

### مجانبات افقی و مجانبات قائم

فرض کنید که  $a$  یک عدد حقیقی باشد، خط  $x = a$  را مجانبات قائم نمودار تابع  $f(x)$  گویند، هرگاه حداقل یکی از

شرایط زیر برقرار باشد.

الف)  $\lim_{x \rightarrow a^+} f(x) = +\infty$

ج)  $\lim_{x \rightarrow a^+} f(x) = -\infty$

ب)  $\lim_{x \rightarrow a^-} f(x) = +\infty$

د)  $\lim_{x \rightarrow a^-} f(x) = -\infty$



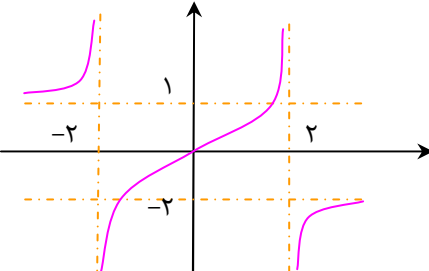
برای محاسبه‌ی مجانب قائم در توابع کسری، مخرج کسر را مساوی صفر قرار می دهیم، ریشه های مخرج مجانب قائم تابع  $f$  هستند، به شرط اینکه این ریشه ها، صورت را صفر نکنند.

خط  $y = L$  را مجانب نمودار  $y = f(x)$  می نامیم، هرگاه حداقل یکی از دو شرط زیر برقرار باشد.

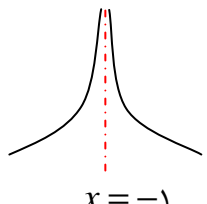
الف)  $\lim_{x \rightarrow +\infty} f(x) = L$

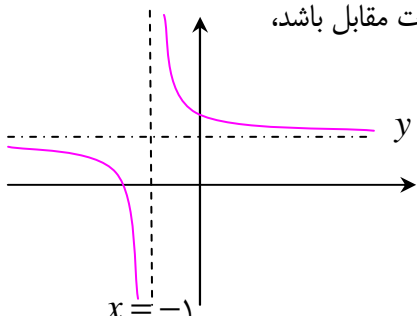
ب)  $\lim_{x \rightarrow -\infty} f(x) = L$

برای محاسبه‌ی مجانب افقی یک تابع، کافی است که حد تابع را در بی نهایت ( مثبت یا منفی یا هر دو ) محاسبه کنیم و در صورتی که این حد عدد حقیقی  $L$  شود، معادله‌ی  $y = L$  مجانب افقی تابع است.

دی ۹۷	نمره ۱/۵	۱	مجانب های قائم و افقی تابع $f(x) = \frac{3x}{x^3 - 1}$ را بیابید.
خرداد ۹۸	نمره ۱/۵	۲	کدام یک از خطوط $x = 3$ و $x = -1$ مجانب قائم $f(x) = \frac{x^2 - 4x + 3}{x^2 - 2x - 3}$ می باشد؟ دلیل پاسخ خود را بنویسید.
خرداد ۹۸	نمره ۰/۵	۳	با توجه به نمودار تابع $f$ که در زیر آمده است. معادلات مجانب های افقی تابع را بنویسید. 
تیر ۹۸	نمره ۱/۲۵	۴	مجانب های قائم و افقی تابع $f(x) = \frac{1 + 2x^2}{1 - x^2}$ را بیابید.
شهریور ۹۸	نمره ۰/۷۵	۵	مجانب قائم و افقی نمودار تابع $y = \frac{x + 3}{2 - x}$ را بنویسید.
دی ۹۸	نمره ۱	۶	مجانب قائم و افقی نمودار تابع $f(x) = \frac{x^2 + x}{x^2 - x}$ را بنویسید.

<sup>2</sup> . در صورتی که صورت کسر توسط این ریشه صفر شود، حالت  $\frac{0}{0}$  اتفاق می افتد که بعد از رفع ابهام، اگر حاصل حد تابع  $f$  در  $x = a$  برابر  $+\infty$  یا  $-\infty$  شود، باز هم خط  $x = a$  مجانب قائم نمودار تابع  $f$  است.

۰/۵ نمره	۹۹ خرداد	<p>۷ نمودار تابع <math>f</math> را به گونه‌ای رسم کنید که تمامی شرایط زیر را دارا باشد.                      الف: <math>f(1) = f(-2) = 0</math>                      ب: <math>\lim_{x \rightarrow 2^+} f(x) = +\infty</math> و <math>\lim_{x \rightarrow 0} f(x) = -\infty</math>                      ج: خط <math>y = -1</math> مجانب افقی آن باشد.</p>
۲ نمره	۹۹ خرداد	<p>۸ مجانب‌های قائم و افقی نمودار تابع <math>y = \frac{x}{x^2 - 4}</math> را در صورت وجود بدست آورید.</p>
۱/۲۵ نمره	۹۹ خرداد	<p>۹ نمودار تابع <math>f</math> را به گونه‌ای رسم کنید که تمامی شرایط زیر را دارا باشد.                      الف: <math>f(1) = f(-2) = 0</math>                      ب: <math>\lim_{x \rightarrow 2^+} f(x) = +\infty</math> و <math>\lim_{x \rightarrow 0^-} f(x) = -\infty</math>                      ج: خط <math>y = -1</math> مجانب افقی آن باشد.</p>
۱/۵ نمره	۹۹ خرداد	<p>۱۰ مجانب‌های قائم و افقی و قائم‌تابع زیر را به دست آورید.  <math display="block">y = \frac{2x + 5}{ x  - 1}</math></p>
۲ نمره	۹۹ شهریور	<p>۱۱ مجانب‌های قائم و افقی نمودار تابع <math>y = \frac{1 + 2x^2}{1 - x^2}</math> را در صورت وجود به دست آورید.</p>
۱ نمره	۹۹ شهریور	<p>۱۲ نمودار تابع <math>f(x) = \frac{x+1}{x^3+x}</math> در نزدیکی مجانب قائم آن به چه صورتی می‌باشد؟</p>
۱ نمره	۹۹ شهریور	<p>۱۳ اگر رفتار تابع <math>f(x) = \frac{x+3}{x^2+bx+c}</math> در اطراف نقطه‌ی <math>x = -1</math> به صورت شکل زیر باشد، مقادیر <math>b</math> و <math>c</math> را به دست آورید.</p>  <p style="text-align: center;"><math>x = -1</math></p>
۱/۵ نمره	۹۹ دی	<p>۱۴ مجانب‌های قائم و افقی نمودار تابع <math>f(x) = \frac{4x^2 + 1}{2x^2 + x}</math> را در صورت وجود بیابید.</p>
۱/۲۵ نمره	۱۴۰۰ خرداد	<p>۱۵ مجانب‌های قائم و افقی نمودار تابع <math>f(x) = \frac{1 - 2x^2}{x^2 - 1}</math> را در صورت وجود بیابید.</p>

انصره	شهریور ۱۴۰۰	<p>اگر نمودار تابع <math>f(x) = \frac{(a+1)x+7}{2x+b}</math> به صورت مقابل باشد،                  آنگاه مقدار <math>a</math> و <math>b</math> را پیدا کنید.</p> 	۱۶
انصره	شهریور ۱۴۰۰	<p>مجانِب های قائم و افقی منحنی تابع <math>y = \frac{x+1}{x^2+3}</math> را در صورت وجود بیابید.</p>	۱۷

تهیه کننده: جابر عامری

عضو گروه ریاضی دوره دوم متوسطه استان خوزستان

[www.mathtower.ir](http://www.mathtower.ir)

@amerimath

# (( فصل چهارم : مشتق ))

\*\*\*

## مفهوم مشتق

اگر  $y = f(x)$  یک تابع پیوسته در نقطه‌ی  $x = a$  باشد. در این صورت مشتق تابع  $y = f(x)$  در نقطه‌ی  $x = a$  را

به صورت زیر تعریف می‌کنند و آنرا با  $f'(a)$  یا  $\left. \frac{df}{dx} \right|_{x=a}$  نمایش می‌دهند.

$$f'(a) = \lim_{x \rightarrow a} \frac{f(x) - f(a)}{x - a}$$

۰/۲۵ نمره	دی ۹۷	<p>۱ جای خالی را با عدد یا عبارت مناسب پر کنید.</p> <p>مشتق تابع <math>f(x) = \sqrt{2x-1}</math> در نقطه‌ی <math>x=1</math> به طول یک روی منحنی تابع، عدد ..... است.</p>
۰/۲۵ نمره	تیر ۹۸	<p>۲ جای خالی را با عدد یا عبارت مناسب پر کنید.</p> <p>مشتق تابع <math>f(x) = \frac{x}{x+1}</math> در نقطه‌ی <math>x=2</math> به طول ۲ روی منحنی تابع، عدد ..... است.</p>
		۳

## محاسبه‌ی مشتق تابع در یک نقطه

مشتق تابع  $y = f(x)$  در نقطه‌ی  $x = a$ ، با شیب خط مماس بر نمودار تابع در این نقطه برابر است.

$$m = f'(a)$$

معادله‌ی خط مماس بر نمودار تابع  $y = f(x)$  در نقطه‌ی  $x = a$  از رابطه‌ی زیر به دست می‌آید.

$$y = m(x - a) + b$$

۱ نمره	تیر ۹۸	<p>۱ اگر <math>f(x) = x^2 - 3x</math> باشد. با استفاده از تعریف <math>f'(1)</math> را حساب کنید.</p>
-----------	-----------	--

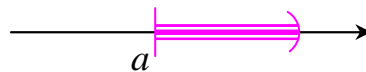
۱/۵ نمره	خرداد ۹۹ خ	با استفاده از تعریف مشتق، معادله ی خط مماس بر منحنی تابع $f(x) = \sqrt{x-2}$ را در نقطه ی $x=3$ به دست آورید.	۲
۱/۲۵ نمره	شهریور ۹۹	اگر $f(x) = x^2 - 3x$ باشد، با استفاده از تعریف مشتق $f'(1)$ را حساب کنید.	۳
۰/۲۵ نمره	۱۴۰۰	شیب خط مماس بر منحنی $y = 1 - 5x^2 - 2x$ در نقطه ای به طول $-2$ واقع بر آن برابر .... است.	۴

### مشتق پذیری و پیوستگی

اگر تابع  $f$  در نقطه ی  $a$  و یک همسایگی راست  $a$  تعریف شده باشد، حد یک طرفه ی  $\lim_{x \rightarrow a^+} \frac{f(x) - f(a)}{x - a}$  را در

صورت وجود، **مشتق راست** تابع  $f$  در نقطه ی  $a$  می نامند و آن را با نماد  $f'_+(a)$  نمایش می دهند.

$$\text{مشتق راست } f'_+(a) = \lim_{x \rightarrow a^+} \frac{f(x) - f(a)}{x - a}$$



اگر تابع  $f$  در نقطه ی  $a$  و یک همسایگی چپ  $a$  تعریف شده باشد، حد یک طرفه ی  $\lim_{x \rightarrow a^-} \frac{f(x) - f(a)}{x - a}$  را در

صورت وجود، **مشتق چپ** تابع  $f$  در نقطه ی  $a$  می نامند و آن را با نماد  $f'_-(a)$  نمایش می دهند.

$$\text{مشتق چپ } f'_-(a) = \lim_{x \rightarrow a^-} \frac{f(x) - f(a)}{x - a}$$



تابع  $y = f(x)$  در نقطه ی  $x = a$  مشتق پذیر گویند، هرگاه:

$$(\lim_{x \rightarrow a^+} f(x) = \lim_{x \rightarrow a^-} f(x) = f(a))$$

(ب) مشتق راست و مشتق چپ آن در این نقطه موجود و برابر باشند. ( $f'_+(a) = f'_-(a)$ )

در غیر این صورت تابع در نقطه ی  $x = a$  مشتق پذیر نیست.

**قضیه:** اگر تابعی در یک نقطه مشتق پذیر باشد، آنگاه در آن نقطه نیز پیوسته خواهد بود.

**توجه:**

۱: عکس قضیه‌ی فوق الزاماً برقرار نیست. یعنی ممکن است یک تابع در یک نقطه پیوسته باشد ولی در آن نقطه مشتق

پذیر نیست. مانند تابع  $f(x) = |x|$  که در نقطه‌ی  $x = 0$  پیوسته است ولی در این نقطه مشتق پذیر نیست.

۲: اگر تابعی در یک نقطه پیوسته نباشد، در آن نقطه مشتق پذیر نیست.

**نتیجه:** در هر یک از موارد زیر، یک تابع در یک نقطه مانند  $x = a$  مشتق پذیر نیست.

۱: تابع در این نقطه پیوسته نباشد.

۲: تابع در این نقطه پیوسته است ولی مشتق راست و چپ تابع در این نقطه موجود (متناهی) ولی برابر نباشند.

در این مورد نقطه‌ی داده شده را **نقطه‌ی گوشه‌ای** (نقطه‌ی زاویه دار) می‌گویند و خطوط مماس را **نیم مماس چپ**

و **نیم مماس راست** می‌نامند.

۳: تابع در این نقطه پیوسته است ولی مشتق راست یا چپ تابع در این نقطه یکی عدد (متناهی) و دیگری بی نهایت

(نامتناهی) شود.

در این مورد نیز نقطه‌ی داده شده را **نقطه‌ی گوشه‌ای** (نقطه‌ی زاویه دار) می‌گویند و خطوط مماس را **نیم مماس**

**چپ** و **نیم مماس راست** می‌نامند.

۴: تابع در این نقطه پیوسته است ولی مشتق راست یا چپ تابع یکی  $+\infty$  و دیگری  $-\infty$  شود.

۵: تابع در این نقطه پیوسته است ولی مشتق راست یا چپ تابع هر دو  $+\infty$  یا هر دو  $-\infty$  شوند.

**توجه:**

۱: اگر تابعی در همسایگی (راست یا چپ) این نقطه تعریف نشده باشد. تابع در آن نقطه پیوسته نیست و لذا مشتق پذیر

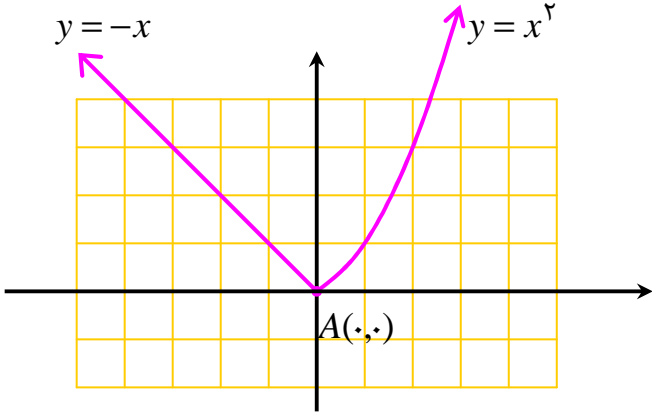
نمی‌باشد.

۲: اگر تابع  $f$  در  $a$  پیوسته بوده و  $+\infty$   $\vee$   $-\infty$   $\lim_{x \rightarrow a} \frac{f(x) - f(a)}{x - a}$

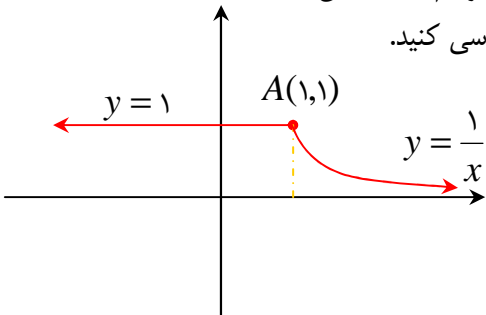
باشد، آنگاه خط  $x = a$  که از نقطه‌ی  $A(a, f(a))$  می‌گذرد و **خط مماس قائم** بر نمودار  $f$  گفته می‌شود.

سؤالات موضوعی امتحانات نهایی کشوری فصل چهارم درس حسابان ۲ پایه‌ی دوازدهم رشته‌ی ریاضی فیزیک

۱ نمره	دی ۹۷	مشتق پذیری تابع $f(x) =  x - 2 $ را در $x = 2$ بررسی کنید.
۱/۷۵ نمره	خرداد ۹۸	نشان دهید، نقطه‌ی به طول $x = -1$ ، نقطه‌ی گوشه‌ی ای برای تابع $f(x) =  x^2 + x $ می‌باشد.
۱/۲۵ نمره	خرداد ۹۸	<b>قضیه:</b> ثابت کنید اگر تابع $f$ در $x = a$ مشتق پذیر باشد، آنگاه $f$ در $x = a$ پیوسته است.
۰/۷۵ نمره	تیر ۹۸	نشان دهید $x = 0$ مماس قائم برای تابع $f(x) = \sqrt[3]{x}$ است.
۲ نمره	شهریور ۹۸	مشتق پذیری تابع $f(x) =  x^2 - 4 $ را در $x = 2$ بررسی کنید.
۱/۲۵ نمره	دی ۹۸	مشتق پذیری تابع مقابل را در نقطه‌ی $x = 1$ بررسی کنید. $f(x) = \begin{cases} x^2 + 3 & x \geq 1 \\ 3x + 1 & x < 1 \end{cases}$
۰/۲۵ نمره	خرداد ۹۹	درستی یا نادرستی عبارت زیر را مشخص کنید. اگر تابع $f$ در $x = a$ پیوسته نباشد، در آنگاه $f$ در $a$ مشتق پذیر هم نیست.
۲ نمره	خرداد ۹۹	مشتق پذیری تابع $f(x) =  x^2 - 1 $ را در $x = 1$ بررسی کنید.
۰/۲۵ نمره	خرداد ۹۹	درستی یا نادرستی عبارت زیر را مشخص کنید. تابع $f(x) =  x $ در نقطه‌ی $x = 0$ مشتق پذیر نیست.
۰/۲۵ نمره	خرداد ۹۹	جای خالی را کامل کنید. خط $x = 1$ بر منحنی $f(x) = \sqrt[3]{x-1}$ ، ..... است.

<p>۱/۵ نمره</p> <p>خرداد ۹۹ خ</p>		<p>۱۱ با محاسبه‌ی مشتق چپ و راست در نقطه‌ی <math>A</math>، نشان دهید که تابع در نقطه‌ی <math>A</math> مشتق پذیر نیست.</p> 	<p>۱۱</p>
<p>۲/۲۵ نمره</p> <p>خرداد ۹۹ خ</p>		<p>۱۲ درستی یا نادرستی عبارت زیر را مشخص کنید. اگر تابع <math>f</math> در <math>x = a</math> پیوسته باشد، آنگاه در این نقطه مشتق پذیر است.</p>	<p>۱۲</p>
<p>۱ نمره</p> <p>خرداد ۹۹ خ</p>		<p>۱۳ تابع <math>f(x) = \begin{cases} ax + b &amp; x &gt; 1 \\ x^3 - 2x &amp; x \leq 1 \end{cases}</math> در <math>x = 1</math> مشتق پذیر است. حاصل <math>a</math> و <math>b</math> را به دست آورید.</p>	<p>۱۳</p>
<p>۲ نمره</p> <p>شهریور ۹۹</p>		<p>۱۴ مشتق پذیری تابع <math>f(x) = \begin{cases} x^2 &amp; x \leq 0 \\ x &amp; x &gt; 0 \end{cases}</math> را در <math>x = 0</math> بررسی کنید.</p>	<p>۱۴</p>
<p>۲/۲۵ نمره</p> <p>شهریور ۹۹</p>		<p>۱۵ درستی یا نادرستی عبارت زیر را مشخص کنید. خط <math>x = 1</math> مماس قائم منحنی <math>f(x) = \sqrt[3]{x}</math> است.</p>	<p>۱۵</p>
<p>۲/۲۵ نمره</p> <p>دی ۹۹</p>		<p>۱۶ درستی یا نادرستی عبارت زیر را تعیین کنید. اگر خط <math>x = a</math> مماس قائم بر منحنی تابع <math>f(x)</math> در نقطه‌ی <math>(a, f(a))</math> باشد، آنگاه <math>f'(a)</math> موجود است.</p>	<p>۱۶</p>
<p>۱/۵ نمره</p> <p>دی ۹۹</p>		<p>۱۷ مشتق پذیری تابع <math>f(x) = \begin{cases} x^2 + 1 &amp; x \geq 1 \\ 2x &amp; x &lt; 1 \end{cases}</math> را در نقطه‌ی <math>x = 1</math> بررسی کنید.</p>	<p>۱۷</p>
<p>۲/۲۵ نمره</p> <p>خرداد ۱۴۰۰</p>		<p>۱۸ جای خالی را با عدد یا عبارت مناسب پر کنید. اگر تابع <math>f</math> در <math>x = a</math> مشتق پذیر باشد، آنگاه <math>f</math> در <math>a</math> ... است.</p>	<p>۱۸</p>



۱ نمره	خرداد ۱۴۰۰	<p>با محاسبه‌ی مشتق راست و مشتق چپ تابع رسم شده مقابل: مشتق پذیری تابع را در نقطه‌ی <math>A(1,1)</math> بررسی کنید.</p> 	۱۹
۰/۲۵ نمره	شهریور ۱۴۰۰	<p>درستی یا نادرستی عبارت زیر را تعیین کنید. تابع <math>f(x) = [x]</math> در نقطه‌ی <math>x = 0</math> مشتق پذیر است.</p>	۲۰
۱/۵ نمره	شهریور ۱۴۰۰	<p>مشتق پذیری تابع <math>f(x) = 4x(1 -  x )</math> را در نقطه‌ی <math>x = 0</math> بررسی کنید.</p>	۲۱

### تعبیر هندسی مشتق

مشتق تابع  $y = f(x)$  در نقطه‌ی  $x = a$ ، با شیب خط مماس بر نمودار تابع در این نقطه برابر است.

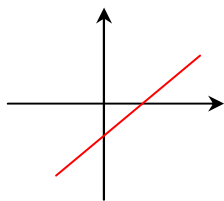
$$m = \lim_{h \rightarrow 0} \frac{f(a+h) - f(a)}{h}$$

شیب خط مماس در صورت وجود

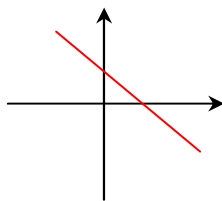
همچنین

$$m = \lim_{x \rightarrow a} \frac{f(x) - f(a)}{x - a}$$

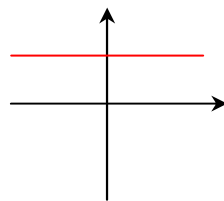
شیب خط مماس در صورت وجود



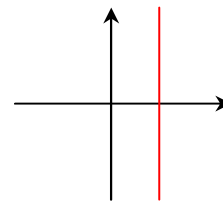
شیب خط مثبت است



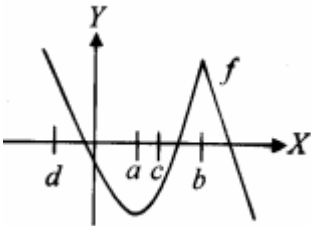
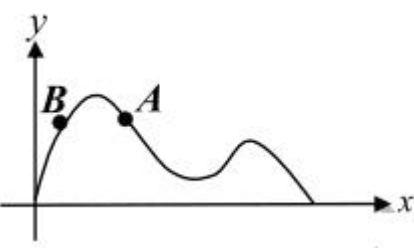
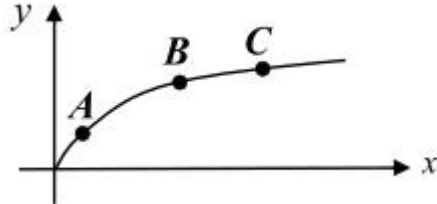
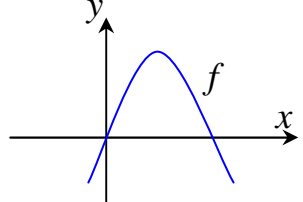
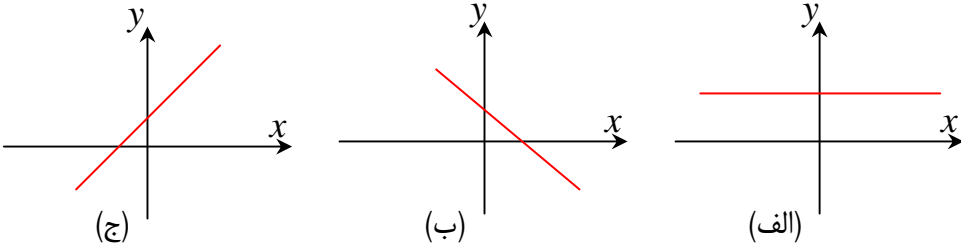
شیب خط منفی است

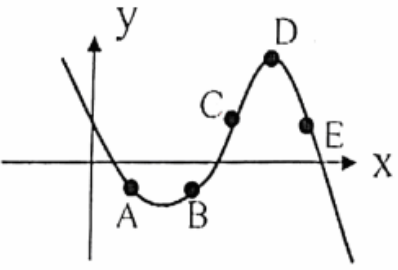
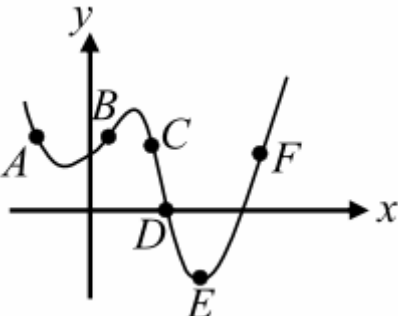


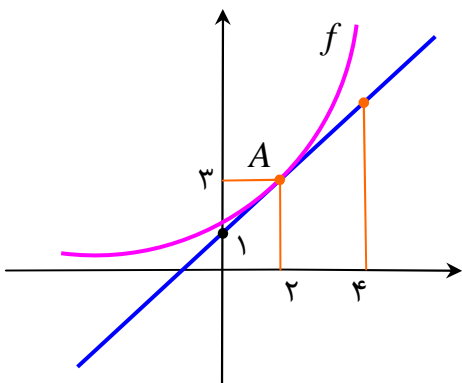
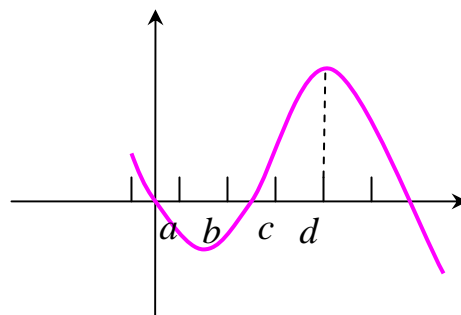
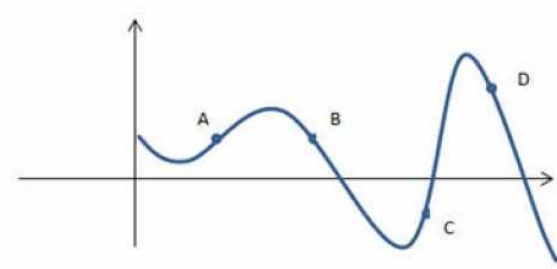
شیب خط صفر است

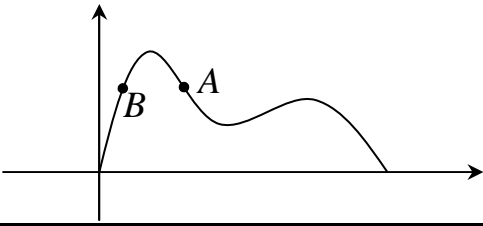
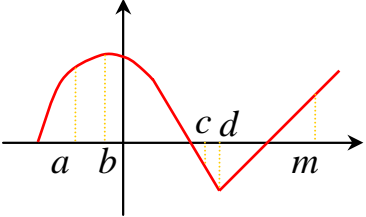


شیب خط تعریف نشده

<p>نمره ۰/۷۵</p> <p>دی ۹۷</p>		<p>با در نظر گرفتن نمودار <math>f</math> در شکل، به سئوالات زیر پاسخ دهید.</p> <p>الف: طول نقطه ای که مماس در آن افقی باشد.</p> <p>ب: طول نقطه ای که مشتق در آن مقداری منفی است.</p> <p>پ: طول نقطه ای که تابع در آن مشتق پذیر نیست.</p> 	<p>۱</p>
<p>نمره ۰/۲۵</p> <p>خرداد ۹۸</p>		<p>درستی یا نادرستی عبارت زیر را با توجه به شکل داده شده، مشخص کنید.</p> <p>در شکل روبرو، شیب خطوط مماس در نقاط <math>A</math> و <math>B</math> مثبت است.</p> 	<p>۲</p>
<p>نمره ۰/۲۵</p> <p>خرداد ۹۸</p>		<p>جای خالی را با عدد یا عبارت مناسب پر کنید.</p> <p>با توجه به شکل روبرو، شیب خط مماس بر منحنی در نقطه ای ..... بزرگتر از شیب خط مماس بر منحنی در نقطه <math>B</math> است.</p> 	<p>۳</p>
<p>نمره ۰/۷۵</p> <p>خرداد ۹۸</p>		<p>نمودار تابع <math>f</math> در شکل روبرو آمده است.</p> <p>با بیان دلیل، مشخص کنید کدامیک از نمودارهای زیر، نمودار مشتق تابع <math>f</math> است.</p>   <p>(الف) (ب) (ج)</p>	<p>۴</p>

<p>۱ نمره</p>	<p>تیر ۹۸</p>	<p>۵ نقاط داده شده روی منحنی زیر را با شیب ارائه شده در جدول نظیر کنید.</p>  <table border="1" data-bbox="667 600 1056 864"> <thead> <tr> <th>شیب</th> <th>نقطه</th> </tr> </thead> <tbody> <tr> <td>۰</td> <td></td> </tr> <tr> <td>۲</td> <td></td> </tr> <tr> <td>۰/۵</td> <td></td> </tr> <tr> <td>-۰/۵</td> <td></td> </tr> </tbody> </table>	شیب	نقطه	۰		۲		۰/۵		-۰/۵		<p>۵</p>
شیب	نقطه												
۰													
۲													
۰/۵													
-۰/۵													
<p>۰/۷۵ نمره</p>	<p>شهریور ۹۸</p>	<p>۶ با توجه به نمودار داده شده، گزینه‌ی مناسب را انتخاب کنید.</p> <p>(i) در کدام نقطه، مماس افقی بر نمودار رسم می‌شود؟ الف) <math>B</math> ب) <math>E</math></p> <p>(ii) شیب خط مماس در نقطه‌ی <math>F</math> چه علامتی دارد؟ الف) مثبت ب) منفی</p> <p>(iii) شیب خط مماس بر نمودار، در نقطه‌ی <math>D</math> نسبت به نقطه‌ی <math>B</math> چگونه است؟ الف) بیشتر ب) کمتر</p> 	<p>۶</p>										

<p>۱ نمره</p>	<p>دی ۹۸</p>	<p>۷ در شکل روبرو نمودار تابع <math>f(x)</math> و خط مماس بر منحنی آن در نقطه‌ی <math>x = 2</math> داده شده است. الف: مشتق تابع <math>f(x)</math>، در نقطه‌ی <math>x = 2</math> را بیابید. ب: معادله‌ی خط مماس بر نمودار تابع در نقطه‌ی <math>A</math> را بنویسید.</p> 	<p>۷</p>										
<p>۱/۵ نمره</p>	<p>خرداد ۹۹</p>	<p>۸ معادله‌ی خط مماس بر منحنی <math>f(x) = -x^2 + 10x</math> را در نقطه‌ی <math>A(2, f(2))</math> واقع بر نمودار تابع بنویسید.</p>	<p>۸</p>										
<p>۱ نمره</p>	<p>خرداد ۹۹ خ</p>	<p>۹ با در نظر گرفتن نمودار <math>f</math> در شکل زیر، نقاط <math>a</math> و <math>b</math> و <math>c</math> و <math>d</math> را با مشتق‌های داده شده در جدول نظیر کنید.</p>  <table border="1" data-bbox="1053 1187 1276 1411"> <thead> <tr> <th><math>x</math></th> <th><math>f(x)</math></th> </tr> </thead> <tbody> <tr> <td></td> <td>۰</td> </tr> <tr> <td></td> <td>۰/۵</td> </tr> <tr> <td></td> <td>۲</td> </tr> <tr> <td></td> <td>-۰/۵</td> </tr> </tbody> </table>	$x$	$f(x)$		۰		۰/۵		۲		-۰/۵	<p>۹</p>
$x$	$f(x)$												
	۰												
	۰/۵												
	۲												
	-۰/۵												
<p>۱ نمره</p>	<p>خرداد ۹۹ خ</p>	<p>۱۰ با توجه به نمودار زیر جدول را کامل کنید.</p>  <table border="1" data-bbox="414 1859 1292 1993"> <tbody> <tr> <td>شیب</td> <td>-۲</td> <td>-۱</td> <td>۰/۵</td> <td>۲</td> </tr> <tr> <td>نقطه</td> <td></td> <td></td> <td></td> <td></td> </tr> </tbody> </table>	شیب	-۲	-۱	۰/۵	۲	نقطه					<p>۱۰</p>
شیب	-۲	-۱	۰/۵	۲									
نقطه													

۱ نمره	دی ۹۹	<p>۱۱ در نمودار <math>y = f(x)</math> شیب نمودار در نقاط <math>A</math> و <math>B</math> و شیب خط <math>AB</math> را از کوچکترین به بزرگترین مرتب کنید.</p> 
۱/۵ نمره	خرداد ۱۴۰۰	<p>۱۲ معادله ی خط مماس بر منحنی تابع <math>f(x) = x^3 - 2x</math> را در نقطه ی <math>A(1, f(1))</math> به دست آورید.</p>
۰/۷۵ نمره	خرداد ۱۴۰۰	<p>۱۳ با توجه به نمودار <math>f</math> به سؤالات زیر پاسخ دهید.                  الف) طول نقطه ای که مشتق در آن صفر است را بنویسید.                  ب) طول نقطه ی گوشه ای را بنویسید.                  پ) طول نقطه ای که در آن مقدار تابع و شیب خط هر دو منفی است را بنویسید.</p> 

**محاسبه ی مشتق**

**قضیه:** اگر  $f(x) = k$  یک تابع ثابت باشد. ثابت کنید که  $f'(a) = 0$

**قضیه:** اگر  $f(x) = x$  یک تابع همانی باشد. ثابت کنید که  $f'(a) = 1$

**قضیه:** اگر توابع  $g$  و  $f$  در نقطه ی  $a$  مشتق پذیر باشند. در این صورت:

(۱) تابع  $kf$  نیز در  $a$  مشتق پذیر است و  $(kf)'(a) = kf'(a)$

(۲) تابع  $f + g$  نیز در  $a$  مشتق پذیر است و  $(f + g)'(a) = f'(a) + g'(a)$

(۳) تابع  $f - g$  نیز در  $a$  مشتق پذیر است و  $(f - g)'(a) = f'(a) - g'(a)$

(۴) تابع  $fg$  نیز در  $a$  مشتق پذیر است و  $(fg)'(a) = f'(a)g(a) + f(a)g'(a)$

(۵) تابع  $\frac{1}{f}$  نیز (به شرط  $f(a) \neq 0$ ) در  $a$  مشتق پذیر است و  $(\frac{1}{f})'(a) = -\frac{f'(a)}{f^2(a)}$

(۶) تابع  $\frac{f}{g}$  نیز (به شرط  $g(a) \neq 0$ ) در  $a$  مشتق پذیر است و  $(\frac{f}{g})'(a) = \frac{f'(a)g(a) - g'(a)f(a)}{g^2(a)}$

**قضیه:** فرض کنید تابع  $g$  در نقطه ی  $a$  و تابع  $f$  در  $g(a)$  مشتق پذیر باشند، در این صورت تابع  $fog$  در  $a$  مشتق

پذیر است و  $(fog)'(a) = g'(a)f'(g(a))$

۱/۲۵ نمره	دی ۹۷	<p>۱ اگر <math>f</math> و <math>g</math> توابع مشتق پذیر باشند <math>f(2) = 3</math> و <math>f'(2) = 1</math> و <math>g(2) = -3</math> و <math>g'(2) = 2</math> مقادیر <math>(fg)'(2)</math> و <math>(f + g)'(2)</math> را به دست آورید.</p>
--------------	----------	--

دی ۹۸	۵/۱۵ نمره	جای خالی را با عدد یا کلمه‌ی مناسب کامل کنید. اگر $f'(2) = -1$ و $g'(2) = 3$ ، در این صورت $(2f + 3g)'(2)$ برابر با ..... است.	۲
دی ۹۸	۱ نمره	نمودار توابع $f$ و $g$ را در شکل مقابل در نظر بگیرید. اگر $h(x) = \frac{f(x)}{g(x)}$ باشد، $h'(1)$ را بیابید.	۳
خرداد ۹۹	۳۵/۱ نمره	در جای خالی کلمه یا عبارت مناسب را بنویسید. اگر $f'(1) = 3$ و $g'(1) = 5$ ، در این صورت $(3f + 2g)'(1)$ برابر با .... است.	۴
خرداد ۹۹	۱ نمره	اگر توابع $f$ و $g$ مشتق پذیر باشند و $f'(1) = 3$ و $g'(1) = 5$ مقادیر $(3f + 2g)'(1)$ را به دست آورید.	۵

### مشتق گیری از توابع

#### تابع مشتق

اگر  $x$  عضو از دامنه‌ی تابع  $y = f(x)$  باشد و تابع  $f$  در  $x$  مشتق پذیر باشد. در این صورت متناظر آن تابع دیگری تحت عنوان تابع مشتق (مشتق اول) به صورت زیر تعریف می شود.

$$f'(x) = \lim_{h \rightarrow 0} \frac{f(x+h) - f(x)}{h}$$

تابع مشتق را به اختصار **مشتق** تابع می نامیم و آن را به صورت  $f'(x)$  یا  $y'$  یا  $\frac{df}{dx}$  نمایش می دهیم.

دامنه‌ی تابع مشتق زیر مجموعه ای از دامنه‌ی تابع  $f$  است که در آن تابع مشتق پذیر باشد. یعنی

$$D_{f'} = D_f - \{ \text{نقاط مشتق ناپذیر تابع } f \}$$

#### الف: فرمول های مقدماتی

ردیف	تابع	مشتق
۱	$y = a$	$y' = 0$
۲	$y = ax$	$y' = a$
۳	$y = ax^n$	$y' = anx^{n-1}$
۴	$y = \frac{1}{x}$	$y' = \frac{-1}{x^2}$

۵	$y = \sqrt{x}$	$y' = \frac{1}{2\sqrt{x}}$
۶	$y = \sqrt[m]{x^n}$	$y' = \frac{n}{m\sqrt[m]{x^{m-n}}}$
۷	$y = \sin x$	$y' = \cos x$
۸	$y = \cos x$	$y' = -\sin x$
۹	$y = \tan x$	$y' = 1 + \tan^2 x = \frac{1}{\cos^2 x}$
۱۰	$y = \cot x$	$y' = -(1 + \cot^2 x) = -\frac{1}{\sin^2 x}$

**ب: فرمول‌های تکمیلی (روش‌های مشتق‌گیری)**

فرض کنید که  $u$  و  $v$  و ... توابعی بر حسب متغیر  $x$  باشند. در این صورت می‌توان فرمول‌های زیر را نیز بیان کرد.

ردیف	تابع	مشتق
۱	$y = au$	$y' = au'$
۲	$y = u + v + \dots$	$y' = u' + v' + \dots$
۳	$y = u.v$	$y' = u'v + v'u$
۴	$y = u.v.w$	$y' = u'.v.w + v'.u.w + w'.u.v$
۵	$y = u^n$	$y' = nu'u^{n-1}$
۶	$y = \frac{1}{v}$	$y' = \frac{-v'}{v^2}$
۷	$y = \frac{u}{v}$	$y' = \frac{u'.v - v'.u}{v^2}$
۸	$y = \sqrt{u}$	$y' = \frac{u'}{2\sqrt{u}}$
۹	$y = \sqrt[m]{u^n}$	$y' = \frac{n.u'}{m\sqrt[m]{u^{m-n}}}$
۱۰	$y = f(u)$	$y' = u'.f'(u)$
۱۱	$y = \sin u$	$y' = u'.\cos u$
۱۲	$y = \cos u$	$y' = -u'.\sin u$
۱۳	$y = \tan u$	$y' = u'(1 + \tan^2 u) = \frac{u'}{\cos^2 u}$
۱۴	$y = \cot u$	$y' = -u'(1 + \cot^2 u) = -\frac{u'}{\sin^2 u}$

۲ نمره	دی ۹۷	مشتق توابع زیر را به دست آورید. (ساده کردن مشتق الزامی نیست). الف) $y = \frac{x^2 + 1}{x^3 + 2x - 5}$ ب) $y = \cos^2(-3x + 1)$	۱
۱/۷۵ نمره	خرداد ۹۸	مشتق توابع زیر را به دست آورید. (ساده کردن مشتق الزامی نیست). الف) $y = \frac{x^2 - 1}{x^3 + 2x + 1}$ ب) $y = \cos^3(2x)$	۲
۲ نمره	تیر ۹۸	مشتق توابع زیر را به دست آورید. (ساده کردن مشتق الزامی نیست). الف) $y = \frac{x^2 - 1}{5x^3 - 3x + 1}$ ب) $y = \sin^2(2x + 1)$	۳
۲/۲۵ نمره	شهریور ۹۸	مشتق توابع زیر را به دست آورید. الف) $f(x) = (2x^3 + \sqrt[3]{x} - 1)^4$ ب) $g(x) = \cos\left(\frac{x}{x^2 + 1}\right)$	۴
۱/۷۵ نمره	دی ۹۸	مشتق توابع زیر را به دست آورید. (ساده کردن مشتق الزامی نیست). الف) $y = \frac{2x + 3}{x^3 - 2x^2}$ ب) $y = \sin^3(2x + 1)$	۵
۲ نمره	خرداد ۹۹	مشتق توابع زیر را به دست آورید. (ساده کردن مشتق الزامی نیست). الف) $f(x) = \frac{x^2 - 3x + 1}{-3x + 2}$ ب) $g(x) = \sqrt{x}(3x^2 + 5)$ پ) $h(x) = \sin^3 x + \cos^2 x$	۶
۲/۲۵ نمره	خرداد ۹۹ خ	مشتق توابع زیر را محاسبه کنید. (ساده کردن الزامی نمی باشد). الف) $f(x) = (x^2 + 1)^3(5x - 1)$ ب) $f(x) = \frac{5\cos x}{1 - \sin x}$	۷
۲ نمره	خرداد ۹۹ خ	مشتق توابع زیر را به دست آورید. (ساده کردن مشتق الزامی نیست). الف) $f(x) = 2\sqrt{x}(5x^2 - 3x)$ ب) $g(x) = \sin^3 x + \cos^2(4x^3 - 2)$	۸
۳ نمره	شهریور ۹۹	مشتق هر یک از توابع زیر را به دست آورید. (ساده کردن مشتق الزامی نیست). الف) $f(x) = (\sqrt{3x + 2})(x^3 + 1)$ ب) $g(x) = (x^2 + 3x + 1)^7$ پ) $h(x) = \frac{x^2 - 5x + 7}{-2x + 9}$	۹



۲ نمره	دی ۹۹	مشتق توابع زیر را به دست آورید. (ساده کردن مشتق الزامی نیست). الف) $f(x) = (4x^3 - 7)(2x - 1)^4$ ب) $g(x) = \frac{1 - \sin x}{\cos x}$	۱۰
۲/۵ نمره	خرداد ۱۴۰۰	مشتق توابع زیر را به دست آورید. (ساده کردن مشتق الزامی نیست). الف) $f(x) = (\sqrt{3x} + 1)(2x^3 - 1)$ ب) $g(x) = 3 \tan^2 x + \cos x^2$ پ) $h(x) = \frac{x^2 - 3x}{5x}$	۱۱
۲/۵ نمره	شهریور ۱۴۰۰	مشتق توابع زیر را به دست آورید. (ساده کردن مشتق الزامی نیست) الف) $f(x) = \frac{4 \sin \frac{x}{2}}{x^2 + \sqrt{x}}$ ب) $g(x) = 3x(x^2 - 6x)^3 + \cos 2x$	۱۲

### مشتق تابع مرکب و قاعده زنجیری

اگر  $y$  تابعی از  $u$  و  $u$  تابعی از  $x$  باشد، آنگاه مشتق  $y$  نسبت به  $x$  برابر است با حاصل ضرب مشتق  $y$  نسبت به  $u$  در مشتق  $u$  نسبت به  $x$  یعنی

$$y = f(u) \rightarrow y' = u'f'(u)$$

یا به نمادی دیگر

$$\frac{dy}{dx} = \frac{dy}{du} \times \frac{du}{dx}$$

			۱

### مشتق پذیری روی یک بازه

برای بررسی مشتق پذیری تابع در یک بازه می‌توان از تعاریف زیر استفاده نمود.  
تابع  $f$  را روی بازه‌ی  $(a, b)$  مشتق پذیر گویند، هرگاه در هر نقطه از این بازه مشتق پذیر باشد.  
تابع  $f$  را روی بازه‌ی  $[a, b]$  مشتق پذیر گویند، هرگاه در بازه‌ی  $(a, b)$  مشتق پذیر بوده و در نقطه‌ی آن  $a$  مشتق راست و در نقطه‌ی  $b$  مشتق چپ داشته باشد.  
تابع  $f$  را روی بازه‌ی  $[a, b)$  مشتق پذیر گویند، هرگاه در بازه‌ی  $(a, b)$  مشتق پذیر بوده و در نقطه‌ی آن  $a$  مشتق راست داشته باشد.  
تابع  $f$  را روی بازه‌ی  $(a, b]$  مشتق پذیر گویند، هرگاه در بازه‌ی  $(a, b)$  مشتق پذیر بوده و در نقطه‌ی  $b$  مشتق چپ داشته باشد.

۱/۲۵ نمره	نیز ۹۸	نمودار تابع زیر را رسم کرده و مشتق پذیری $f$ را روی بازه‌ی $[-۲, ۰]$ بررسی کنید. $f(x) = \begin{cases} ۲x + ۴ & x < -۱ \\ x + ۱ & -۱ \leq x < ۲ \end{cases}$	۱

### مشتق مرتبه دوم

تابع مشتق هر تابعی را مشتق مرتبه‌ی اول می‌نامند. حال اگر از مشتق تابعی، مشتق دیگری گرفته شود، مشتق مرتبه‌ی دوم بدست می‌آید

۱ نمره	شهریور ۹۹	اگر $f(x) = \sin^2 x - \cos^2 x$ مقدار $f''(\frac{\pi}{6})$ را حساب کنید.	۱

### آهنگ متوسط تغییر و آهنگ لحظه‌ای تغییر

#### الف: آهنگ متوسط تغییرات

آهنگ متوسط تغییرات تابع  $f$  نسبت به تغییرات  $x$ . وقتی  $x$  از  $x = a$  تا  $x = b$  تغییر کند. برابر است با:

$$\frac{\Delta y}{\Delta x} = \frac{f(b) - f(a)}{b - a}$$

#### ب: آهنگ تغییرات آنی (لحظه‌ای)

حد آهنگ تغییرات متوسط تابع  $f$  نسبت به تغییرات  $x$  وقتی تغییر  $x$  خیلی ناچیز ( $h \rightarrow 0$ ) باشد، را آهنگ لحظه‌ای یا به اختصار آهنگ تغییر کمیت  $y = f(x)$  در  $x = a$  می‌گویند.

$$\lim_{\Delta x \rightarrow 0} \frac{\Delta y}{\Delta x} = \lim_{h \rightarrow 0} \frac{f(a+h) - f(a)}{h}$$

**تذکر:** با توجه به تعریف مشتق تابع در یک نقطه واضح است که

$$\lim_{\Delta x \rightarrow 0} \frac{\Delta y}{\Delta x} = f'(a)$$

۰/۷۵ نمره	دی ۹۷	یک توده باکتری پس از $t$ ساعت دارای جرم $m(t) = \sqrt{t} + t^2$ گرم است. آهنگ جرم توده ی باکتری در لحظه‌ی $t = ۹$ چقدر است؟	۱
--------------	-------	---	---

سئوالات موضوعی امتحانات نهایی کشوری فصل چهارم درس حسابان ۲ پایه‌ی دوازدهم رشته‌ی ریاضی فیزیک

۱ نمره	۹۸ خرداد	۲ آهنگ تغییر متوسط تابع $f(x) = x^3 - 2x$ را در بازه‌ی $[0, 2]$ و آهنگ تغییر لحظه‌ای تابع $f$ را در $x = 1$ محاسبه کنید.
۰/۲۵ نمره	۹۸ تیر	۳ یک توده‌ی باکتری پس از $t$ ساعت دارای جرم $m(t) = \sqrt{t} + 3t^2$ گرم است. آهنگ رشد جرم توده‌ی باکتری در لحظه‌ی $t = 4$ چقدر است؟
۱ نمره	۹۸ شهریور	۴ آهنگ تغییر لحظه‌ای تابع $f(x) = 2x^2 + 5x + 1$ در نقطه‌ی $x = 2$ چند برابر آهنگ تغییر لحظه‌ای آن در $x = -1$ است؟
۰/۵ نمره	۹۸ دی	۵ درستی یا نادرستی عبارت زیر را تعیین کنید. سرعت لحظه‌ای در $t = 2$ برای متحرکی با معادله‌ی حرکت $f(t) = t^2 + 3t$ برابر ۷ است.
۱/۵ نمره	۹۹ خرداد	۶ معادله‌ی حرکت متحرکی به صورت $f(t) = t^2 - t + 10$ بر حسب متر در بازه‌ی زمانی $[0, 5]$ بر حسب ثانیه داده شده است. در کدام لحظه سرعت لحظه‌ای با سرعت متوسط در بازه‌ی زمانی $[0, 5]$ برابر است؟
۰/۲۵ نمره	۹۹ خرداد	۷ در جای خالی کلمه یا عبارت مناسب بنویسید. آهنگ لحظه‌ای تغییر تابع $g(x) = 2\sin 2x$ نسبت به $x$ در $x = \frac{\pi}{2}$ برابر ..... است.
۰/۲۵ نمره	۹۹ خرداد	۸ درستی یا نادرستی عبارت زیر را مشخص کنید. آهنگ متوسط تغییر با شیب قاطع و آهنگ لحظه‌ای تغییر با شیب خط مماس در آن نقطه برابرند.
۱/۲۵ نمره	۹۹ خرداد	۹ یک توده باکتری پس از $t$ ساعت دارای جرم $m(t) = \sqrt{t} + t^2$ گرم است. الف: جرم این توده باکتری در بازه‌ی زمانی $3 \leq t \leq 4$ به چه سرعتی افزایش می‌یابد؟ ب: آهنگ رشد جرم توده‌ی باکتری در لحظه‌ی $t = 9$ چقدر است؟
۰/۵ نمره	۹۹ شهریور	۱۰ در جای خالی کلمه یا عبارت مناسب بنویسید. سرعت لحظه‌ای در $t = 9$ برای متحرکی با معادله‌ی حرکت $f(t) = \sqrt{t}$ برابر ..... است.
۱ نمره	۹۹ دی	۱۱ جسمی از سطح زمین به طور عمودی پرتاب شده است. معادله‌ی ارتفاع آن از سطح زمین به صورت $f(t) = -2t^2 + 10t$ می‌باشد. سرعت لحظه‌ای این جسم را در $t = 2$ به دست آورید.

انصره ۱۴۰۰ خرداد	<p>جسمی را از ارتفاع سطح زمین به طور عمودی پرتاب می کنیم. جهت حرکت به طرف بالا را مثبت در نظر می گیریم. فرض کنید ارتفاع این جسم از سطح زمین در هر لحظه از معادله-</p> $h(t) = -5t^2 + 40t$ <p>ی به دست می آید. مطلوب است :</p> <p>الف : سرعت متوسط در بازه‌ی <math>[1, 2]</math></p> <p>ب : سرعت لحظه‌ای در زمان <math>t = 3</math></p>	۱۲
۱/۵ انصره ۱۴۰۰ شهریور	<p>تابعی با ضابطه‌ی <math>f(t) = \frac{240}{t}</math> مفروض است. آهنگ لحظه‌ای تغییر تابع <math>f</math> در لحظه- ی <math>t = 4</math> از آهنگ متوسط تغییر <math>f</math> از لحظه‌ی <math>t = 3</math> تا <math>t = 5</math> چه مقدار بیشتر است؟</p>	۱۳

تهیه کننده : جابر عامری

عضو گروه ریاضی دوره‌ی دوم متوسطه استان خوزستان

[www.mathtower.ir](http://www.mathtower.ir)

@amerimath

# (( فصل پنجم : کاربردهای مشتق ))

\*\*\*

## اکسترمم های یک تابع و توابع صعودی و نزولی

### کاربرد مشتق در تشخیص یکنوایی توابع

فرض کنید تابع  $f$  بر روی بازه  $[a, b]$  پیوسته و بر بازه  $(a, b)$  مشتق پذیر باشد. در این صورت :

الف : اگر به ازای هر  $x \in (a, b)$  داشته باشیم  $f'(x) > 0$  ، آنگاه تابع بر  $[a, b]$  اکیداً صعودی است.

ب : اگر به ازای هر  $x \in (a, b)$  داشته باشیم  $f'(x) < 0$  ، آنگاه تابع بر  $[a, b]$  اکیداً نزولی است.

ج : اگر به ازای هر  $x \in (a, b)$  داشته باشیم  $f'(x) = 0$  ، آنگاه تابع بر  $[a, b]$  ثابت است.

**توجه :** شرط استفاده از قضیه‌ی فوق آن است که تابع  $f$  بر بازه  $[a, b]$  پیوسته و بر بازه  $(a, b)$  مشتق پذیر باشد.

### نقاط و مقدار های اکسترمم مطلق ( سراسری )

نقطه‌ی  $c \in D_f$  را نقطه‌ی **مینیمم مطلق** (سراسری) تابع  $f$  گویند، هرگاه به ازای هر  $x \in D_f$  داشته باشیم

$$f(c) \leq f(x) .$$

همچنین مقدار  $f(c)$  را مقدار **مینیمم مطلق** تابع  $f$  می نامند. ( به عبارت دیگر نقطه‌ی  $(c, f(c))$

نقطه‌ی مینیمم مطلق تابع  $f$  است، هرگاه این نقطه از هیچ یک از نقاط واقع بر نمودار تابع  $f$ ، بالاتر نباشد.

نقطه‌ی  $c \in D_f$  را نقطه‌ی **ماکزیمم مطلق** (سراسری) تابع  $f$  گویند، هرگاه به ازای هر  $x \in D_f$  داشته باشیم

$$f(c) \geq f(x) .$$

همچنین مقدار  $f(c)$  را مقدار **ماکزیمم مطلق** تابع  $f$  می نامند. ( به عبارت دیگر نقطه‌ی  $(c, f(c))$

نقطه‌ی ماکزیمم مطلق تابع  $f$  است، هرگاه این نقطه از هیچ یک از نقاط واقع بر نمودار تابع  $f$ ، پایین تر نباشد.

### نقاط بحرانی تابع

نقطه‌ی  $c \in D_f$  را نقطه‌ی **بحرانی** تابع  $f$  می نامیم، هرگاه یا  $f'(c) = 0$  موجود نباشد یا

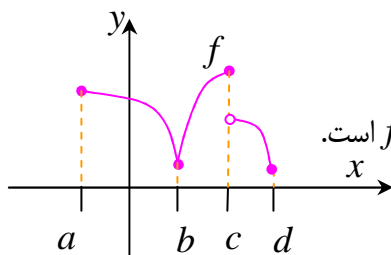
نقاط و مقدار های اکسترمم نسبی ( موضعی )

اگر تابع  $f$  روی بازه‌ی باز  $I$  تعریف شده باشد و نقطه‌ی  $c$  مانند  $c \in I$  وجود داشته باشد که برای هر  $x \in I$  داشته باشیم  $f(c) \leq f(x)$ . آنگاه گوییم تابع  $f$  در نقطه‌ی  $c$  **مینیمم نسبی** ( موضعی ) دارد.  $c$  را نقطه‌ی مینیمم نسبی و  $f(c)$  را مقدار مینیمم نسبی تابع می نامند.

اگر تابع  $f$  روی بازه‌ی باز  $I$  تعریف شده باشد و نقطه‌ی  $c$  مانند  $c \in I$  وجود داشته باشد که برای هر  $x \in I$  داشته باشیم  $f(c) \geq f(x)$ . آنگاه گوییم تابع  $f$  در نقطه‌ی  $c$  **ماکزیمم نسبی** ( موضعی ) دارد.  $c$  را نقطه‌ی ماکزیمم نسبی و  $f(c)$  را مقدار ماکزیمم نسبی تابع می نامند.

**توجه :** هر نقطه‌ی مینیمم نسبی یا ماکزیمم نسبی، نقطه‌ی **اکسترمم نسبی** تابع نامیده می شود.

۱/۲۵ نمره	دی ۹۷	جای خالی را با عدد یا عبارت مناسب پر کنید. اگر تابع $y = f(x)$ در بازه‌ی $[a, b]$ صعودی باشد، علامت مشتق تابع $f$ در این بازه ..... است.
۱/۵ نمره	خرداد ۹۸	مقادیر ماکزیمم و مینیمم مطلق تابع $f(x) = \sqrt{x^2 - 2x + 4}$ را در بازه‌ی $[0, 2]$ تعیین کنید.
۱/۲۵ نمره	خرداد ۹۸	تابع $f(x) = \frac{x^2}{x^2 + 1}$ در چه بازه‌ی صعودی و در چه بازه‌ی نزولی است؟ راه حل خود را بنویسید.
۱/۲۵ نمره	تیر ۹۸	جای خالی را با عدد یا عبارت مناسب پر کنید. اگر تابع $y = f(x)$ در بازه‌ی $(a, b)$ صعودی باشد، علامت مشتق تابع $f$ در این بازه ..... است.
۱/۵ نمره	تیر ۹۸	درست یا نادرست بودن جملات زیر را با توجه به نمودار تابع $f$ که در ذیل آورده شده، مشخص کنید. الف) نقطه‌ی $a$ به طول $b$ مینیمم نسبی تابع $f$ نیست. ب) نقطه‌ی $a$ به طول $c$ یک نقطه‌ی بحرانی برای تابع $f$ است.



۱۷۵/نمره	تیر ۹۸	مقادیر اکسترمم های مطلق تابع $f(x) = \frac{1}{3}x^3 - x$ را در بازه‌ی $[0, 2]$ بیابید.	۶
۱۷۵/نمره	شهریور ۹۸	مقادیر اکسترمم های نسبی و مطلق تابع $f(x) = \frac{1}{3}x^3 + x^2$ را در بازه‌ی $[-2, 3]$ به دست آورید.	۷
۱۲۵/نمره	دی ۹۸	اکسترمم های مطلق تابع $f(x) = 2x^3 + 3x^2 - 12x$ را در بازه‌ی $[-1, 2]$ مشخص کنید.	۸
۱۲۵/نمره	خرداد ۹۹	درستی یا نادرستی عبارت زیر را مشخص کنید. تابعی وجود ندارد که برای آن هم $f'(a) = 0$ و هم $f(a) = 0$	۹
۱۲۵/نمره	خرداد ۹۹ خ	در جای خالی کلمه یا عبارت مناسب بنویسید. بزرگترین بازه ای از $R$ که تابع $h(x) = x^3 - 12x + 4$ در آن نزولی اکید باشد، بازه‌ی ..... است.	۱۰
۲/نمره	خرداد ۹۹ خ	تابع $f(x) =  x^2 - 1 $ در بازه‌ی $[-2, 3]$ در نمودار زیر رسم شده است. الف: نقاط اکسترمم های نسبی تابع را در صورت وجود بیابید. ب: نقاط اکسترمم مطلق تابع را در صورت وجود بیابید. پ: آیا تابع $f$ در بازه‌ی $[0, 3]$ مشتق پذیر است؟ چرا؟	۱۱
۱/نمره	خرداد ۹۹ خ	نقاط بحرانی تابع $f(x) = \frac{x}{x^2 + 1}$ را مشخص کنید.	۱۲
۱۷۵/نمره	خرداد ۹۹ خ	مقادیر ماکزیمم و مینیمم مطلق تابع $f(x) = x^2 +  x + 1 $ را در بازه‌ی $[-2, 2]$ بیابید.	۱۳

سئوالات موضوعی امتحانات نهایی کشوری فصل پنجم درس حسابان ۲ پایه دوازدهم رشته ریاضی فیزیک

شهریور ۹۹	شماره ۲	۱۴	اکسترم های مطلق تابع $f(x) = 2x^3 + 3x^2 - 12x$ را در بازه $[-1, 3]$ مشخص کنید.
دی ۹۹	شماره ۱/۵	۱۵	مقادیر ماکزیمم و می نیمم تابع $f(x) = x^3 - 3x + 1$ را در بازه $[-1, 2]$ تعیین کنید.
خرداد ۱۴۰۰	شماره ۱/۵	۱۶	درستی یا نادرستی عبارت های زیر را تعیین کنید. الف: اگر تابع $f$ در هر نقطه اکسترمم نسبی مشتق پذیر باشد، آنگاه مشتق تابع $f$ در این نقاط صفر می شود. ب: اگر علامت $f'$ بر بازه ای منفی باشد، آنگاه تابع $f$ بر آن بازه اکیداً نزولی است.
خرداد ۱۴۰۰	شماره ۱/۵	۱۷	اکسترمم های مطلق تابع $f(x) = x^3 - 3x^2 + 1$ را در بازه $[-1, 1]$ تعیین کنید.

**بهینه سازی**

برای حل مسائل بهینه سازی، ابتدا با توجه به صورت مسئله تابعی یک متغیره تشکیل می دهیم و ریشه های مشتق مرتبه-ی اول آن را تعیین می کنیم و اگر لازم باشد، جدول تغییرات رسم کنید. توجه داشته باشید که فقط ریشه هایی را می پذیریم که شرایط مسئله را داشته باشند و در دامنه ای اعتباری مسئله باشند.

شهریور ۱۴۰۰	شماره ۱/۲۵	۱	ورق فلزی مستطیل شکلی، به طول ۱۶ سانتی متر و عرض ۶ سانتی متر را در نظر بگیرید. می خواهیم از چهار گوشه ای آن مربع های کوچکی به ضلع $x$ برش بزنیم و آنها را کنار بگذاریم. سپس لبه ای جعبه را به اندازه $x$ بر می گردانیم تا یک جعبه ای سرباز ساخته شود. مقدار $x$ چقدر باشد تا حجم جعبه، حداکثر مقدار ممکن گردد.
-------------	------------	---	---

**آزمون مشتق اول**

**آزمون مشتق اول (چگونگی تعیین نقاط اکسترمم نسبی تابع)**

فرض کنید  $c$  نقطه ای بحرانی تابع  $f$  باشد.  $(a < c < b)$  و تابع  $f$  بر بازه  $I = (a, b)$  پیوسته و بر این بازه بجز احتمالاً در  $c$ ، مشتق پذیر باشد. در این صورت:

الف: اگر  $f'$  روی  $(a, c)$  مثبت و روی  $(c, b)$  منفی باشد، آنگاه  $f$  در  $c$  ماکزیمم نسبی دارد.

<sup>۱</sup>. دامنه ای اعتباری تابع، مجموعه ای مقادیری است که متغیر در آنها با توجه به محدودیت های موجود، با معنی باشد. برای مثال وقتی گفته می شود که مساحت مربعی به ضلع  $x$  برابر  $f(x) = x^2$  می باشد. دامنه ای اعتباری این تابع این است که  $x$  فقط یک عدد مثبت است.



ب: اگر  $f'$  روی  $(a, c)$  منفی و روی  $(c, b)$  مثبت باشد، آنگاه  $f$  در  $c$  مینیمم نسبی دارد.

ج: اگر  $f'$  روی  $(a, c)$  و  $(c, b)$  تغییر علامت ندهد، آنگاه  $f$  در  $c$  اکسترمم نسبی ندارد.

توجه کنید که  $f$  می‌تواند در  $x = c$  مشتق پذیر ( $f'(c) = 0$ ) یا مشتق ناپذیر ( $f'(c)$  وجود ندارد) باشد. اما حتماً باید در این نقطه پیوستگی دو طرفه داشته باشد. در واقع با آزمون مشتق اول، اکسترمم‌های نسبی پیوسته‌ی توابع را می‌توان تعیین نمود.

**قضیه‌ی فرما:** اگر تابع  $f$  در نقطه‌ی  $c$  دارای اکسترمم نسبی و  $f'(c)$  وجود داشته باشد. آنگاه  $f'(c) = 0$  است.

**نتیجه:** هر نقطه‌ی اکسترمم نسبی تابع، یک نقطه‌ی بحرانی است.

۱/۵ نمره	دی ۹۷	ضرایب $a$ و $b$ را در تابع $f(x) = -x^4 + ax + b$ طوری تعیین کنید که در نقطه‌ی $(1, 2)$ ماکزیمم نسبی داشته باشد.	۱
۱ نمره	تیر ۹۸	ضرایب $a$ و $b$ را در تابع $f(x) = x^3 + ax + b$ طوری تعیین کنید که در نقطه‌ی $(1, 2)$ ماکزیمم نسبی داشته باشد.	۲
۱/۲۵ نمره	خرداد ۹۹	اگر نقطه‌ی $(2, 1)$ نقطه‌ی اکسترمم نسبی تابع $f(x) = x^3 + bx^2 + d$ باشد، مقادیر $b$ و $d$ را به دست آورید.	۳
۰/۵ نمره	دی ۹۹	درستی یا نادرستی عبارت را تعیین کنید. اگر $x = c$ طول نقطه‌ی اکسترمم نسبی تابع $f(x)$ و $f'(c)$ موجود باشد. آنگاه $f'(c) = 0$	۴

### جهت تقعر نمودار یک تابع و نقطه‌ی عطف

#### جهت تقعر منحنی

فرض کنیم  $f''(x)$  به ازای هر  $x$  از بازه‌ی باز  $I$  موجود باشد. در این صورت:

الف: اگر به ازای هر  $x \in I$ ،  $f''(x) > 0$  باشد، آنگاه نمودار  $f$  روی بازه‌ی  $I$  تقعر رو به بالا دارد.

ب: اگر به ازای هر  $x \in I$ ،  $f''(x) < 0$  باشد، آنگاه نمودار  $f$  روی بازه‌ی  $I$  تقعر رو به پایین دارد.

### نقطه‌ی عطف نمودار تابع

نقطه‌ی  $(c, f(c))$ ، نقطه‌ی عطف نمودار تابع  $f$  نامیده می‌شود (یا تابع  $f$  در  $c$  نقطه‌ی عطف دارد). هرگاه دو شرط زیر هم زمان باشند.

الف: نمودار  $f$  در  $c$  دارای مماس واحد باشد. (یعنی  $f'(c) = L$  یا  $f'(c) = +\infty$  یا  $f'(c) = -\infty$ )

ب: جهت تقعر  $f$  در  $c$  عوض شود. (یعنی  $f''$  تغییر علامت دهد).

### آزمون مشتق دوم (چگونگی تعیین نقاط اکسترمم نسبی تابع)

گاهی می‌توان از مشتق دوم برای تعیین اکسترمم‌های نسبی (موضعی) نیز استفاده کرد.

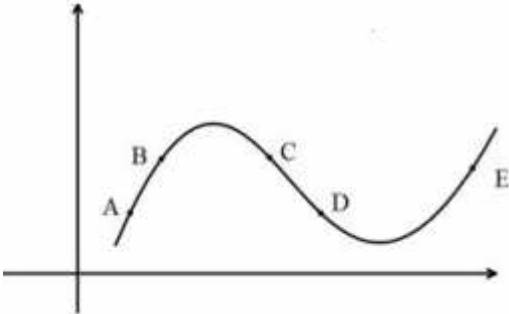
فرض کنید  $(c, f(c))$  نقطه‌ی بحرانی تابع  $f$  باشد و  $f'(c) = 0$  و  $f''(c)$  موجود باشد. در این صورت:

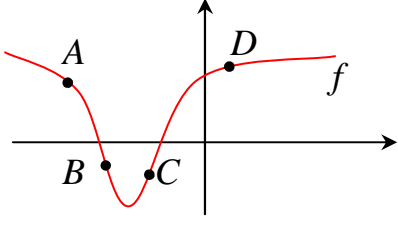
الف: اگر  $f''(c) > 0$  باشد، آنگاه  $f$  در  $c$  مینیمم نسبی دارد.

ب: اگر  $f''(c) < 0$  باشد، آنگاه  $f$  در  $c$  ماکزیمم نسبی دارد.

ج: اگر  $f''(c) = 0$  باشد، آنگاه آزمون بی‌نتیجه است (یعنی با این آزمون نمی‌توان حکم قطعی داد).

۱ نمره	دی ۹۷	جهت تقعر و نقطه‌ی عطف نمودار تابع $f(x) = -x^3 + 3x^2 + 1$ را به دست آورید.	۱
۱/۲۵ نمره	خرداد ۹۸	مقادیر $a$ و $b$ را در تابع $f(x) = ax^3 + bx^2 - 1$ چنان بیابید که $A(1,1)$ نقطه‌ی عطف منحنی باشد.	۲
۱ نمره	تیر ۹۸	جهت تقعر و نقطه‌ی عطف نمودار تابع $f(x) = x^3 + 3x + 1$ را به دست آورید.	۳
۱/۵ نمره	شهریور ۹۸	ابتدا جهت تقعر تابع $y = \frac{x+1}{x-1}$ را مشخص کرده، سپس وجود نقطه‌ی عطف آن را بررسی کنید.	۴

۱ نمره	دی ۹۸	<p>شکل زیر را در نظر بگیرید. تعیین کنید که در کدام یک از پنج نقطه‌ی مشخص شده در نمودار</p> <p>الف: <math>f'(x)</math> و <math>f''(x)</math> هر دو منفی اند.</p> <p>ب: <math>f'(x)</math> منفی و <math>f''(x)</math> مثبت است.</p> 	۵
۲ نمره	خرداد ۹۹	جهت تقعر و نقطه‌ی عطف نمودار تابع $f(x) = x^3 + 3x^2 + 1$ را مشخص کنید.	۶
۰/۵ نمره	خرداد ۹۹ خ	<p>مقادیر <math>a</math> و <math>b</math> را در تابع <math>f(x) = ax^3 + bx^2 + 1</math> به ترتیب کدام یک از موارد زیر است.</p> <p>اگر <math>f(1) = 2</math> و <math>x = \frac{1}{2}</math> طول نقطه‌ی عطف آن باشد.</p> <p>الف: <math>a = 1</math> و <math>b = -2</math>      ب: <math>a = 4</math> و <math>b = -4</math></p> <p>ج: <math>a = 4</math> و <math>b = 4</math>      د: <math>a = -2</math> و <math>b = 3</math></p>	۷
۱/۲۵ نمره	خرداد ۹۹ خ	جهت تقعر و نقطه‌ی عطف نمودار تابع $f(x) = -x^3 + 3x^2 + 1$ را به دست آورید.	۸
۰/۵ نمره	دی ۹۹	<p>درستی یا نادرستی عبارت را تعیین کنید.</p> <p>در هر نقطه‌ی ای که جهت تقعر منحنی تابع عوض شود آن نقطه‌ی عطف تابع است.</p>	۹
۰/۵ نمره	خرداد ۱۴۰۰	<p>درستی یا نادرستی عبارت های زیر را تعیین کنید.</p> <p>الف: تابع صعودی اکید، نقطه‌ی عطف ندارد.</p> <p>ب: در نقطه‌ی عطف علامت <math>f''(x)</math> تغییر می کند.</p>	۱۰
۱ نمره	خرداد ۱۴۰۰	<p>اگر نقطه‌ی <math>A(-1, 1)</math>، نقطه‌ی عطف منحنی <math>f(x) = x^3 + ax^2 + bx - 1</math> باشد.</p> <p>مقادیر <math>a</math> و <math>b</math> را به دست آورید.</p>	۱۱

شهریور ۱۴۰۰	شماره ۱/۲۵	جهت تعریف تابع $f(x) = \sqrt[3]{x-1}$ را در دامنه اش بررسی کرده و نقطه ی عطف آن را در صورت وجود به دست آورید.	۱۲
شهریور ۱۴۰۰	شماره ۰/۲۵	درستی یا نادرستی عبارت زیر را تعیین کنید. هر نقطه ای که در آن مقدار $f''(x)$ برابر صفر شود، یک نقطه ی عطف تابع $f(x)$ است.	۱۳
شهریور ۱۴۰۰	شماره ۰/۲۵	جای خالی را با عدد یا کلمه ی مناسب کامل کنید. در نقطه ی ..... از نمودار مقابل، مقادیر $f'$ و $f''$ هر دو مثبت است. 	۱۴

**رسم نمودار توابع**

**مراحل رسم نمودار توابع به کمک مشتق**

برای رسم نمودار یک تابع، با استفاده از مشتق، به ترتیب زیر عمل کنید.

۱: دامنه ی تابع را تعیین می کنید.

۲: از تابع مشتق گرفته و ریشه های آن را در صورت وجود به دست می آورید.

۳: جدول تغییرات را رسم می کنید.

۴: به کمک جدول تغییرات، نمودار تابع را روی صفحه ی محورهای مختصات رسم کنید.

اگر لازم باشد، جهت دقت بیشتر در نقطه یابی و ترسیم نمودار، می توانید از نقاط دلخواه دیگری<sup>۲</sup> با توجه به معادله ی تابع انتخاب کنید. این نقاط را نقاط کمکی می نامند.

**توجه:** در صورتی که تابع دارای مجانب افقی یا قائم باشد. ابتدا مجانب های آن را تعیین و قبل از ترسیم نمودار تابع، نمودار مجانب ها را رسم کنید.

<sup>۲</sup>. نقاط برخورد نمودار تابع با محورهای مختصات در صورت وجود را نیز تعیین کنید.

### رسم نمودار تابع هموگرافیک (همنگار)

هر تابع به صورت  $y = \frac{ax+b}{cx+d}$  به شرط  $\frac{a}{c} \neq \frac{b}{d}$  و  $c \neq 0$  را تابع هموگرافیک می‌نامند. این تابع به ازای همهی مقادیر  $x$  بجز ریشه‌ی مخرج یعنی  $x = \frac{-d}{c}$  پیوسته است. تابع هموگرافیک دارای دو مجانب بصورت زیر می‌باشد.

$$cx + d = 0 \rightarrow x = \frac{-d}{c} \quad \text{مجانب قائم}$$

$$y = \lim_{x \rightarrow \pm\infty} \frac{ax+b}{cx+d} = \lim_{x \rightarrow \pm\infty} \frac{ax}{cx} = \frac{a}{c} \quad \text{مجانب افقی}$$

اگر از تابع هموگرافیک مشتق بگیریم، خواهیم داشت:

$$y' = \frac{ad - bc}{(cx + d)^2} = \frac{\begin{vmatrix} a & b \\ c & d \end{vmatrix}}{(cx + d)^2}$$

و چون  $\frac{a}{c} \neq \frac{b}{d}$  پس  $ad \neq bc$  لذا همواره  $y' \neq 0$  می‌باشد و لذا تابع نقطه‌ی هیچگاه ماگزیمم یا مینیمم ندارد. همچنین اگر  $ad - bc > 0$  باشد، تابع در هر سمت مجانب قائم آن صعودی اکید و اگر  $ad - bc < 0$  باشد تابع در هر سمت مجانب قائم آن نزولی اکید است. ولی طبق تعریف، تابع هموگرافیک در دامنه اش نه صعودی و نه نزولی می‌باشد. اگر مشتق مثبت باشد، نمودار تابع در ناحیه‌ی دوم و چهارم مجانب هایش قرار می‌گیرد. و اگر مشتق منفی باشد، نمودار تابع در ناحیه‌ی اول و سوم مجانب هایش قرار می‌گیرد. تابع هموگرافیک دارای یک مرکز تقارن و دو محور تقارن است.

مرکز تقارن، تابع هموگرافیک محل تلاقی مجانب های آن است. لذا مختصات مرکز تقارن همواره به صورت زیر می‌باشد.

$$\omega\left(\frac{-d}{c}, \frac{a}{c}\right)$$

محورهای تقارن تابع هموگرافیک یکی از مجموع دو مجانب و دیگری از تفاضل دو مجانب تابع بدست می‌آیند.

$$x + y = \frac{-d}{c} + \frac{a}{c} = \frac{a-d}{c}$$

$$x - y = \frac{-d}{c} - \frac{a}{c} = -\frac{a+d}{c}$$

۱/۷۵ نمره	دی ۹۷	جدول رفتار و نمودار تابع $f(x) = \frac{x+1}{x-2}$ را رسم کنید.	۱
--------------	----------	--	---

سئوالات موضوعی امتحانات نهایی کشوری فصل پنجم درس حسابان ۲ پایه‌ی دوازدهم رشته‌ی ریاضی فیزیک

۱/۷۵ نمره	۹۸ خرداد	جدول رفتار و نمودار تابع $f(x) = \frac{x+1}{x-1}$ را رسم کنید.	۲
۱/۵ نمره	۹۸ تیر	جدول رفتار و نمودار تابع $f(x) = \frac{x-1}{x+2}$ را رسم کنید.	۳
۱/۲۵ نمره	۹۸ شهریور	جدول رفتار و نمودار تابع $f(x) = x^3 + 3x^2 + 1$ را رسم کنید.	۴
۱/۷۵ نمره	۹۸ دی	جدول تغییرات و نمودار تابع $f(x) = \frac{2x}{x-1}$ را رسم کنید.	۵
۲ نمره	۹۹ خرداد	جدول تغییرات و نمودار تابع $f(x) = \frac{x-1}{x+1}$ را رسم کنید.	۶
۱/۷۵ نمره	۹۹ خرداد	جدول رفتار و نمودار تابع $f(x) = \frac{x+2}{x-1}$ را رسم کنید.	۷
۱/۷۵ نمره	۹۹ خرداد	جدول رفتار و نمودار تابع $y = x^3 + 3x^2 + 1$ را رسم کنید.	۸
۲ نمره	۹۹ شهریور	جدول تغییرات و نمودار تابع $f(x) = x^3 - 3x + 1$ را رسم کنید.	۹
۲ نمره	۹۹ دی	جدول رفتار و نمودار تابع $f(x) = \frac{x}{x-2}$ را رسم کنید.	۱۰
۲/۵ نمره	۱۴۰۰ خرداد	جدول رفتار و نمودار تابع $f(x) = \frac{2x-1}{x+1}$ را رسم کنید.	۱۱
۱/۵ نمره	۱۴۰۰ شهریور	جدول رفتار و نمودار تابع $f(x) = -x^3 + 6x^2 - 9$ را رسم کنید.	۱۲

تهیه کننده : جابر عامری

عضو گروه ریاضی دوره‌ی دوّم متوسطه استان خوزستان

[www.mathtower.ir](http://www.mathtower.ir)

@amrimath

پاسخ سئوالات موضوعی نهایی

فصل اول حسابان ۲ پایه دوازدهم ریاضی فیزیک

تبدیل نمودار توابع

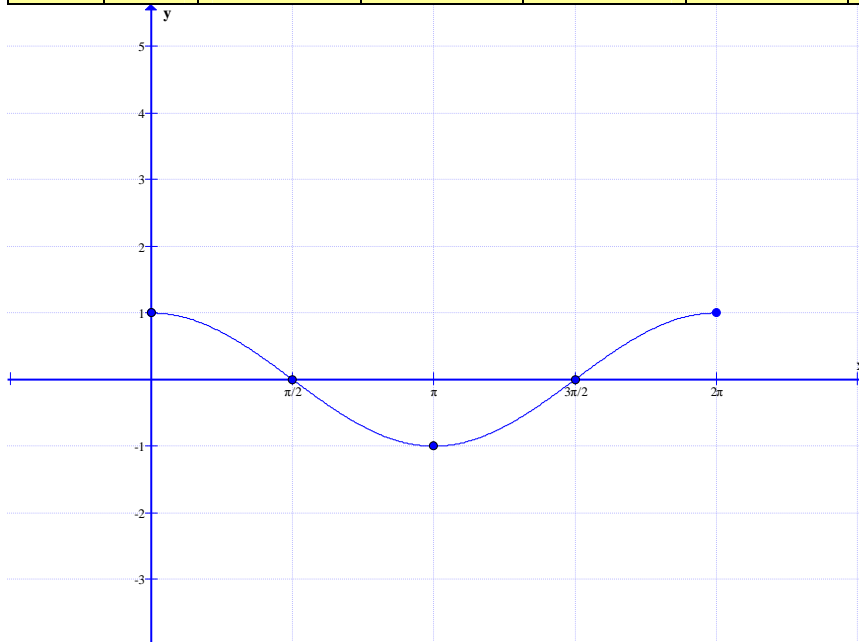
	۱
	۲
<p>نادرست</p>	۳
<p>برای رسم نمودار تابع <math>g</math>، ابتدا انقباض افقی برای <math>k = 2</math> در راستای محور طول ها سپس انتقال یک واحد رو به پایین در راستای محور عرض ها</p> <p><math>D_g = [-1, 2]</math></p>	۴
<p>ب : محور طول ها</p>	<p>الف : <math>g(x) = x^3</math></p> <p>۵</p>



<p style="text-align: right;"><math>D_g = [-2, 3]</math></p>	۶																				
<p style="text-align: right;">دامنه <math>D = [-2, 1]</math> برد <math>R = [-1, 2]</math></p>	۷																				
<p>ابتدا مختصات نقاط مهم تابع <math>f</math> را نوشته، سپس طول هر نقطه را نصف و عرض هر نقطه را یک واحد کم می کنیم.</p> <table style="margin-left: auto; margin-right: auto;"> <tr> <td style="padding-right: 10px;"><math>f:</math></td> <td style="border: 1px solid black; padding: 5px;"><table border="1" style="display: inline-table; border-collapse: collapse;"> <tr><td style="padding: 2px 10px;"><math>x</math></td><td style="padding: 2px 10px;">-۲</td><td style="padding: 2px 10px;">۱</td><td style="padding: 2px 10px;">۴</td></tr> <tr><td style="padding: 2px 10px;"><math>y</math></td><td style="padding: 2px 10px;">-۲</td><td style="padding: 2px 10px;">۱</td><td style="padding: 2px 10px;">۲</td></tr> </table></td> <td style="padding: 0 10px;">→</td> <td style="border: 1px solid black; padding: 5px;"><table border="1" style="display: inline-table; border-collapse: collapse;"> <tr><td style="padding: 2px 10px;"><math>x</math></td><td style="padding: 2px 10px;">-۱</td><td style="padding: 2px 10px;">۰/۵</td><td style="padding: 2px 10px;">۲</td></tr> <tr><td style="padding: 2px 10px;"><math>y</math></td><td style="padding: 2px 10px;">-۳</td><td style="padding: 2px 10px;">۰</td><td style="padding: 2px 10px;">۱</td></tr> </table></td> </tr> </table> <div style="text-align: center; margin-top: 20px;"> <p style="text-align: right;"><math>D_g = [-1, 2]</math> <math>R_g = [-3, 1]</math></p> </div>	$f:$	<table border="1" style="display: inline-table; border-collapse: collapse;"> <tr><td style="padding: 2px 10px;"><math>x</math></td><td style="padding: 2px 10px;">-۲</td><td style="padding: 2px 10px;">۱</td><td style="padding: 2px 10px;">۴</td></tr> <tr><td style="padding: 2px 10px;"><math>y</math></td><td style="padding: 2px 10px;">-۲</td><td style="padding: 2px 10px;">۱</td><td style="padding: 2px 10px;">۲</td></tr> </table>	$x$	-۲	۱	۴	$y$	-۲	۱	۲	→	<table border="1" style="display: inline-table; border-collapse: collapse;"> <tr><td style="padding: 2px 10px;"><math>x</math></td><td style="padding: 2px 10px;">-۱</td><td style="padding: 2px 10px;">۰/۵</td><td style="padding: 2px 10px;">۲</td></tr> <tr><td style="padding: 2px 10px;"><math>y</math></td><td style="padding: 2px 10px;">-۳</td><td style="padding: 2px 10px;">۰</td><td style="padding: 2px 10px;">۱</td></tr> </table>	$x$	-۱	۰/۵	۲	$y$	-۳	۰	۱	۸
$f:$	<table border="1" style="display: inline-table; border-collapse: collapse;"> <tr><td style="padding: 2px 10px;"><math>x</math></td><td style="padding: 2px 10px;">-۲</td><td style="padding: 2px 10px;">۱</td><td style="padding: 2px 10px;">۴</td></tr> <tr><td style="padding: 2px 10px;"><math>y</math></td><td style="padding: 2px 10px;">-۲</td><td style="padding: 2px 10px;">۱</td><td style="padding: 2px 10px;">۲</td></tr> </table>	$x$	-۲	۱	۴	$y$	-۲	۱	۲	→	<table border="1" style="display: inline-table; border-collapse: collapse;"> <tr><td style="padding: 2px 10px;"><math>x</math></td><td style="padding: 2px 10px;">-۱</td><td style="padding: 2px 10px;">۰/۵</td><td style="padding: 2px 10px;">۲</td></tr> <tr><td style="padding: 2px 10px;"><math>y</math></td><td style="padding: 2px 10px;">-۳</td><td style="padding: 2px 10px;">۰</td><td style="padding: 2px 10px;">۱</td></tr> </table>	$x$	-۱	۰/۵	۲	$y$	-۳	۰	۱		
$x$	-۲	۱	۴																		
$y$	-۲	۱	۲																		
$x$	-۱	۰/۵	۲																		
$y$	-۳	۰	۱																		
<p><math>(5, 0)</math></p>	۹																				
<p style="text-align: center;"><math>g(x) = f(x-1) + 2</math></p> <p style="text-align: right;"><math>D_f = [-1, 4] \rightarrow D_g = [0, 5]</math> <math>R_f = [0, 2] \rightarrow R_g = [2, 4]</math></p>	<p>۱۰ طبق قوانین تبدیلات، کافی است نمودار تابع <math>f</math> را یک واحد به جلو و سپس دو واحد به سمت بالا منتقل کنید.</p>																				
<p>درست</p>	۱۱																				
<p><math>[-1, 0]</math></p>	۱۲																				

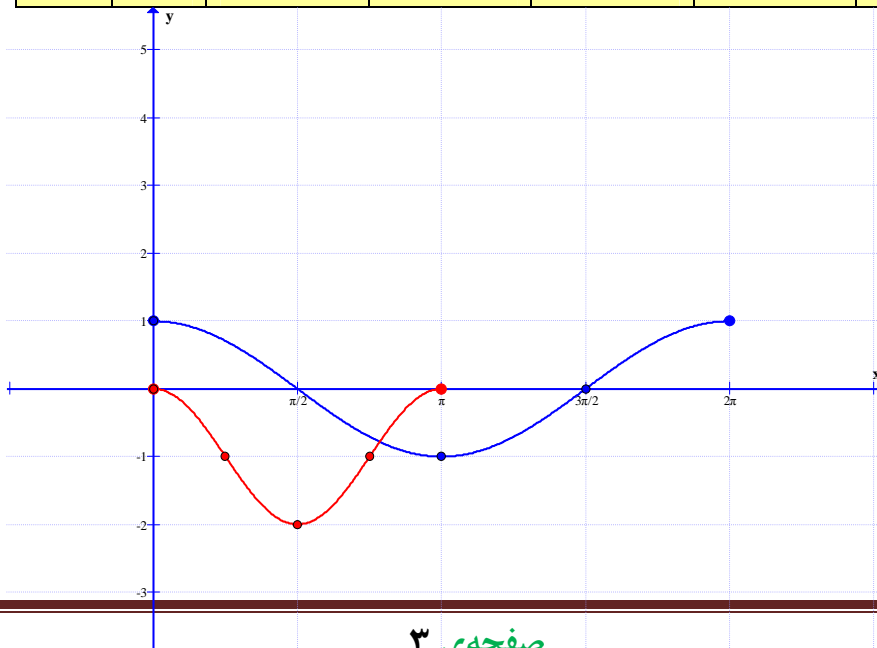
برای رسم نمودار تابع  $f(x) = \cos x$  ابتدا نقاط مهم فاصله‌ی داده شده را در نظر می‌گیریم.

$f$	$x$	$\cdot$	$\frac{\pi}{2}$	$\pi$	$\frac{3\pi}{2}$	$2\pi$
	$y$	$1$	$\cdot$	$-1$	$\cdot$	$1$



حال برای رسم نمودار تابع  $g(x) = \cos 2x - 1$  کافی است که طول نقاط تابع  $f(x) = \cos x$  را نصف و عرض نقاط را یک واحد کم کنیم.

$g$	$x$	$\cdot$	$\frac{\pi}{4}$	$\frac{\pi}{2}$	$\frac{3\pi}{4}$	$\pi$
	$y$	$\cdot$	$-1$	$-2$	$-1$	$1$

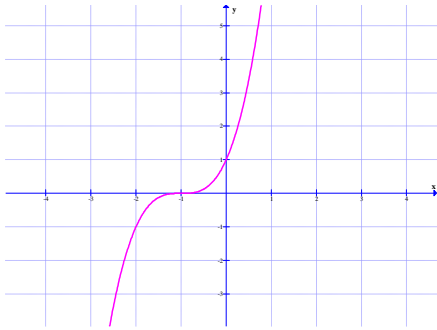
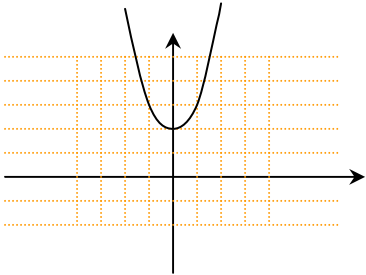


	<p><math>D_g = [0, 2]</math> و <math>R_g = [-1, 1]</math></p> <p>۱۴</p>																
<p>نقاط نمودار تابع <math>y = \cos x</math> در بازه‌ی داده شده را به اندازه‌ی <math>\frac{\pi}{4}</math> به سمت راست منتقل می‌کنیم.</p>	<p>۱۵</p>																
<p>انقباض افقی</p>	<p>۱۶</p>																
<p>طول نقاط را یک واحد کم می‌کنیم و عرض نقاط را دو برابر می‌کنیم.</p> <table border="1" data-bbox="475 1160 1093 1310"> <tr> <td><math>x</math></td> <td>-۲</td> <td>-۱</td> <td>۲</td> </tr> <tr> <td><math>y</math></td> <td>۱</td> <td>-۱</td> <td>۰</td> </tr> </table> $\Rightarrow$ <table border="1" data-bbox="837 1160 1093 1310"> <tr> <td><math>x</math></td> <td>-۳</td> <td>-۲</td> <td>۱</td> </tr> <tr> <td><math>y</math></td> <td>۲</td> <td>-۲</td> <td>۰</td> </tr> </table> <p><math>D_f = [-3, 1]</math> <math>R_f = [-2, 2]</math></p>	$x$	-۲	-۱	۲	$y$	۱	-۱	۰	$x$	-۳	-۲	۱	$y$	۲	-۲	۰	<p>۱۷</p>
$x$	-۲	-۱	۲														
$y$	۱	-۱	۰														
$x$	-۳	-۲	۱														
$y$	۲	-۲	۰														

تابع درجه سوم و چند جمله‌ای

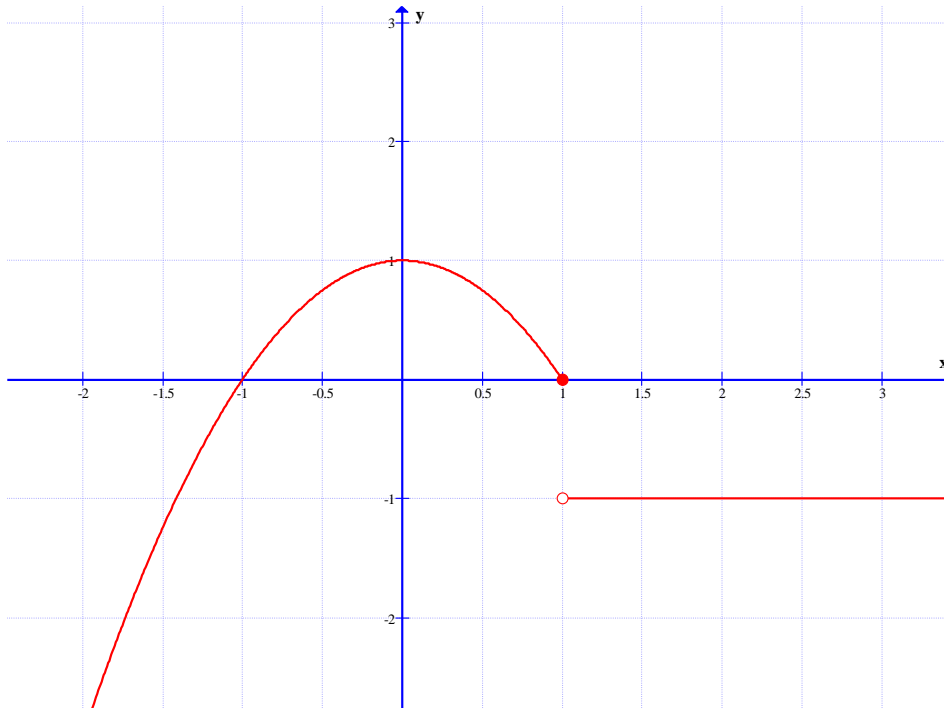
<p>۷</p>	<p>۱</p>
<p>نادرست</p>	<p>۲</p>
<p>درست</p>	<p>۳</p>

توابع یکنوا

۱	اکیداً صعودی	
۲	$(2, +\infty)$	
۳	$x + 1 \leq 2x - 3 \rightarrow x \geq 4$	
۴	نادرست	
۵	$[\frac{8}{3}, +\infty)$	
۶	نادرست	
۷	<p>نمودار این تابع با دو واحد انتقال نمودار تابع <math>f(x) = x^2</math> به سمت بالا بدست می آید که یک سهمی می باشد. رأس سهمی نقطه‌ی <math>(0, 2)</math> است.</p> <p>لذا بزرگترین بازه ای که تابع در آن صعودی اکید است بازه‌ی <math>(-\infty, 0)</math> و بزرگترین بازه ای که تابع در آن نزولی اکید است بازه‌ی <math>(0, +\infty)</math> است.</p> <p>توجه این بازه ها را از طرف صفر هم می توان بسته نوشت.</p>	
۸	درست	
۹	نادرست	
۱۰	صفر	
۱۱	درست	

نمودار تابع در فاصله های  $(1, +\infty)$  و  $(-\infty, 0)$  صعودی و در فاصله های  $[0, 1]$  و  $(1, +\infty)$  نزولی است.

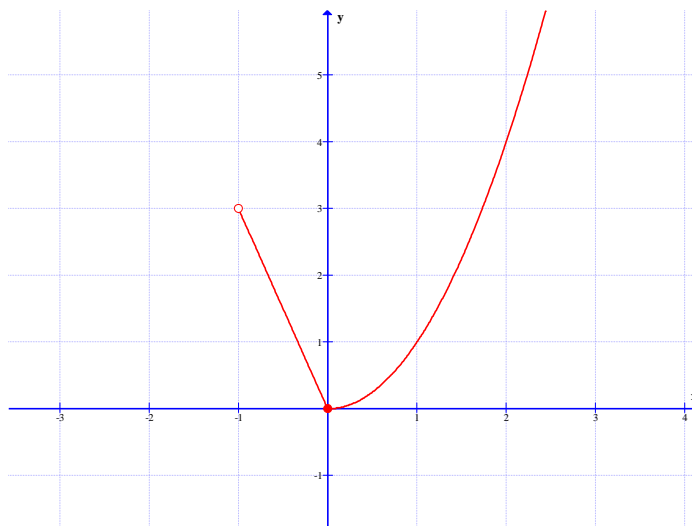
۱۲



۱۳ درست

۱۴ یکنوا

۱۵



نمودار تابع داده شده ، در بازه‌ی  $[-1, 0]$  اکیداً نزولی و در بازه‌ی  $[-1, 0]$  اکیداً صعودی است.

۱۶ درست

	۱۷
<p>نمودار تابع در فاصله <math>[-2, -1)</math> صعودی ، در فاصله <math>(1, +\infty)</math> صعودی و در فاصله <math>(-1, 1)</math> نزولی است.</p>	
$(3^{-1})^{1-2x} \leq (3^{-4}) \rightarrow 2x - 1 \leq -4 \rightarrow 2x \leq -3 \rightarrow x \leq -1.5$	۱۸

تقسیم چند جمله ای ها و بخش پذیری

-۲	۱
$f(-1) = 0 \rightarrow 1 - a - 3 = 0 \rightarrow a = -2$	۲
$f(2) = 4 - 4 - 3 = -3$	
-۱	۳
$P(2) = 0 \rightarrow 4a + 2b = -6$ , $P(-1) = 0 \rightarrow a - b = 6$	۴
$\begin{cases} 2a + b = -3 \\ a - b = 6 \end{cases} \rightarrow a = 1, b = -5$	
$P(x) = x^3 + ax^2 + bx + 1$	۵
$x - 2 = 0 \rightarrow x = 2$	
$\Rightarrow f(2) = 0 \rightarrow 8 + 4a + 2b + 1 = 0 \rightarrow 4a + 2b = -9$	
$x + 1 = 0 \rightarrow x = -1$	
$\Rightarrow f(-1) = -1 + a - b + 1 = 0 \rightarrow a - b = 0$	
$\Rightarrow a = b = -\frac{9}{2}$	

$x - 1 = 0 \rightarrow x = 1 \Rightarrow p(1) = 1 + a + b$ $\xrightarrow{p(1)=4} 1 + a + b = 4 \rightarrow a + b = 3$ $x + 2 = 0 \rightarrow x = -2 \Rightarrow p(-2) = -8 + 4a + b$ $\xrightarrow{p(-2)=0} -8 + 4a + b = 0 \rightarrow 4a + b = 8$ $\begin{cases} a + b = 3 \\ 4a + b = 8 \end{cases} \rightarrow a = \frac{5}{3}, \quad b = \frac{4}{3}$	۶
$p(x) = x^3 + ax^2 + bx + 1$ $x - 2 = 0 \rightarrow x = 2$ $\Rightarrow p(x) _{x=2} = (2)^3 + a(2)^2 + b(2) + 1 = 8 + 4a + 2b + 1 = 9 + 4a + 2b$ $\xrightarrow{r=0} 9 + 4a + 2b = 0 \rightarrow 4a + 2b = -9$ $x + 1 = 0 \rightarrow x = -1$ $\Rightarrow p(x) _{x=-1} = (-1)^3 + a(-1)^2 + b(-1) + 1 = -1 + a - b + 1 = a - b$ $\xrightarrow{r=0} a - b = 0$ $\begin{cases} 4a + 2b = -9 \\ a - b = 0 \end{cases} \rightarrow a = \frac{-3}{2}, \quad b = \frac{-3}{2}$	۷
<p>نادرست</p>	۸
$x - 1 = 0 \rightarrow x = 1$ $y _{x=1} = 4 \rightarrow (1)^3 + a(1)^2 + (1) + b = 4 \rightarrow a + b = 2$ $x + 2 = 0 \rightarrow x = -2$ $y _{x=-2} = 0 \rightarrow (-2)^3 + a(-2)^2 + (-2) + b = 0 \rightarrow -8 + 4a - 2 + b = 0 \rightarrow 4a + b = 10$ $\begin{cases} a + b = 2 \\ 4a + b = 10 \end{cases} \rightarrow a = \frac{8}{3}, \quad b = \frac{-2}{3}$	۹

$x - 2 = 0 \rightarrow x = 2 \xrightarrow{P(x) = x^3 + ax^2 + bx - 2} P(2) = 8 + 4a + 2b - 2 = 0$ $\rightarrow 4a + 2b = -6 \rightarrow 2a + b = -3$ $x + 1 = 0 \rightarrow x = -1 \xrightarrow{P(x) = x^3 + ax^2 + bx - 2} P(-1) = -1 + a - b - 2 = 3 \rightarrow a - b = 6$ $\rightarrow \begin{cases} 2a + b = -3 \\ a - b = 6 \end{cases} \rightarrow a = 1, b = -5$	۱۰
$x + 2 = 0 \rightarrow x = -2$ $\begin{cases} p(-2) = (-2)^3 + a(-2) + 1 = -2a - 7 \\ q(-2) = 2(-2)^2 - (-2) + 1 = 11 \end{cases} \rightarrow -2a - 7 = 11 \rightarrow a = -9$	۱۱

اتحاد های تکمیلی

$x^5 + 1 = (x + 1)(x^4 - x^3 + x^2 - x + 1)$	۱
$x^6 - 1 = (x - 1)(x^5 + x^4 + x^3 + x^2 + x + 1)$	۲
$x^6 - 1 = (x + 1)(x^5 - x^4 + x^3 - x^2 + x - 1)$	۳
$x^5 + 1 = (x + 1)(x^4 - x^3 + x^2 - x + 1)$	۴
$x^6 - 1 = (x - 1)(x^5 + x^4 + x^3 + x^2 + x + 1)$	۵
$x^5 + 2^5 = (x + 2)(x^4 - 2x^3 + 4x^2 - 8x + 16)$	۶

تهیه کننده: جابر عامری

عضو گروه ریاضی دوره‌ی دوّم متوسطه استان خوزستان

[www.mathtower.ir](http://www.mathtower.ir)

@amerimath



پاسخ سئوالات موضوعی نهایی

فصل دوم حسابان ۲ پایه دوازدهم ریاضی فیزیک

دوره‌ی تناوب

۱	نادرست
۲	$\frac{2\pi}{ b } = \pi \rightarrow  b  = 2$ $\begin{cases}  a  + c = 3 \\ - a  + c = 3 \end{cases} \rightarrow  a  = 3, c = 0$ <p>هر یک از توابع <math>y = 3 \sin(2x)</math> یا <math>y = -3 \sin(2x)</math> می‌توانند جواب باشند.</p>
۳	$T = \frac{2\pi}{ -\frac{\pi}{4} } = \frac{8\pi}{\pi} = 8$
۴	۲
۵	$\max(f) = 3$ و $\min(f) = -1$
۶	$T = \frac{2\pi}{\pi} = 2$ $\max(f) =  -3  + 1 = 4$ $\min(f) = - -3  + 1 = -2$
۷	$\frac{2\pi}{ b } = \pi \rightarrow  b  = 2 \rightarrow b = \pm 2$ $\begin{cases}  a  + c = 3 \\ - a  + c = 3 \end{cases} \rightarrow  a  = 4, c = 2$ <p>هر یک از توابع <math>y = 4 \sin(2x) + 2</math> یا <math>y = -4 \sin(2x) + 2</math> یا <math>y = 4 \sin(-2x) + 2</math> یا <math>y = -4 \sin(-2x) + 2</math> می‌توانند باشند.</p>

	۸
$\max(y) =  a  + c = 2 + 1 = 3$ $\min(y) = - a  + c = -2 + 1 = -1$	۹
<p>نمودار تابع از مبدأ مختصات می گذرد، لذا بهتر است تابع به صورت سینوسی باشد.</p> $y = a \sin(bx)$ <p>دوره‌ی تناوب نمودار تابع برابر <math>\pi</math> است. لذا:</p> $T = \frac{2\pi}{ b } = \pi \rightarrow b = \pm 2$ $\rightarrow y = a \sin(\pm 2x) \rightarrow y = \pm a \sin(2x)$ <p>نمودار تابع از نقطه‌ی <math>(\frac{\pi}{4}, 2)</math> می گذرد، پس:</p> $\frac{y = \pm a \sin(2x)}{\rightarrow 2 = \pm a \sin(2(\frac{\pi}{4}))} \rightarrow 2 = \pm a \sin(\frac{\pi}{2}) \xrightarrow{\sin(\frac{\pi}{2})=1} a = \pm 2$ <p>که با توجه به نمودار مقدار <math>a = -2</math>، قابل قبول نیست. لذا معادله‌ی تابع در نهایت به شکل زیر خواهد شد.</p> $\rightarrow y = 2 \sin(2x)$	۱۰
$\min(y) = - a  + c = -2 + (-1) = -3$ و $T = \frac{2\pi}{ b } = \frac{2\pi}{ \frac{\pi}{2} } = 4$	۱۱
$T = \frac{2\pi}{\frac{1}{2}} = 4\pi$ $\max(y) =  -\pi  + \sqrt{5} = \pi + \sqrt{5}$ $\min(y) = - -\pi  + \sqrt{5} = -\pi + \sqrt{5}$	۱۲
<p>با توجه به نمودار، ضابطه‌ی تابع به صورت <math>y = a \sin bx + c</math> و <math>a = -\frac{1}{2}</math> و <math>b = 3</math> می شود. از طرفی <math>\max(f) = \frac{1}{2}</math> و <math>\min(f) = -\frac{1}{2}</math> می شود. لذا معادله‌ی تابع به شکل <math>y = -\frac{1}{2} \sin 3x</math> خواهد شد.</p>	۱۳

$ b  = \frac{2\pi}{3} \rightarrow b = \frac{2\pi}{3}$ $\begin{cases} \max(f) =  a  + c = 5 \\ \min(f) = - a  + c = 3 \end{cases} \rightarrow c = 4,  a  = 1 \rightarrow a = \pm 1$ $\rightarrow y = \sin \frac{2\pi}{3} x + 4 \text{ or } y = -\sin \frac{2\pi}{3} x + 4$	۱۴
$\max(f) =  a  + c =  -2\pi  + 9 = 2\pi + 9$ $\min(f) = - a  + c = - -2\pi  + 9 = -2\pi + 9$ $T = \frac{2\pi}{ b } = \frac{2\pi}{\frac{1}{3}} = 6\pi$	۱۵

تابع تانژانت

$\pi$	۱
نادرست	۲
درست	۳
الف : درست ب : نادرست	۴
$T = \frac{\pi}{ b } = \frac{\pi}{ 1 } = \pi$	۵
درست	۶
$x \neq k\pi + \frac{\pi}{2}; k \in Z$	۷
R	۸
درست	۹
$\pi$	۱۰

معادلات مثلثاتی

$\cos 3x = \cos x \rightarrow \begin{cases} 3x = 2k\pi + x \rightarrow x = k\pi \\ 3x = 2k\pi - x \rightarrow x = \frac{k\pi}{2} \end{cases}$	۱
$2\cos^2 x - 1 + \cos x + 1 = 0 \rightarrow 2\cos^2 x + \cos x = 0 \rightarrow \cos x(2\cos x + 1) = 0$ $\cos x = 0 \rightarrow x = 2k\pi + \frac{\pi}{2}$ $2\cos x + 1 = 0 \rightarrow \cos x = -\frac{1}{2} \xrightarrow{\alpha = \pi - \frac{\pi}{3} = \frac{2\pi}{3}} x = 2k\pi \pm \frac{2\pi}{3}$	۲
$\sin 2x - \cos x = 0 \rightarrow 2\sin x \cos x - \cos x = 0 \rightarrow \cos x(2\sin x - 1) = 0$ $\rightarrow \begin{cases} \cos x = 0 \rightarrow x = k\pi + \frac{\pi}{2} \\ 2\sin x - 1 = 0 \rightarrow \sin x = \frac{1}{2} \xrightarrow{\alpha = \frac{\pi}{6}} \begin{cases} x = 2k\pi + \frac{\pi}{6} \\ x = 2k\pi + \pi - \frac{\pi}{6} = 2k\pi + \frac{5\pi}{6} \end{cases} \end{cases}$	۳
$\sin 3x = \sin 2x \rightarrow \begin{cases} 3x = 2k\pi + 2x \rightarrow x = 2k\pi & k \in Z \\ 3x = (2k+1)\pi - 2x \rightarrow x = \frac{(2k+1)\pi}{5} \end{cases}$	۴
$\cos 3x = \frac{\sqrt{3}}{2} \xrightarrow{\alpha = \frac{\pi}{6}} 3x = 2k\pi \pm \frac{\pi}{6} \rightarrow x = \frac{2k\pi}{3} \pm \frac{\pi}{12}$	۵
$\sin 3x = \frac{\sqrt{2}}{2} \xrightarrow{\alpha = \frac{\pi}{4}} \begin{cases} 3x = 2k\pi + \frac{\pi}{4} \rightarrow x = \frac{2k\pi}{3} + \frac{\pi}{12} \\ 3x = 2k\pi + \pi - \frac{\pi}{4} \rightarrow x = \frac{2k\pi}{3} + \frac{\pi}{4} \end{cases} \quad (k \in Z)$	۶

۷	<p>فرض کنیم که چنین مثلثی وجود داشته باشد. لذا</p> $S = \lambda\sqrt{2} \xrightarrow{0 < \theta < \pi} \frac{1}{2}(\lambda)(\lambda) \sin \theta = \lambda\sqrt{2} \rightarrow \sin \theta = \frac{\sqrt{2}}{2}$ $\alpha = \frac{\pi}{4} \rightarrow \begin{cases} \theta = 2k\pi + \frac{\pi}{4} \\ \theta = (2k+1)\pi - \frac{\pi}{4} \end{cases}$ <p>حال مقدار <math>\theta</math> مجاز را تعیین می کنیم.</p> <table border="1" style="margin-left: auto; margin-right: auto;"> <thead> <tr> <th><math>k</math></th> <th>۰</th> <th>۱</th> <th>۲</th> </tr> </thead> <tbody> <tr> <td><math>\theta</math></td> <td><math>\frac{\pi}{4}</math> و <math>\frac{3\pi}{4}</math></td> <td>بیش از حد مجاز</td> <td>بیش از حد مجاز</td> </tr> </tbody> </table> <p>لذا دو مثلث با این شرایط وجود دارد.</p>	$k$	۰	۱	۲	$\theta$	$\frac{\pi}{4}$ و $\frac{3\pi}{4}$	بیش از حد مجاز	بیش از حد مجاز
$k$	۰	۱	۲						
$\theta$	$\frac{\pi}{4}$ و $\frac{3\pi}{4}$	بیش از حد مجاز	بیش از حد مجاز						
۸	$2(1 - \cos^2 x) + 9 \cos x + 3 = 0 \rightarrow -2 \cos^2 x + 9 \cos x + 5 = 0$ $\Delta = 81 + 40 = 121 \rightarrow \begin{cases} \cos x = \frac{-9+11}{-4} \rightarrow \cos x = -\frac{1}{2} \\ \cos x = \frac{-9-11}{-4} \rightarrow \cos x = -5 \quad \text{غیر ممکن} \end{cases}$ $\cos x = -\frac{1}{2} \xrightarrow{\alpha = \pi - \frac{\pi}{3} = \frac{2\pi}{3}} x = 2k\pi \pm \frac{2\pi}{3} \quad k \in \mathbb{Z}$								
۹	$\cos 3x = \cos x \rightarrow \begin{cases} 3x = 2k\pi + x \\ 3x = 2k\pi - x \end{cases} \rightarrow \begin{cases} 2x = 2k\pi \\ 4x = 2k\pi \end{cases} \rightarrow \begin{cases} x = k\pi \\ x = \frac{k\pi}{2} \end{cases} \quad (k \in \mathbb{Z})$								
۱۰	$\sin x \cos x = \frac{\sqrt{2}}{4} \rightarrow \frac{1}{2}(\sin 2x) = \frac{\sqrt{2}}{4} \rightarrow \sin 2x = \frac{\sqrt{2}}{2}$ $\alpha = \frac{\pi}{4} \rightarrow \begin{cases} 2x = 2k\pi + \frac{\pi}{4} \rightarrow x = k\pi + \frac{\pi}{8} \\ 2x = 2k\pi + \pi - \frac{\pi}{4} \rightarrow x = k\pi + \frac{3\pi}{8} \end{cases}$								

$2 \cos^2 x = \sin x - 1 \xrightarrow{\cos^2 x = 1 - \sin^2 x} -2 \sin^2 x - \sin x + 3 = 0$ $\rightarrow \begin{cases} \sin x = 1 \rightarrow x = 2k\pi + \frac{\pi}{2} ; k \in Z \\ \sin x = -\frac{3}{2} \rightarrow \times \end{cases}$	۱۱
$2 \sin x \cos x + 3 \cos x = 0 \rightarrow \cos x(2 \sin x + 3) = 0$ $\rightarrow \begin{cases} \cos x = 0 \rightarrow x = k\pi + \frac{\pi}{2} ; k \in Z \\ \sin x = -\frac{3}{2} \quad \times \end{cases}$ <p style="text-align: right;">تساوی <math>\sin x = -\frac{3}{2}</math> غیر ممکن است.</p>	۱۲

**تهیه کننده: جابر عامری**

**عضو گروه ریاضی دوره ی دوّم متوسطه استان خوزستان**

[www.mathtower.ir](http://www.mathtower.ir)

@amerimath

پاسخ سئوالات موضوعی نهایی

فصل سوم حسابان ۲ پایه دوازدهم ریاضی فیزیک

حدهای نامتناهی و حد در بی نهایت

الف) $\lim_{x \rightarrow 2^+} \frac{2x+1}{4-x^2} = \frac{5}{-} = -\infty$	۱
ب) $\lim_{x \rightarrow +\infty} \frac{4x^5 + 3x^3 + 1}{-3x^5 + 3x^2 + 3} = \lim_{x \rightarrow +\infty} \frac{4x^5}{-3x^5} = \lim_{x \rightarrow +\infty} \frac{4}{-3} = -\frac{4}{3}$	۲
	درست
	۳
الف) $\lim_{x \rightarrow (-1)^-} \frac{x^2 + x}{x^2 + 2x + 1} = \lim_{x \rightarrow (-1)^-} \frac{x(x+1)}{(x+1)^2} = \lim_{x \rightarrow (-1)^-} \frac{x}{x+1} = +\infty$	۴
ب) $\lim_{x \rightarrow -\infty} \frac{5x^3 + 2x - 1}{-2x^3 + 4} = \lim_{x \rightarrow -\infty} \frac{5x^3}{-2x^3} = -\frac{5}{2}$	
الف) $+\infty$ ب) ۱	۵
الف) $\lim_{x \rightarrow 1^+} \frac{x^2 - 1}{(x-1)^2} = \lim_{x \rightarrow 1^+} \frac{(x-1)(x+1)}{(x-1)^2} = \lim_{x \rightarrow 1^+} \frac{x+1}{x-1} = +\infty$	۶
ب) $\lim_{x \rightarrow -\infty} (-2x^3 + x - 1) = \lim_{x \rightarrow -\infty} x^3 \left(-2 + \frac{1}{x^2} - \frac{1}{x^3}\right) = \lim_{x \rightarrow -\infty} (-2x^3) = +\infty$	
پ) $\lim_{x \rightarrow +\infty} \frac{x^3 + 1}{2x^3 - 4x} = \lim_{x \rightarrow +\infty} \frac{x^3}{2x^3} = \frac{1}{2}$	
	$-\infty$
	۷

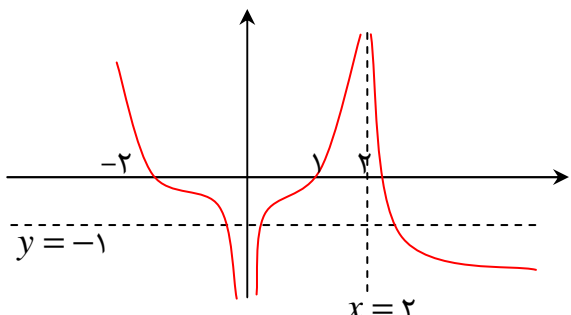
<p>الف) <math>\lim_{x \rightarrow 3^+} \frac{[x] - 2}{3 - x} = \frac{[3^+] - 2}{3 - 3^+} = \frac{3 - 2}{0^-} = \frac{1}{0^-} = -\infty</math></p> <p>ب) <math>\lim_{x \rightarrow +\infty} \left( \frac{3x+1}{x-5} - \frac{2}{x} \right) = \lim_{x \rightarrow +\infty} \frac{3x+1}{x-5} - \lim_{x \rightarrow +\infty} \frac{2}{x}</math></p> <p><math>= \lim_{x \rightarrow +\infty} \frac{3x}{x} - \lim_{x \rightarrow +\infty} \frac{2}{x} = 3 - 0 = 3</math></p>	۸
<p>الف) <math>\lim_{x \rightarrow \cdot^+} \frac{x^2 + x}{x^2} = \lim_{x \rightarrow \cdot^+} \frac{x(x+1)}{x^2} = \lim_{x \rightarrow \cdot^+} \frac{x+1}{x} = \frac{1}{\cdot^+} = +\infty</math></p> <p>ب) <math>\lim_{x \rightarrow \pm\infty} \frac{2x^2 - x + 1}{4x^3 + 2x - 1} = \lim_{x \rightarrow \pm\infty} \frac{2x^2}{4x^3} = \lim_{x \rightarrow \pm\infty} \frac{1}{2x} = \frac{1}{+\infty} = 0</math></p>	۹
<p>الف) <math>\lim_{x \rightarrow a^+} \frac{-2x}{f(x)} = \frac{-2a}{0^-} = +\infty</math>      ب) <math>\lim_{x \rightarrow a^-} \frac{-2x}{f(x)} = \frac{-2a}{0^+} = -\infty</math></p> <p>تابع <math>y = \frac{-2x}{f(x)}</math> در اطراف نقطه‌ی <math>x = a</math> حد ندارد و رفتار بی کران دارد.</p>	۱۰
<p>الف) <math>\lim_{x \rightarrow 3^+} \frac{[x] - 2}{3 - x} = \lim_{x \rightarrow 3^+} \frac{3 - 2}{3 - x} = \lim_{x \rightarrow 3^+} \frac{1}{3 - x} = \frac{1}{0^-} = -\infty</math></p> <p>ب) <math>\lim_{x \rightarrow +\infty} \frac{x - 2x^2}{4x^3 + 2x - 1} = \lim_{x \rightarrow +\infty} \frac{-2x^2}{4x^3} = \lim_{x \rightarrow +\infty} \frac{-1}{2x} = \frac{-1}{+\infty} = 0</math></p>	۱۱

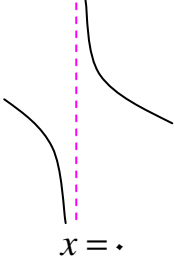


<p>الف : ۱۲</p> $\left. \begin{aligned} \lim_{x \rightarrow (\frac{\pi}{2})^+} \frac{x+1}{\tan x} &= \lim_{x \rightarrow (\frac{\pi}{2})^+} \frac{\frac{\pi}{2} + 1}{+\infty} = 0 \\ \lim_{x \rightarrow (\frac{\pi}{2})^-} \frac{x+1}{\tan x} &= \lim_{x \rightarrow (\frac{\pi}{2})^-} \frac{\frac{\pi}{2} + 1}{-\infty} = 0 \end{aligned} \right\} \rightarrow \lim_{x \rightarrow \frac{\pi}{2}} \frac{x+1}{\tan x} = 0$ <p>ب :</p> $\lim_{x \rightarrow \pm\infty} \frac{x^2 + 1}{x^3 + 2x^2 + 1} = \lim_{x \rightarrow \pm\infty} \frac{x^2}{x^3} = \lim_{x \rightarrow \pm\infty} \frac{1}{x} = 0$	
<p>الف) <math>\lim_{x \rightarrow (-1)^-} \frac{[x]+1}{x+1} = \frac{-2+1}{(-1)^-+1} = \frac{-1}{0^-} = +\infty</math></p> <p>ب) <math>\lim_{x \rightarrow -\infty} \frac{5x - x^3}{3x^2 + 2} = \lim_{x \rightarrow -\infty} \frac{-x^3}{3x^2} = \lim_{x \rightarrow -\infty} \frac{-x}{3} = +\infty</math></p>	۱۳
<p>الف) <math>\lim_{x \rightarrow 2^+} f(x) = +\infty</math>      ب) <math>\lim_{x \rightarrow 2^-} f(x) = -\infty</math></p>	۱۴
<p>الف) <math>\lim_{x \rightarrow 2^-} \frac{x+1}{ x-2 } = \frac{3}{0^+} = +\infty</math>      ب) <math>\lim_{x \rightarrow +\infty} \frac{3 + \frac{1}{x}}{\frac{4}{x} - 2} = \frac{3+0}{0-2} = -\frac{3}{2}</math></p>	۱۵
<p><math>+\infty</math></p>	۱۶
<p>الف) <math>\lim_{x \rightarrow 0^+} \frac{\sin 5x + [-x]}{2x} = \frac{-1}{0^+} = -\infty</math></p> <p>ب) <math>\lim_{x \rightarrow -\infty} \frac{x^2 + 2}{5 - x} = \lim_{x \rightarrow -\infty} \frac{x^2}{-x} = \lim_{x \rightarrow -\infty} -x = +\infty</math></p>	۱۷

مجانب افقی و مجانب قائم

$x^3 - 1 = 0 \rightarrow x^3 = 1 \rightarrow x = 1$ <p>این عدد ریشه‌ی صورت تابع نیست، لذا خط <math>x = 1</math> مجانب قائم است.</p> $\lim_{x \rightarrow \pm\infty} f(x) = \lim_{x \rightarrow \pm\infty} \frac{3x}{x^3 - 1} = \lim_{x \rightarrow \pm\infty} \frac{3x}{x^3} = \lim_{x \rightarrow \pm\infty} \frac{3}{x^2} = 0$ <p>لذا خط <math>y = 0</math> مجانب افقی است.</p>	۱
$\lim_{x \rightarrow -1} f(x) = \lim_{x \rightarrow -1} \frac{x^2 - 4x + 3}{x^2 - 2x - 3} = \infty$ $\lim_{x \rightarrow 3} f(x) = \lim_{x \rightarrow 3} \frac{x^2 - 4x + 3}{x^2 - 2x - 3} = \lim_{x \rightarrow 3} \frac{(x-3)(x-1)}{(x-3)(x+1)} = \frac{1}{2}$ <p>لذا طبق تعریف خط <math>x = -1</math> مجانب قائم منحنی <math>f</math> است. ولی خط <math>x = 3</math> مجانب قائم تابع نمی باشد.</p> <p><b>روش دوم:</b> مقدار <math>x = -1</math> ریشه‌ی مخرج است ولی ریشه صورت نمی باشد، لذا خط <math>x = -1</math> مجانب قائم منحنی <math>f</math> است. ولی مقدار ریشه‌ی مخرج و صورت است. پس خط <math>x = 3</math> مجانب قائم تابع نمی باشد.</p>	۲
<p><math>y = 1</math> و <math>y = -2</math></p>	۳
<p>مجانب های قائم <math>x = -1</math> , <math>1 - x^2 = 0 \rightarrow x = 1</math></p> <p>مجانب افقی <math>\lim_{x \rightarrow \pm\infty} f(x) = \lim_{x \rightarrow \pm\infty} \frac{1 + 2x^2}{1 - x^2} = \lim_{x \rightarrow \pm\infty} \frac{2x^2}{-x^2} = -2 \rightarrow y = -2</math></p>	۴
<p>مجانب افقی <math>\lim_{x \rightarrow \pm\infty} \frac{x+3}{2-x} = \lim_{x \rightarrow \pm\infty} \frac{x}{-x} = -1 \rightarrow y = -1</math></p> <p>مجانب قائم <math>2 - x = 0 \rightarrow x = 2</math></p>	۵

<p style="text-align: center;"><math>x^2 - x = 0 \rightarrow x(x-1) = 0 \rightarrow x=1, x=0</math></p> <p>خط <math>x=1</math> مجانب قائم است ولی ریشه‌ی <math>x=0</math> ، ریشه‌ی صورت است و لذا نمی تواند مجانب قائم باشد.</p> $\lim_{x \rightarrow \pm\infty} f(x) = \lim_{x \rightarrow \pm\infty} \frac{x^2 + x}{x^2 - x} = \lim_{x \rightarrow \pm\infty} \frac{x^2}{x^2} = 1$ <p style="text-align: right;">لذا خط <math>y=1</math> مجانب افقی است.</p>	۶
<p style="text-align: center;">نمودار های متفاوتی با این شرایط می توان رسم کرد. برای مثال :</p> 	۷
<p><math>x^2 - 4 = 0 \rightarrow x^2 = 4 \rightarrow x = \pm 2</math></p> <p><math>D_f = R - \{+2, -2\}</math></p> <p>مجانب های قائم ( ریشه های صورت نیستند). <math>x^2 - 4 = 0 \rightarrow x = \pm 2</math></p> <p>مجانب افقی <math>\lim_{x \rightarrow \pm\infty} \frac{x}{x^2 - 4} = \lim_{x \rightarrow \pm\infty} \frac{x}{x^2} = \lim_{x \rightarrow \pm\infty} \frac{1}{x} = 0 \rightarrow y = 0</math></p>	۸
<p>تکرار سؤال ۷</p>	۹
<p><math>D_f = R - \{+1, -1\}</math></p> <p>مجانب های قائم ( ریشه های صورت نیستند). <math> x  - 1 = 0 \rightarrow  x  = 1 \rightarrow x = \pm 1</math></p> <p>مجانب افقی <math>\lim_{x \rightarrow +\infty} \frac{2x+5}{ x -1} = \lim_{x \rightarrow +\infty} \frac{2x+5}{x-1} = \lim_{x \rightarrow +\infty} \frac{2x}{x} = 2 \rightarrow y = 2</math></p> <p>مجانب افقی <math>\lim_{x \rightarrow -\infty} \frac{2x+5}{ x -1} = \lim_{x \rightarrow -\infty} \frac{2x+5}{-x-1} = \lim_{x \rightarrow -\infty} \frac{2x}{-x} = -2 \rightarrow y = -2</math></p>	۱۰

$\lim_{x \rightarrow \pm\infty} y = \lim_{x \rightarrow \pm\infty} \frac{1+2x^2}{1-x^2} = \lim_{x \rightarrow \pm\infty} \frac{2x^2}{-x^2} = -2 \rightarrow y = -2$ <p>مجانب افقی</p> $1-x^2 = 0 \rightarrow -x^2 = -1 \rightarrow x^2 = 1 \rightarrow x = \pm 1$ <p>مجانب های قائم</p>	۱۱
$x^3 + x = 0 \rightarrow x = 0 \rightarrow \begin{cases} \lim_{x \rightarrow 0^+} f(x) = \lim_{x \rightarrow 0^+} \frac{x+1}{x^3+x} = +\infty \\ \lim_{x \rightarrow 0^-} f(x) = \lim_{x \rightarrow 0^-} \frac{x+1}{x^3+x} = -\infty \end{cases}$  <p style="text-align: center;"><math>x = 0</math></p>	۱۲
<p>معادله <math>x^2 + bx + c = 0</math> دارای یک ریشه است. لذا:</p> $x = -\frac{b}{2a} = -\frac{b}{2} = -1 \rightarrow b = 2$ <p style="text-align: right;">از طرفی</p> $x = -1 \xrightarrow{x^2+bx+c=0} (-1)^2 + b(-1) + c = 0 \xrightarrow{b=2} 1 - 2 + c = 0 \rightarrow c = 1$	۱۳
$2x^2 + x = 0 \rightarrow x = 0, x = -\frac{1}{2}$ <p>مجانب های قائم</p> $\lim_{x \rightarrow \pm\infty} f(x) = \lim_{x \rightarrow \pm\infty} \frac{4x^2+1}{2x^2+x} = \lim_{x \rightarrow \pm\infty} \frac{4x^2}{2x^2} = 2 \rightarrow y = 2$ <p>مجانب افقی</p>	۱۴
$x^2 - 1 = 0 \rightarrow x = 1, x = -1$ <p>مجانب های قائم</p> $\lim_{x \rightarrow \pm\infty} \frac{1-2x^2}{x^2-1} = \lim_{x \rightarrow \pm\infty} \frac{-2x^2}{x^2} = -2 \rightarrow y = -2$ <p>مجانب افقی</p>	۱۵
$2x + b = 0 \rightarrow x = -\frac{b}{2} \rightarrow -\frac{b}{2} = -1 \rightarrow b = 2$ $\frac{a+1}{2} = 2 \rightarrow a = 3$	۱۶

تابع مجانب قائم ندارد.  $x^2 + 3 = 0 \rightarrow x^2 = -3 \rightarrow$

$$\lim_{x \rightarrow \pm\infty} \frac{x+1}{x^2+3} = \lim_{x \rightarrow \pm\infty} \frac{x}{x^2} = \lim_{x \rightarrow \pm\infty} \frac{1}{x} = 0 \rightarrow y=0 \text{ مجانب افقی}$$

۱۷

تهیه کننده: جابر عامری

عضو گروه ریاضی دوره‌ی دوّم متوسطه استان خوزستان

[www.mathtower.ir](http://www.mathtower.ir)

@amerimath

پاسخ سئوالات موضوعی نهایی

فصل چهارم حسابان ۲ پایه دوازدهم ریاضی فیزیک

مفهوم مشتق

	۱	۱
	-۳	۲
		۳

محاسبه‌ی مشتق تابع در یک نقطه

$f'(\cdot) = \lim_{x \rightarrow 1} \frac{f(x) - f(1)}{x - 1} = \lim_{x \rightarrow 1} \frac{(x^2 - 3x + 2) - (0)}{x - 1} = \lim_{x \rightarrow 1} \frac{(x-1)(x-2)}{x-1}$ $= \lim_{x \rightarrow 1} (x - 2) = 1 - 2 = -1$	۱
$f(x) = \sqrt{x-2} \rightarrow f(3) = \sqrt{3-2} = 1$ $f'(3) = \lim_{x \rightarrow 3} \frac{f(x) - f(3)}{x - 3} = \lim_{x \rightarrow 3} \frac{\sqrt{x-2} - 1}{x - 3} = \lim_{x \rightarrow 3} \frac{\sqrt{x-2} - 1}{x - 3} \times \frac{\sqrt{x-2} + 1}{\sqrt{x-2} + 1}$ $= \lim_{x \rightarrow 3} \frac{\sqrt{x-2} - 1}{x - 3} \times \frac{\sqrt{x-2} + 1}{\sqrt{x-2} + 1} = \lim_{x \rightarrow 3} \frac{(x-2) - 1}{x - 3} \times \frac{1}{\sqrt{x-2} + 1}$ $= \lim_{x \rightarrow 3} \frac{x - 3}{x - 3} \times \frac{1}{\sqrt{x-2} + 1} = \lim_{x \rightarrow 3} \frac{1}{\sqrt{x-2} + 1} = \frac{1}{\sqrt{3-2} + 1} = \frac{1}{2}$ <p><math>m = \frac{1}{2}</math> شیب خط مماس</p> $y = m(x - x_0) - y_0$ $y = \frac{1}{2}(x - 3) - 1 \rightarrow y = \frac{1}{2}x - \frac{5}{2}$ معادله خط مماس	۲

$f'(1) = \lim_{x \rightarrow 1} \frac{f(x) - f(1)}{x - 1} = \lim_{x \rightarrow 1} \frac{(x^2 - 3x) - (-2)}{x - 1} = \lim_{x \rightarrow 1} \frac{x^2 - 3x + 2}{x - 1}$ $= \lim_{x \rightarrow 1} \frac{(x-1)(x-2)}{x-1} = \lim_{x \rightarrow 1} (x-2) = -1$	۳
۱۸	۴

**مشتق پذیری و پیوستگی**

<p>تابع در نقطه‌ی داده شده مشتق پذیر نیست. زیرا:</p> $f(2) = 0$ $f'_+(2) = \lim_{x \rightarrow 2^+} \frac{ x-2  - 0}{x-2} = \lim_{x \rightarrow 2^+} \frac{x-2}{x-2} = 1$ $f'_-(2) = \lim_{x \rightarrow 2^-} \frac{ x-2  - 0}{x-2} = \lim_{x \rightarrow 2^-} \frac{-(x-2)}{x-2} = -1$ <p style="text-align: right;">و <math>f'_+(2) \neq f'_-(2)</math> می باشد.</p>	۱
<p>تابع <math>f</math> در <math>x = -1</math> پیوسته است.</p> $f(-1) = (-1)^2 + (-1) = 1 - 1 = 0$ $f'_+(-1) = \lim_{x \rightarrow (-1)^+} \frac{ x^2 + x  - 0}{x + 1} = \lim_{x \rightarrow (-1)^+} \frac{-x(x+1)}{x+1} = 1$ $f'_-(-1) = \lim_{x \rightarrow (-1)^-} \frac{ x^2 + x  - 0}{x + 1} = \lim_{x \rightarrow (-1)^-} \frac{x(x+1)}{x+1} = -1$ <p>مشتق های راست و چپ تابع هر دو متناهی و نابرابرند. پس <math>x = -1</math> نقطه‌ی گوشه ای تابع است.</p>	۲

$\lim_{x \rightarrow a} f(x) = f(a):$ <p>کافی است که نشان دهیم:</p> $\lim_{x \rightarrow a} (f(x) - f(a)) = \lim_{x \rightarrow a} (x - a) \left( \frac{f(x) - f(a)}{x - a} \right)$ $= \lim_{x \rightarrow a} (x - a) \times \lim_{x \rightarrow a} \frac{f(x) - f(a)}{x - a} = 0 \times f'(a) = 0$ $\Rightarrow \lim_{x \rightarrow a} (f(x) - f(a)) = 0 \Rightarrow \lim_{x \rightarrow a} f(x) = f(a)$	۳
$f'(\cdot) = \lim_{x \rightarrow \cdot} \frac{\sqrt[3]{x} - \cdot}{x - \cdot} = \lim_{x \rightarrow \cdot} \frac{1}{\sqrt[3]{x^2}} = +\infty$	۴
$f'_+(2) = \lim_{x \rightarrow 2^+} \frac{f(x) - f(2)}{x - 2} = \lim_{x \rightarrow 2^+} \frac{ x^2 - 4  - 0}{x - 2} = \lim_{x \rightarrow 2^+} \frac{x^2 - 4}{x - 2}$ $= \lim_{x \rightarrow 2^+} \frac{(x - 2)(x + 2)}{x - 2} = \lim_{x \rightarrow 2^+} (x + 2) = 4$ $f'_-(2) = \lim_{x \rightarrow 2^-} \frac{f(x) - f(2)}{x - 2} = \lim_{x \rightarrow 2^-} \frac{ x^2 - 4  - 0}{x - 2} = \lim_{x \rightarrow 2^-} \frac{-(x^2 - 4)}{x - 2}$ $= \lim_{x \rightarrow 2^-} \frac{-(x - 2)(x + 2)}{x - 2} = \lim_{x \rightarrow 2^-} -(x + 2) = -4$ <p>و چون <math>f'_+(2) \neq f'_-(2)</math> پس تابع در این نقطه مشتق پذیر نیست.</p>	۵



$f'_+(1) = \lim_{x \rightarrow 1^+} \frac{f(x) - f(1)}{x - 1} = \lim_{x \rightarrow 1^+} \frac{(x^2 + 3) - 4}{x - 1} = \lim_{x \rightarrow 1^+} \frac{x^2 - 1}{x - 1}$ $= \lim_{x \rightarrow 1^+} \frac{(x - 1)(x + 1)}{x - 1} = \lim_{x \rightarrow 1^+} (x + 1) = 2$ $f'_-(1) = \lim_{x \rightarrow 1^-} \frac{f(x) - f(1)}{x - 1} = \lim_{x \rightarrow 1^-} \frac{(3x + 1) - 4}{x - 1} = \lim_{x \rightarrow 1^-} \frac{3x - 3}{x - 1}$ $= \lim_{x \rightarrow 1^-} \frac{3(x - 1)}{x - 1} = 3$ <p>و چون <math>f'_+(1) \neq f'_-(1)</math> پس تابع در این نقطه مشتق پذیر نیست.</p>	۶
<p style="text-align: right;">درست</p>	۷
<p>مشتق راست <math>f'_+(1) = \lim_{x \rightarrow 1^+} \frac{ x^2 - 1  - 0}{x - 1} = \lim_{x \rightarrow 1^+} \frac{x^2 - 1}{x - 1}</math></p> $= \lim_{x \rightarrow 1^+} \frac{(x - 1)(x + 1)}{x - 1} = \lim_{x \rightarrow 1^+} (x + 1) = 2$ <p>مشتق چپ <math>f'_-(1) = \lim_{x \rightarrow 1^-} \frac{ x^2 - 1  - 0}{x - 1} = \lim_{x \rightarrow 1^-} \frac{-(x^2 - 1)}{x - 1}</math></p> $= \lim_{x \rightarrow 1^-} \frac{-(x - 1)(x + 1)}{x - 1} = \lim_{x \rightarrow 1^-} -(x + 1) = -2$ <p>و چون <math>f'_+(1) \neq f'_-(1)</math> تابع در نقطه‌ی <math>x = 1</math> مشتق پذیر نیست.</p>	۸
<p style="text-align: right;">درست</p>	۹
<p style="text-align: right;">مماس قائم</p>	۱۰

$f'_+(\cdot) = \lim_{x \rightarrow \cdot^+} \frac{f(x) - f(\cdot)}{x - \cdot} = \lim_{x \rightarrow \cdot^+} \frac{x^2}{x} = \lim_{x \rightarrow \cdot^+} x = \cdot$ $f'_-(\cdot) = \lim_{x \rightarrow \cdot^-} \frac{f(x) - f(\cdot)}{x - \cdot} = \lim_{x \rightarrow \cdot^-} \frac{x}{x} = \lim_{x \rightarrow \cdot^-} 1 = 1$ <p>و چون مشتقات چپ و راست تابع در نقطه‌ی نابرابرند، پس تابع در این نقطه مشتق پذیر نیست.</p>	۱۱
	نادرست ۱۲

تابع در  $x = 1$  پیوسته است.

۱۳

$$\text{حد راست } \lim_{x \rightarrow 1^+} f(x) = \lim_{x \rightarrow 1^+} (ax + b) = a + b$$

$$\text{حد چپ } \lim_{x \rightarrow 1^-} f(x) = \lim_{x \rightarrow 1^-} (x^3 - 2x) = 1 - 2 = -1$$

$$\text{مقدار } f(1) = (1)^3 - 2(1) = 1 - 2 = -1$$

$$\Rightarrow a + b = -1 \rightarrow b + 1 = -a$$

مشتق راست و چپ تابع در  $x = 1$  برابرند.

$$f'_+(1) = \lim_{x \rightarrow 1^+} \frac{f(x) - f(1)}{x - 1} = \lim_{x \rightarrow 1^+} \frac{(ax + b) - (-1)}{x - 1} = \lim_{x \rightarrow 1^+} \frac{ax + b + 1}{x - 1}$$

$$= \lim_{x \rightarrow 1^+} \frac{ax - a}{x - 1} = \lim_{x \rightarrow 1^+} \frac{a(x - 1)}{x - 1} = a$$

$$f'_-(1) = \lim_{x \rightarrow 1^-} \frac{f(x) - f(1)}{x - 1} = \lim_{x \rightarrow 1^-} \frac{(x^3 - 2x) - (-1)}{x - 1} = \lim_{x \rightarrow 1^-} \frac{x^3 - 2x + 1}{x - 1}$$

$$= \lim_{x \rightarrow 1^-} \frac{(x^2 + x - 1)(x - 1)}{x - 1} = \lim_{x \rightarrow 1^-} (x^2 + x - 1) = 1 + 1 - 1 = 1$$

$$f'_+(1) = f'_-(1) \rightarrow a = 1$$

$$a + b = -1 \xrightarrow{a=1} b = -2$$

روش دوم

$$f(x) = \begin{cases} ax + b & x > 1 \\ x^3 - 2x & x \leq 1 \end{cases} \rightarrow f'(x) = \begin{cases} a & x > 1 \\ 3x^2 - 2 & x \leq 1 \end{cases}$$

$$f'_+(1) = \lim_{x \rightarrow 1^+} f'(x) = a \quad \text{و} \quad f'_-(1) = \lim_{x \rightarrow 1^-} f'(x) = \lim_{x \rightarrow 1^-} (3x^2 - 2) = 1$$

$$f'_+(1) = f'_-(1) \rightarrow a = 1$$

$$a + b = -1 \xrightarrow{a=1} b = -2$$

$\lim_{x \rightarrow \cdot^+} f(x) = \lim_{x \rightarrow \cdot^-} f(x) = f(\cdot) = \cdot$ $\left. \begin{aligned} f'_+(\cdot) &= \lim_{x \rightarrow \cdot^+} \frac{x^2 - \cdot}{x - \cdot} = \lim_{x \rightarrow \cdot^+} x = \cdot \\ f'_-(\cdot) &= \lim_{x \rightarrow \cdot^-} \frac{x^2 - \cdot}{x - \cdot} = \lim_{x \rightarrow \cdot^-} x = \cdot \end{aligned} \right\} \rightarrow f'_+(\cdot) = f'_-(\cdot)$ <p>لذا تابع داده شده در <math>x = 0</math> مشتق پذیر است.</p>	۱۴
<p>نادرست</p>	۱۵
<p>نادرست</p>	۱۶
<p>حد راست <math>\lim_{x \rightarrow 1^+} f(x) = \lim_{x \rightarrow 1^+} (x^2 + 1) = 2</math></p> <p>حد چپ <math>\lim_{x \rightarrow 1^-} f(x) = \lim_{x \rightarrow 1^-} (2x) = 2</math></p> <p>مقدار <math>f(1) = (1)^2 + 1 = 2</math></p> <p>لذا تابع در نقطه‌ی <math>x = 1</math> پیوسته است.</p> <p>مشتق راست <math>f'_+(1) = \lim_{x \rightarrow 1^+} \frac{f(x) - f(1)}{x - 1} = \lim_{x \rightarrow 1^+} \frac{(x^2 + 1) - (2)}{x - 1} = \lim_{x \rightarrow 1^+} \frac{x^2 - 1}{x - 1}</math></p> $= \lim_{x \rightarrow 1^+} \frac{(x-1)(x+1)}{x-1} = 2$ <p>مشتق چپ <math>f'_-(1) = \lim_{x \rightarrow 1^-} \frac{f(x) - f(1)}{x - 1} = \lim_{x \rightarrow 1^-} \frac{(2x) - (2)}{x - 1} = \lim_{x \rightarrow 1^+} \frac{2(x-1)}{x-1} = 2</math></p>	۱۷
<p>پیوسته</p>	۱۸
$f'_+(1) = \lim_{x \rightarrow 1^+} \frac{1 - 1}{x - 1} = -1 \quad \text{و} \quad f'_-(1) = \lim_{x \rightarrow 1^-} \frac{1 - 1}{x - 1} = 0$ <p>و چون <math>f'_+(1) \neq f'_-(1)</math> لذا <math>f'(1)</math> موجود نیست.</p>	۱۹

نادرست	۲۰
ابتدا معادله‌ی تابع را به صورت چند ضابطه ای می نویسیم.	
$f(x) = \begin{cases} 4x(1-x) & x \geq 0 \\ 4x(1+x) & x < 0 \end{cases} \rightarrow f(x) = \begin{cases} 4x - 4x^2 & x \geq 0 \\ 4x + 4x^2 & x < 0 \end{cases}$	
اکنون پیوستگی تابع را در نقطه‌ی $x = 0$ بررسی می کنیم.	
$\lim_{x \rightarrow 0^+} f(x) = \lim_{x \rightarrow 0^+} (4x - 4x^2) = 0$	
$\lim_{x \rightarrow 0^-} f(x) = \lim_{x \rightarrow 0^-} (4x + 4x^2) = 0$	
در نهایت مشتقات یک طرفه را در نقطه‌ی $x = 0$ بررسی می کنیم.	
$f'_+(0) = \lim_{x \rightarrow 0^+} \frac{4x - 4x^2}{x} = \lim_{x \rightarrow 0^+} \frac{x(4 - 4x)}{x} = \lim_{x \rightarrow 0^+} (4 - 4x) = 4$	
$f'_-(0) = \lim_{x \rightarrow 0^-} \frac{4x + 4x^2}{x} = \lim_{x \rightarrow 0^-} \frac{x(4 + 4x)}{x} = \lim_{x \rightarrow 0^-} (4 + 4x) = 4$	
و چون تابع داده شده در نقطه‌ی داده شده پیوسته بوده و در این نقطه مشتقات یک طرفه مساویند، لذا تابع در نقطه‌ی $x = 0$ مشتق پذیر است.	

**تعبیر هندسی مشتق**

b : پ	d : ب	الف : a	۱
			نادرست
			A
نمودار (ب) : سهمی نمودار داده شده رو به پایین است. پس ضریب $x^2$ منفی است. لذا در مشتق تابع ضریب $x$ منفی خواهد بود. در نتیجه نمودار مشتق، خطی با شیب منفی است.			۴

<table border="1"> <thead> <tr> <th>شیب</th> <th>نقطه</th> </tr> </thead> <tbody> <tr> <td>۰</td> <td>D</td> </tr> <tr> <td>۲</td> <td>C</td> </tr> <tr> <td>۰/۵</td> <td>B</td> </tr> <tr> <td>-۰/۵</td> <td>A</td> </tr> </tbody> </table>	شیب	نقطه	۰	D	۲	C	۰/۵	B	-۰/۵	A	۵
شیب	نقطه										
۰	D										
۲	C										
۰/۵	B										
-۰/۵	A										
(i) ب (E)      (ii) الف (مثبت)      (iii) ب (کتر)	۶										
<p>الف) <math>A \begin{vmatrix} ۲ \\ ۳ \end{vmatrix}, B \begin{vmatrix} ۰ \\ ۱ \end{vmatrix} \rightarrow m = f'(۲) = \frac{۳-۱}{۲-۰} = ۱</math></p> <p>ب) <math>y - ۳ = ۱(x - ۲) \rightarrow y = x + ۱</math></p>	۷										
<p><math>f(۲) = ۱۶</math></p> <p>شیب خط مماس <math>f'(x) = -۲x + ۱۰ \rightarrow f'(۲) = ۶</math></p> <p>معادله‌ی خط مماس <math>y - ۱۶ = ۶(x - ۲) \rightarrow y = ۶x + ۴</math></p>	۸										
<table border="1"> <thead> <tr> <th>x</th> <th>f(x)</th> </tr> </thead> <tbody> <tr> <td>d</td> <td>۰</td> </tr> <tr> <td>b</td> <td>۰/۵</td> </tr> <tr> <td>c</td> <td>۲</td> </tr> <tr> <td>a</td> <td>-۰/۵</td> </tr> </tbody> </table>	x	f(x)	d	۰	b	۰/۵	c	۲	a	-۰/۵	۹
x	f(x)										
d	۰										
b	۰/۵										
c	۲										
a	-۰/۵										
<p>با توجه به شیب خط مماس در نقاط تعیین شده</p> <table border="1"> <tbody> <tr> <td>شیب</td> <td>-۲</td> <td>-۱</td> <td>۰/۵</td> <td>۲</td> </tr> <tr> <td>نقطه</td> <td>D</td> <td>B</td> <td>A</td> <td>C</td> </tr> </tbody> </table>	شیب	-۲	-۱	۰/۵	۲	نقطه	D	B	A	C	۱۰
شیب	-۲	-۱	۰/۵	۲							
نقطه	D	B	A	C							
<p><math>m_B &gt; ۰</math> و <math>m_A &lt; ۰</math> و <math>m_{AB} = ۰</math></p> <p><math>\Rightarrow m_A &lt; m_{AB} &lt; m_B</math></p>	۱۱										

$f'(x) = 3x^2 - 2 \rightarrow f'(1) = 3(1)^2 - 2 = 1 \rightarrow m = 1$ شیب خط مماس $f(x) = x^3 - 2x \rightarrow f(1) = (1)^3 - 2(1) = -1 \rightarrow \begin{cases} a = 1 \\ b = -1 \end{cases}$ معادله‌ی خط مماس $y = m(x - a) + b \rightarrow y = 1(x - 1) + (-1) = x - 2$	۱۲
$x = c$ : پ $x = d$ : ب $x = b$ : الف	۱۳

محاسبه‌ی مشتق

$(f + g)'(2) = f'(2) + g'(2) = 1 + 2 = 3$ $(fg)'(2) = f'(2)g(2) + f(2)g'(2) = (1)(-3) + (3)(2) = -3 + 6 = 3$	۱
	۲
$A \begin{vmatrix} 2 \\ 4 \end{vmatrix}, B \begin{vmatrix} \cdot \\ \cdot \end{vmatrix} \rightarrow m = f'(1) = \frac{4 - \cdot}{2 - \cdot} = 2, \quad f(1) = 2$ $C \begin{vmatrix} \cdot \\ 4 \end{vmatrix}, D \begin{vmatrix} 4 \\ \cdot \end{vmatrix} \rightarrow m = g'(1) = \frac{4 - \cdot}{\cdot - 4} = -1, \quad g(1) = 3$ $h'(1) = \frac{f'(1)g(1) - f(1)g'(1)}{g^2(1)} = \frac{(2)(3) - (2)(-1)}{9} = \frac{8}{9}$	۳
	۴
$(3f + 2g)'(1) = 3f'(1) + 2g'(1) = 3(3) + 2(5) = 19$	۵

مشتق گیری از توابع

الف) $y = \frac{2x(x^3 + 2x - 5) - (x^2 + 1)(3x^2 + 2)}{(x^3 + 2x - 5)^2}$ ب) $y = -3 \times 2 \cos(-3x + 1)(-\sin(-3x + 1))$	۱
الف) $y = \frac{2x(x^3 + 2x + 1) - (x^2 - 1)(3x^2 + 2)}{(x^3 + 2x + 1)^2}$ ب) $y = -6 \times \sin(2x) \cos^2(2x)$	۲

<p>الف) <math>y = \frac{2x(\Delta x^3 - 3x + 1) - x^2(1\Delta x^2 - 3)}{(\Delta x^3 - 3x + 1)^2}</math></p> <p>ب) <math>y = 3 \times 2 \cos(2x + 1) \sin^2(2x + 1)</math></p>	۳
<p>الف) <math>f'(x) = 4(\epsilon x^2 + \frac{1}{3\sqrt[3]{x^2}})(2x^3 + \sqrt[3]{x} - 1)^3</math></p> <p>ب) <math>f'(x) = -\frac{(1)(x^2 + 1) - 2x(x)}{(x + 1)^2} \times \sin(\frac{x}{x^2 + 1})</math></p>	۴
<p>الف) <math>y' = \frac{2(x^3 - 2x^2) - (3x^2 - 4x)(2x + 3)}{(x^3 - 2x^2)^2}</math></p> <p>ب) <math>y' = 3 \times 2 \cos(2x + 1) \sin^2(2x + 1)</math></p>	۵
<p>الف) <math>f'(x) = \frac{(2x - 3)(-3x + 2) - (-3)(x^2 - 3x + 1)}{(-3x + 2)^2}</math></p> <p>ب) <math>g'(x) = \frac{1}{2\sqrt{x}}(3x^2 + 5) + (\epsilon x)\sqrt{x}</math></p> <p>پ) <math>h'(x) = 3 \cos x \sin^2 x - 2 \sin x \cos x</math></p>	۶
<p>الف) <math>f'(x) = 3(2x)(x^2 + 1)^2(\Delta x - 1) + 5(x^2 + 1)^3</math></p> <p>ب) <math>f'(x) = \frac{-\Delta \sin x(1 - \sin x) - (\cos x)(\Delta \cos x)}{(1 - \sin x)^2}</math></p>	۷



<p>الف) <math>f(x) = u.v \rightarrow f'(x) = u'.v + v'.u</math></p> <p><math>u = 2\sqrt{x} \rightarrow u' = 2 \times \frac{1}{2\sqrt{x}} = \frac{1}{\sqrt{x}}</math></p> <p><math>v = 5x^2 - 3x \rightarrow v' = 10x - 3</math></p> <p><math>f'(x) = \frac{1}{\sqrt{x}}(5x^2 - 3x) + 2\sqrt{x}(10x - 3)</math></p> <p>ب) <math>g(x) = \sin 3x + \cos^2(4x^3 - 2)</math></p> <p><math>g'(x) = 3\cos 3x - 2(12x^2)\sin(4x^3 - 2)\cos(4x^3 - 2)</math></p>	۸
<p>الف) <math>f'(x) = \left(\frac{3}{2\sqrt{3x+2}}\right)(x^3+1) + (3x^2)(\sqrt{3x+2})</math></p> <p>ب) <math>g'(x) = 7(2x+3)(x^2+3x+1)^6</math></p> <p>پ) <math>h'(x) = \frac{(2x-5)(-2x+9) - (-2)(x^2-5x+7)}{(-2x+9)^2}</math></p>	۹
<p>الف) <math>f'(x) = 12x^2(2x-1)^4 + 4(2x-1)^3(2)(4x^3-7)</math></p> <p>ب) <math>g'(x) = \frac{-\cos x(\cos x) - (-\sin x)(1-\sin x)}{\cos^2 x}</math></p>	۱۰
<p>الف) <math>f'(x) = \frac{3}{2\sqrt{3x}}(2x^3-1) + (\sqrt{3x}+1)(6x^2)</math></p> <p>ب) <math>g'(x) = 6(\tan x)(1+\tan^2 x) + 2x(-\sin x^2)</math></p> <p>پ) <math>h'(x) = \frac{(2x-3)(5x) - (5)(x^2-3x)}{(5x)^2}</math></p>	۱۱
<p>الف) <math>f'(x) = \frac{(2\cos \frac{x}{2})(x^2+\sqrt{x}) - (2x+\frac{1}{2\sqrt{x}})(2\sin \frac{x}{2})}{(x^2+\sqrt{x})^2}</math></p> <p>ب) <math>g'(x) = 3(x^2-6x)^3 + 3x(2x-6)(x^2-6x)^2 - 2\sin 2x</math></p>	۱۲

**مشتق تابع مرکب و قاعده زنجیری**

	۱

**مشتق پذیری روی یک بازه**

<p>تابع <math>f</math> در <math>x = -1</math> پیوسته نیست، لذا در این نقطه مشتق پذیر هم نیست. در نتیجه در بازه <math>[-2, 0]</math> مشتق نیز پذیر نیست.</p>	۱

**مشتق مرتبه دوم**

$f'(x) = 2 \sin x \cos x + 2 \sin 2x = \sin 2x + 2 \sin 2x = 3 \sin 2x$ $f''(x) = 6 \cos 2x \xrightarrow{x=\frac{\pi}{6}} f''\left(\frac{\pi}{6}\right) = 6 \cos 2\left(\frac{\pi}{6}\right) = 6 \cos\left(\frac{\pi}{3}\right) = 6 \times \frac{1}{2} = 3$	۱
---	---

**آهنگ متوسط تغییر و آهنگ لحظه ای تغییر**

$m'(t) = \frac{1}{2\sqrt{t}} + 2t \rightarrow m'(9) = \frac{1}{2\sqrt{9}} + 2(9) = \frac{1}{6} + 18 = \frac{109}{6}$	۱
$f(x) = x^3 - 2x \rightarrow \begin{cases} f(2) = (2)^3 - 2(2) = 8 - 4 = 4 \\ f(0) = (0)^3 - 2(0) = 0 \end{cases}$ <p>آهنگ تغییر متوسط <math>\frac{f(2) - f(0)}{2 - 0} = \frac{4 - 0}{2} = 2</math></p> $f'(x) = 3x^2 - 2 \xrightarrow{x=1} f'(1) = 3(1)^2 - 2 = 1$ <p>آهنگ تغییر لحظه ای</p>	۲

$m'(t) = \frac{1}{2\sqrt{t}} + 2t \rightarrow m'(4) = \frac{1}{2\sqrt{4}} + 2(4) = \frac{1}{4} + 16 = \frac{65}{4}$	۳
$f'(x) = 4x + 5 \Rightarrow \begin{cases} f'(-1) = 1 \\ f'(2) = 13 \end{cases}$ برابر ۱۳	۴
درست	۵
$f(5) = (5)^2 - (5) + 10 = 25 - 5 + 10 = 30$ $f(0) = (0)^2 - (0) + 10 = 10$ سرعت متوسط $\frac{\Delta y}{\Delta t} = \frac{f(5) - f(0)}{5 - 0} = \frac{30 - 10}{5} = 4$ سرعت لحظه ای $f'(t) = 2t - 1$ $f'(t) = 4 \rightarrow 2t - 1 = 4 \rightarrow t = \frac{5}{2}$	۶
-۴	۷
درست	۸
(الف) $m(t) = \sqrt{t} + t^2 \rightarrow \begin{cases} m(3) = \sqrt{3} + (3)^2 = 9 + \sqrt{3} \\ m(4) = \sqrt{4} + (4)^2 = 2 + 16 = 18 \end{cases}$ $\frac{\Delta m}{\Delta t} = \frac{m(4) - m(3)}{4 - 3} = 18 - (9 + \sqrt{3}) = 9 - \sqrt{3}$ (ب) $m'(t) = \frac{1}{2\sqrt{t}} + 2t \rightarrow m'(9) = \frac{1}{2\sqrt{9}} + 2(9) = \frac{1}{6} + 18 = \frac{109}{6}$	۹
$\frac{1}{6}$	۱۰
$f'(t) = -4t + 10 \rightarrow f'(2) = -8 + 10 = 2$	۱۱

<p>الف) <math>h(2) = -5(2)^2 + 40(2) = -20 + 80 = 60</math> و <math>h(1) = -5(1)^2 + 40(1) = -5 + 40 = 35</math></p> $\Rightarrow \frac{h(2) - h(1)}{2 - 1} = \frac{60 - 35}{1} = 25$ <p>ب) <math>h'(t) = -10t + 40 \rightarrow h'(3) = -10(3) + 40 = 10</math></p>	۱۲
<p>ای <math>f'(t) = -\frac{240}{t^2} \rightarrow f'(4) = -\frac{240}{(4)^2} = -15</math></p> <p>متوسط آهنگ <math>\frac{f(5) - f(3)}{5 - 3} = \frac{48 - 80}{2} = -16</math></p> <p>اختلاف آهنگ لحظه ای و آهنگ متوسط <math>-15 - (-16) = 1</math></p>	۱۳

**تهیه کننده :**

**جابر عامری عضو گروه ریاضی دوره‌ی دوم متوسطه استان خوزستان**

[www.mathtower.ir](http://www.mathtower.ir)

**@amerimath**

پاسخ سوالات موضوعی نهایی

فصل پنجم حسابان ۲ پایه دوازدهم ریاضی فیزیک

اکسترمم های یک تابع و توابع صعودی و نزولی

مثبت	۱												
$f'(x) = \frac{2x-2}{2\sqrt{x^2-2x+4}} \quad f'(x)=0 \rightarrow 2x-2=0 \rightarrow x=1$	۲												
$f(0) = f(2) = 2$ ماکزیمم مطلق $f(1) = \sqrt{3}$ مینیمم مطلق													
$f'(x) = \frac{2x}{(x^2+1)^2} \quad f'(x)=0 \rightarrow x=0$	۳												
<table border="1" style="margin-left: auto; margin-right: auto;"> <tr> <td style="padding: 5px;"><math>x</math></td> <td style="padding: 5px;"><math>-\infty</math></td> <td style="padding: 5px;"><math>0</math></td> <td style="padding: 5px;"><math>+\infty</math></td> </tr> <tr> <td style="padding: 5px;"><math>f'(x)</math></td> <td style="padding: 5px;">-</td> <td style="padding: 5px;"><math>0</math></td> <td style="padding: 5px;">+</td> </tr> <tr> <td style="padding: 5px;"><math>f(x)</math></td> <td style="padding: 5px;"></td> <td style="padding: 5px;"><math>0</math></td> <td style="padding: 5px;"></td> </tr> </table> <p style="text-align: center;">تابع در فاصله <math>(-\infty, 0)</math> نزولی و در فاصله <math>(0, +\infty)</math> صعودی است.</p>	$x$	$-\infty$	$0$	$+\infty$	$f'(x)$	-	$0$	+	$f(x)$		$0$		
$x$	$-\infty$	$0$	$+\infty$										
$f'(x)$	-	$0$	+										
$f(x)$		$0$											
مثبت	۴												
	۵												
	الف) نادرست      ب) درست												
$f(x) = \frac{1}{3}x^3 - x \rightarrow f'(x) = x^2 - 1 \quad f'(x)=0 \rightarrow x^2 - 1 = 0 \rightarrow x = \pm 1$	۶												
$\rightarrow \begin{cases} x=0 \rightarrow f(0) = 0 \\ x=1 \rightarrow f(1) = -\frac{2}{3} \\ x=-1 \rightarrow f(-1) = \frac{2}{3} \\ x=2 \rightarrow f(2) = \frac{2}{3} \end{cases}$													
<p>لذا <math>f(-1) = f(2) = \frac{2}{3}</math> ماکزیمم مطلق و <math>f(1) = -\frac{2}{3}</math> مینیمم مطلق است.</p>													

<p><math>f'(x) = x^2 + 2x \xrightarrow{f'(x)=0} x=0, x=-2</math></p> <p><math>f(0) = 0, f(-2) = \frac{2}{3}, f(3) = 18</math></p> <p>لذا ماکزیمم مطلق تابع برابر ۱۸ و مینیمم مطلق آن صفر می باشد.</p> <table border="1" style="margin-left: auto; margin-right: auto;"> <tr> <td style="padding: 5px;"><math>x</math></td> <td style="padding: 5px;"><math>-2</math></td> <td style="padding: 5px;"><math>0</math></td> <td style="padding: 5px;"><math>3</math></td> </tr> <tr> <td style="padding: 5px;"><math>f'</math></td> <td style="padding: 5px;">+</td> <td style="padding: 5px;">0</td> <td style="padding: 5px;">-</td> </tr> <tr> <td style="padding: 5px;"><math>f</math></td> <td style="padding: 5px;">↗</td> <td style="padding: 5px;"><math>\frac{2}{3}</math></td> <td style="padding: 5px;">↘ ↗</td> </tr> </table> <p style="text-align: right;">همچنین مینیمم نسبی تابع صفر می باشد.</p>	$x$	$-2$	$0$	$3$	$f'$	+	0	-	$f$	↗	$\frac{2}{3}$	↘ ↗	۷
$x$	$-2$	$0$	$3$										
$f'$	+	0	-										
$f$	↗	$\frac{2}{3}$	↘ ↗										
<p><math>f'(x) = 6x^2 + 6x - 12 \xrightarrow{f'(x)=0} \begin{cases} x=1 \\ x=-2 \end{cases}</math></p> <p>ریشه‌ی <math>x = -2</math> قابل قبول نمی باشد.</p> <p><math>f(-1) = 13, f(2) = 4, f(1) = -7 \Rightarrow \min : (1, -7), \max : (-1, 13)</math></p>	۸												
<p>نادرست</p>	۹												
<p><math>(-2, 2)</math></p>	۱۰												
<p>الف : نقاط اکسترمم های نسبی تابع عبارتند از <math>(1, 0)</math> و <math>(0, 1)</math> و <math>(-1, 0)</math></p> <p>ب : نقاط اکسترمم های مطلق تابع عبارتند از <math>(3, 8)</math> و <math>(1, 0)</math> و <math>(-1, 0)</math></p> <p>پ : خیر، زیرا در نقطه‌ی <math>(1, 0)</math> از این فاصله مشتق پذیر نیست.</p>	۱۱												
<p><math>x^2 + 1 = 0 \rightarrow x^2 = -1</math> معادله ریشه ندارد. <math>\Rightarrow D_f = R</math></p> <p><math>f'(x) = \frac{1(x^2 + 1) - 2x(x)}{(x^2 + 1)^2} = \frac{-x^2 + 1}{(x^2 + 1)^2} \xrightarrow{f'(x)=0} -x^2 + 1 = 0 \rightarrow x^2 = 1</math></p> <p><math>\rightarrow x = 1, x = -1</math> نقاط بحرانی</p>	۱۲												

	۱۳												
<table border="1" style="width: 100%; border-collapse: collapse;"> <thead> <tr> <th style="width: 15%;"><math>x</math></th> <th style="width: 40%;"><math>-2 \leq x &lt; -1</math></th> <th style="width: 45%;"><math>-1 \leq x \leq 2</math></th> </tr> </thead> <tbody> <tr> <td><math>f(x)</math></td> <td><math>f(x) = x^2 - x - 1</math></td> <td><math>f(x) = x^2 + x + 1</math></td> </tr> <tr> <td><math>f'(x)</math></td> <td><math>f'(x) = 2x - 1</math></td> <td><math>f'(x) = 2x + 1</math></td> </tr> <tr> <td><math>f'(x) = 0</math></td> <td><math>x = \frac{1}{2}</math> غیر قابل قبول</td> <td><math>x = -\frac{1}{2}</math></td> </tr> </tbody> </table>	$x$	$-2 \leq x < -1$	$-1 \leq x \leq 2$	$f(x)$	$f(x) = x^2 - x - 1$	$f(x) = x^2 + x + 1$	$f'(x)$	$f'(x) = 2x - 1$	$f'(x) = 2x + 1$	$f'(x) = 0$	$x = \frac{1}{2}$ غیر قابل قبول	$x = -\frac{1}{2}$	
$x$	$-2 \leq x < -1$	$-1 \leq x \leq 2$											
$f(x)$	$f(x) = x^2 - x - 1$	$f(x) = x^2 + x + 1$											
$f'(x)$	$f'(x) = 2x - 1$	$f'(x) = 2x + 1$											
$f'(x) = 0$	$x = \frac{1}{2}$ غیر قابل قبول	$x = -\frac{1}{2}$											
<p>و چون <math>f'_+(-1) \neq f'_-(-1)</math>، لذا تابع در نقطه‌ی <math>x = -1</math> مشتق پذیر نیست.</p> <p>اکنون عرض نقاط <math>x = 2</math> و <math>x = -2</math> و <math>x = -\frac{1}{2}</math> و <math>x = -1</math> را تعیین و مقایسه می‌کنیم.</p> <p><math>x = -2 \rightarrow f(-2) = (-2)^2 +  -2 + 1  = 4 + 1 = 5</math></p> <p><math>x = 2 \rightarrow f(2) = (2)^2 +  2 + 1  = 4 + 3 = 7</math>      ماکزیمم مطلق</p> <p><math>x = -\frac{1}{2} \rightarrow f(-\frac{1}{2}) = (-\frac{1}{2})^2 +  -\frac{1}{2} + 1  = \frac{1}{4} + \frac{1}{2} = \frac{3}{4}</math>      مینیمم مطلق</p> <p><math>x = -1 \rightarrow f(-1) = (-1)^2 +  -1 + 1  = 1</math></p>													
<p><math>f'(x) = 6x^2 + 6x - 12 \xrightarrow{f'(x)=0} 6x^2 + 6x - 12 = 0 \xrightarrow{\div 6} x^2 + x - 2 = 0</math></p> <p><math>\rightarrow x = 1, x = -2</math></p> <p><math>f(-1) = 13</math>  <math>f(1) = -7</math>  <math>f(3) = 45</math> } <math>\rightarrow \min : (1, -7), \max : (3, 45)</math></p>	۱۴												
<p><math>f(x) = x^3 - 3x + 1 \rightarrow f'(x) = 3x^2 - 3 \xrightarrow{f'(x)=0} 3x^2 - 3 = 0 \rightarrow 3x^2 = 3</math></p> <p><math>\rightarrow x^2 = 1 \rightarrow x = \pm 1</math></p> <p><math>\begin{cases} f(1) = -1 \\ f(-1) = 3 \\ f(2) = 3 \end{cases} \rightarrow \begin{cases} \min(f) = -1 \\ \max(f) = 3 \end{cases}</math></p>	۱۵												
ب: درست	الف: درست	۱۶											

$f'(x) = 3x^2 - 6x \xrightarrow{f'(x)=0} \begin{cases} x=0 \\ x=2 \notin [-1,1] \end{cases}$ $f(1) = (1)^3 - 3(1)^2 + 1 = 1 - 3 + 1 = -1$ $f(0) = (0)^3 - 3(0)^2 + 1 = 1 \quad \text{ماکزیمم مطلق}$ $f(-1) = (-1)^3 - 3(-1)^2 + 1 = -1 - 3 + 1 = -3 \quad \text{مینیمم مطلق}$	۱۷
---	----

**بهینه سازی**

<p>جعبه طول <math>16 - 2x</math> ، <math>x \in (0, 8)</math></p> <p>جعبه عرض <math>6 - 2x</math> ؛ <math>x \in (0, 3)</math></p> <p>جعبه حجم <math>v(x) = x(16 - 2x)(6 - 2x) \rightarrow v(x) = 4x^3 - 44x^2 + 96x</math> ؛ <math>x \in (0, 3)</math></p> $v'(x) = 12x^2 - 88x + 96 \xrightarrow{v'(x)=0} 12x^2 - 88x + 96 = 0$ $\xrightarrow{\div 4} 3x^2 - 22x + 24 = 0 \rightarrow x = 6 \quad , \quad x = \frac{4}{3}$ <p>و چون <math>6 \notin (0, 3)</math> لذا فقط <math>x = \frac{4}{3}</math> قابل قبول است و به ازای این مقدار، جعبه‌ی مذکور بیشترین حجم را دارد.</p>	۱
--	---

**آزمون مشتق اول**

$f(x) = -x^3 + ax + b \rightarrow f'(x) = -3x^2 + a \xrightarrow{f'(1)=0} -3 + a = 0 \rightarrow a = 3$ $f(1) = 2 \rightarrow -1 + 3 + b = 2 \rightarrow b = 0$	۱
$f(x) = x^3 + ax + b \rightarrow f'(x) = 3x^2 + a \xrightarrow{f'(1)=0} 3 + a = 0 \rightarrow a = -3$ $f(x) = x^3 + ax + b \xrightarrow{f(1)=2} 1 + a + b = 2 \xrightarrow{a=-3} b = 4$	۲
$f(x) = x^3 + bx^2 + d \xrightarrow{f(2)=1} 1 = 8 + 4b + d \rightarrow 4b + d = -7$ $f'(x) = 3x^2 + 2bx \xrightarrow{f'(2)=0} 0 = 12 + 4b \rightarrow b = -3$ $4b + d = -7 \xrightarrow{b=-3} -12 + d = -7 \rightarrow d = 5$	۳
	۴ درست



جهت تقعر نمودار یک تابع و نقطه‌ی عطف

$f'(x) = -3x^2 + 6x \rightarrow f''(x) = -6x + 6 \xrightarrow{f''(x)=0} x=1$ <table border="1" style="margin-left: auto; margin-right: auto;"> <tr> <td style="padding: 5px;"><math>x</math></td> <td style="padding: 5px;"><math>-\infty</math></td> <td style="padding: 5px;"><math>1</math></td> <td style="padding: 5px;"><math>+\infty</math></td> </tr> <tr> <td style="padding: 5px;"><math>y''</math></td> <td style="padding: 5px;"><math>+</math></td> <td style="padding: 5px;"><math>0</math></td> <td style="padding: 5px;"><math>-</math></td> </tr> <tr> <td style="padding: 5px;"><math>y</math></td> <td style="padding: 5px;"><math>\cup</math></td> <td style="padding: 5px;"><math>\cap</math></td> <td style="padding: 5px;"><math>\cup</math></td> </tr> </table> <p style="text-align: center;">عطف</p> <p style="text-align: right;">نقطه‌ی عطف <math>(1, 3)</math></p>	$x$	$-\infty$	$1$	$+\infty$	$y''$	$+$	$0$	$-$	$y$	$\cup$	$\cap$	$\cup$	۱
$x$	$-\infty$	$1$	$+\infty$										
$y''$	$+$	$0$	$-$										
$y$	$\cup$	$\cap$	$\cup$										
$f(x) = ax^3 + bx^2 - 1 \xrightarrow{f(1)=1} a + b - 1 = 1 \rightarrow a + b = 2$ $f'(x) = 3ax^2 + 2bx \rightarrow f''(x) = 6ax + 2b \xrightarrow{f''(1)=0} 6a + 2b = 0$ $\rightarrow \begin{cases} a + b = 2 \\ 6a + 2b = 0 \end{cases} \rightarrow a = -1, b = 3$	۲												
$f(x) = x^3 + 3x + 1 \rightarrow f'(x) = 3x^2 + 3 \rightarrow f''(x) = 6x$ $\xrightarrow{f''(x)=0} 6x = 0 \rightarrow x = 0$ <table border="1" style="margin-left: auto; margin-right: auto;"> <tr> <td style="padding: 5px;"><math>x</math></td> <td style="padding: 5px;"><math>-\infty</math></td> <td style="padding: 5px;"><math>0</math></td> <td style="padding: 5px;"><math>+\infty</math></td> </tr> <tr> <td style="padding: 5px;"><math>y''</math></td> <td style="padding: 5px;"><math>-</math></td> <td style="padding: 5px;"><math>0</math></td> <td style="padding: 5px;"><math>+</math></td> </tr> <tr> <td style="padding: 5px;"><math>y</math></td> <td style="padding: 5px;"><math>\cap</math></td> <td style="padding: 5px;"><math>\cup</math></td> <td style="padding: 5px;"><math>\cap</math></td> </tr> </table> <p style="text-align: center;">عطف</p> <p style="text-align: right;">نقطه‌ی عطف <math>(0, 1)</math></p>	$x$	$-\infty$	$0$	$+\infty$	$y''$	$-$	$0$	$+$	$y$	$\cap$	$\cup$	$\cap$	۳
$x$	$-\infty$	$0$	$+\infty$										
$y''$	$-$	$0$	$+$										
$y$	$\cap$	$\cup$	$\cap$										

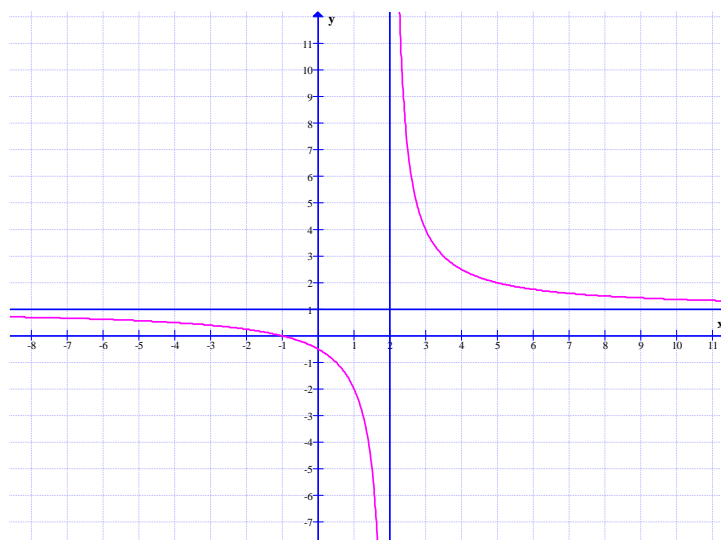


$f'(x) = -3x^2 + 6x \rightarrow f''(x) = -6x + 6 \xrightarrow{f''(x)=0} -6x + 6 = 0 \rightarrow x = 1$ <table border="1" style="margin-left: auto; margin-right: auto;"> <tr> <td style="background-color: #e0ffff;"><math>x</math></td> <td style="border: none;"><math>-\infty</math></td> <td style="background-color: #ffff00;"><math>1</math></td> <td style="border: none;"><math>+\infty</math></td> </tr> <tr> <td style="background-color: #e0ffff;"><math>y''</math></td> <td style="border: none;"><math>+</math></td> <td style="background-color: #ffff00;"><math>0</math></td> <td style="border: none;"><math>-</math></td> </tr> <tr> <td style="background-color: #e0ffff;"><math>y</math></td> <td style="border: none;"><math>+</math> <math>\cup</math></td> <td style="background-color: #ffff00;"><math>3</math> عطف</td> <td style="border: none;"><math>-\infty</math> <math>\cap</math></td> </tr> </table>	$x$	$-\infty$	$1$	$+\infty$	$y''$	$+$	$0$	$-$	$y$	$+$ $\cup$	$3$ عطف	$-\infty$ $\cap$	۸
$x$	$-\infty$	$1$	$+\infty$										
$y''$	$+$	$0$	$-$										
$y$	$+$ $\cup$	$3$ عطف	$-\infty$ $\cap$										
نادرست	۹												
ب : درست	۱۰												
$f(x) = x^3 + ax^2 + bx - 1 \rightarrow f'(x) = 3x^2 + 2ax + b \rightarrow f''(x) = 6x + 2a$ $f(-1) = (-1)^3 + a(-1)^2 + b(-1) - 1 = -1 + a - b - 1 = a - b - 2$ $\xrightarrow{f(-1)=1} a - b - 2 = 1 \rightarrow a - b = 3$ $f''(-1) = 6(-1) + 2a = -6 + 2a \xrightarrow{f''(-1)=0} -6 + 2a = 0 \rightarrow a = 3$ $a - b = 3 \xrightarrow{a=3} 3 - b = 3 \rightarrow b = 0$	۱۱												
$D_f = R$ <table border="1" style="margin-left: auto; margin-right: auto;"> <tr> <td style="border: none;"><math>x</math></td> <td style="border: none;"><math>-\infty</math></td> <td style="border: none;"><math>1</math></td> <td style="border: none;"><math>+\infty</math></td> </tr> <tr> <td style="border: none;"><math>f''</math></td> <td style="border: none;"><math>+</math></td> <td style="border: none;">تعریف نشده</td> <td style="border: none;"><math>-</math></td> </tr> <tr> <td style="border: none;"></td> <td style="border: none;"><math>\cup</math></td> <td style="border: none;"> </td> <td style="border: none;"><math>\cap</math></td> </tr> </table> <p style="text-align: center;"><math>f'(1) = +\infty</math> پس تابع در <math>x = 1</math> مماس قائم دارد و <math>x = 1</math> نقطه‌ی عطف است.</p>	$x$	$-\infty$	$1$	$+\infty$	$f''$	$+$	تعریف نشده	$-$		$\cup$		$\cap$	۱۲
$x$	$-\infty$	$1$	$+\infty$										
$f''$	$+$	تعریف نشده	$-$										
	$\cup$		$\cap$										
نادرست	۱۳												
C	۱۴												

رسم نمودار توابع

$y' = \frac{-3}{(x-2)^2}$  و  $y = 1$  مجانب افقی و  $x = 2$  مجانب قائم

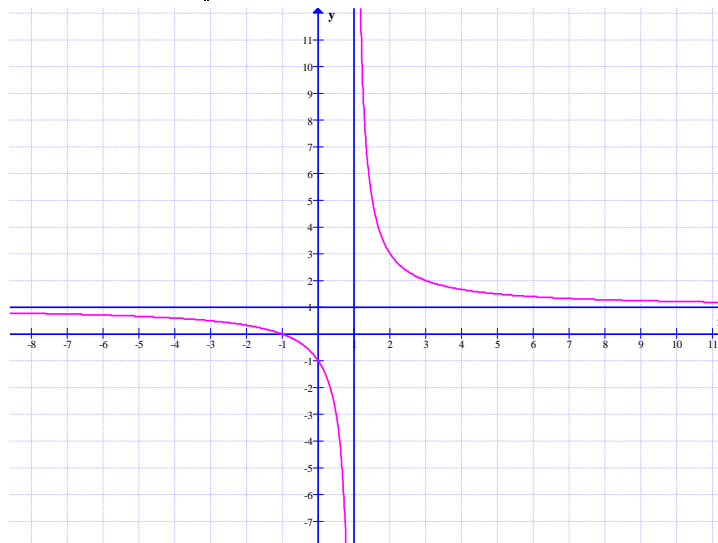
$x$	$-\infty$	$2$	$+\infty$
$y'$	—		—
$y$	$1 \searrow$	$-\infty$    $+\infty$	$\searrow 1$



۱

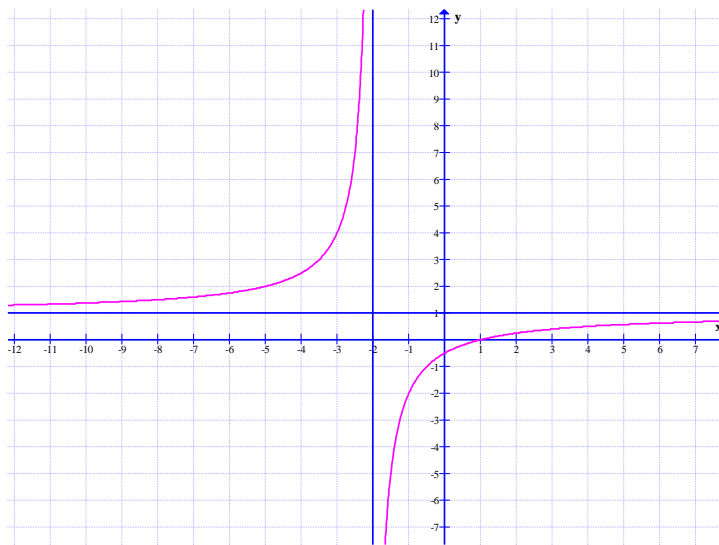
$x=1$  مجانب قائم و  $y=1$  مجانب افقی و  $y' = \frac{-2}{(x-1)^2} < 0$ .

$x$	$-\infty$	$1$	$+\infty$
$y'$	—		—
$y$	$1 \searrow$	$-\infty$    $+\infty$	$\searrow 1$



$x = -2$  مجانب قائم و  $y = 1$  مجانب افقی و  $y' = \frac{3}{(x-2)^2}$

$x$	$-\infty$	$-2$	$+\infty$
$y'$	+		+
$y$	1	↗ $+\infty$    ↘	1

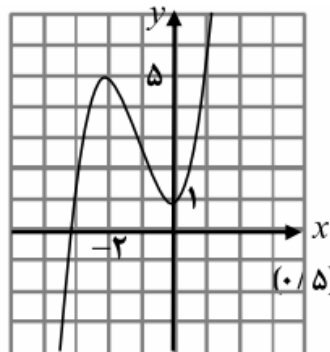


۳

$y' = 3x^2 + 6x \xrightarrow{y'=0} x = 0, x = -2$

$x$	$-\infty$	$-2$	$0$	$+\infty$
$f'$	+	o	-	o
$f$	$-\infty$	↗ $5$	↘ $1$	↗ $+\infty$

ماکزیم      مینیمم



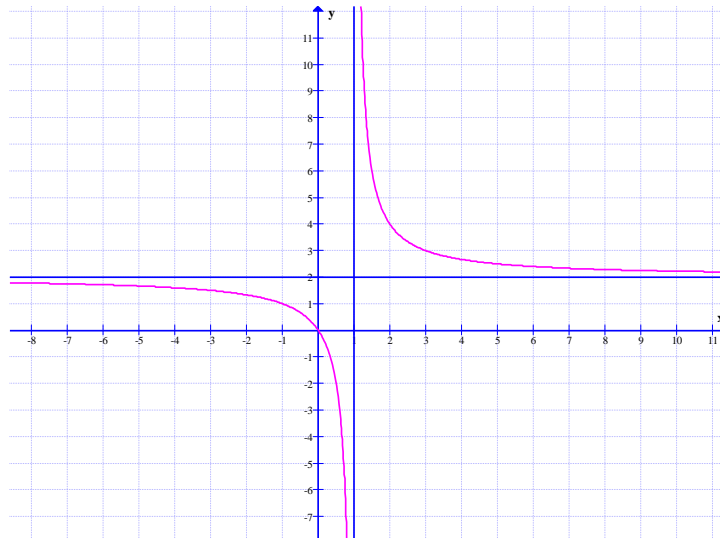
۴

$$f'(x) = \frac{-2}{(x-1)^2} < 0$$

مجانب افقی  $y = 2$

مجانب قائم  $x = 1$  و

$x$	$-\infty$	$1$	$+\infty$
$f'$	-		-
$f$	$2$	$+\infty$	$2$
		$-\infty$	



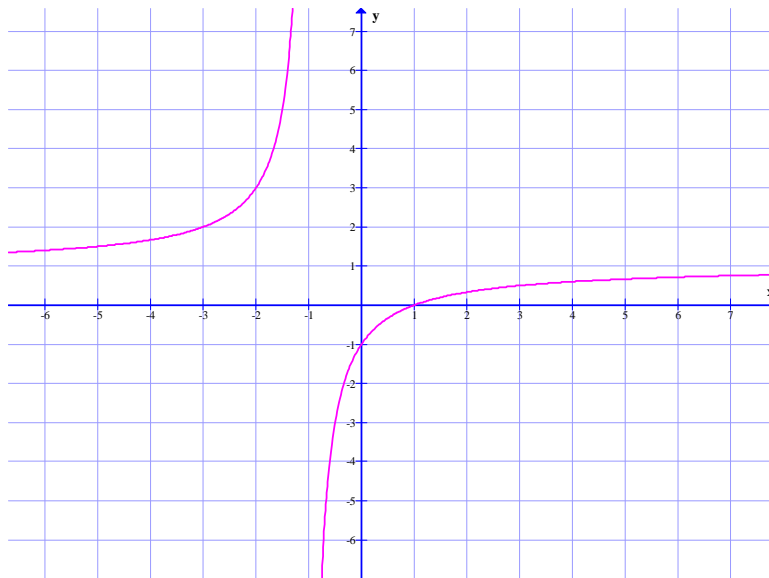
مجانِب افقی  $x = 1$

مجانِب قائم  $x = -1$

$$f'(x) = \frac{1(x+1) - 1(x-1)}{(x+1)^2} = \frac{2}{(x+1)^2} > 0$$

$x$	$-\infty$	$-1$	$+\infty$
$y'$	+		+

$\nearrow +\infty$      $\parallel$      $\nwarrow -\infty$





مجانِب قائم  $x - 1 = 0 \rightarrow x = 1$

$$D_f = R - \{1\}$$

$$\lim_{x \rightarrow \pm\infty} f(x) = \lim_{x \rightarrow \pm\infty} \frac{x+2}{x-1} = \lim_{x \rightarrow \pm\infty} \frac{x}{x} = 1 \rightarrow y = 1 \quad \text{مجانِب افقی}$$

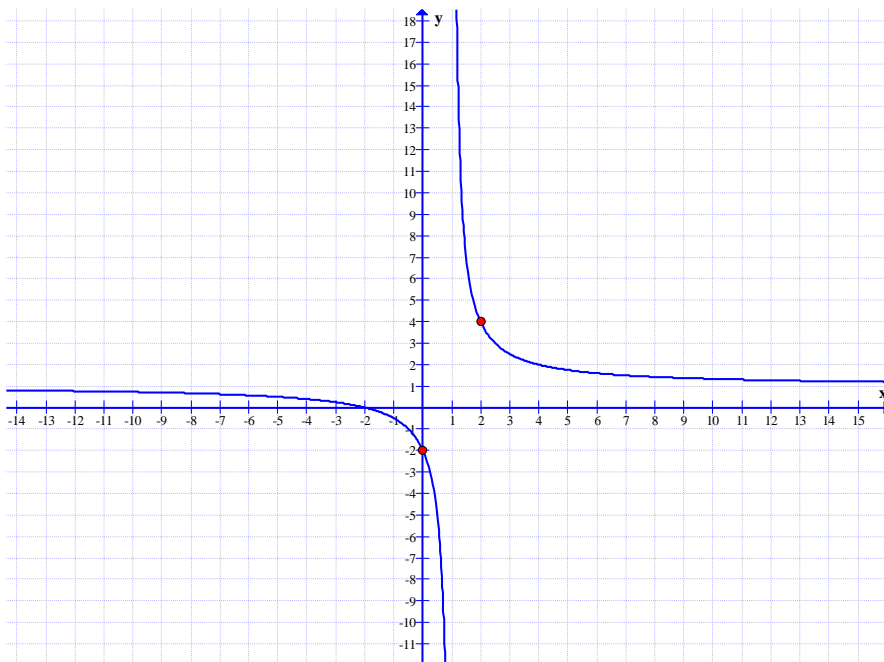
$$f'(x) = \frac{1(x-1) - 1(x+2)}{(x-1)^2} = \frac{-3}{(x-1)^2} < 0$$

نقاط کمکی  $(0, -2)$  و  $(2, 4)$

جدول تغییرات

$x$	$-\infty$		$1$		$+\infty$
$y'$		—		—	
$y$	$-1$				$1$

$\begin{array}{c} \downarrow \\ -\infty \end{array} \quad \begin{array}{c} \downarrow \\ +\infty \end{array}$



$D_f = R$

$y = x^3 + 3x^2 + 1 \rightarrow y' = 3x^2 + 6x \xrightarrow{y'=0} 3x^2 + 6x = 0 \rightarrow 3x(x+2) = 0$

$\rightarrow x = 0, \quad x = -2$

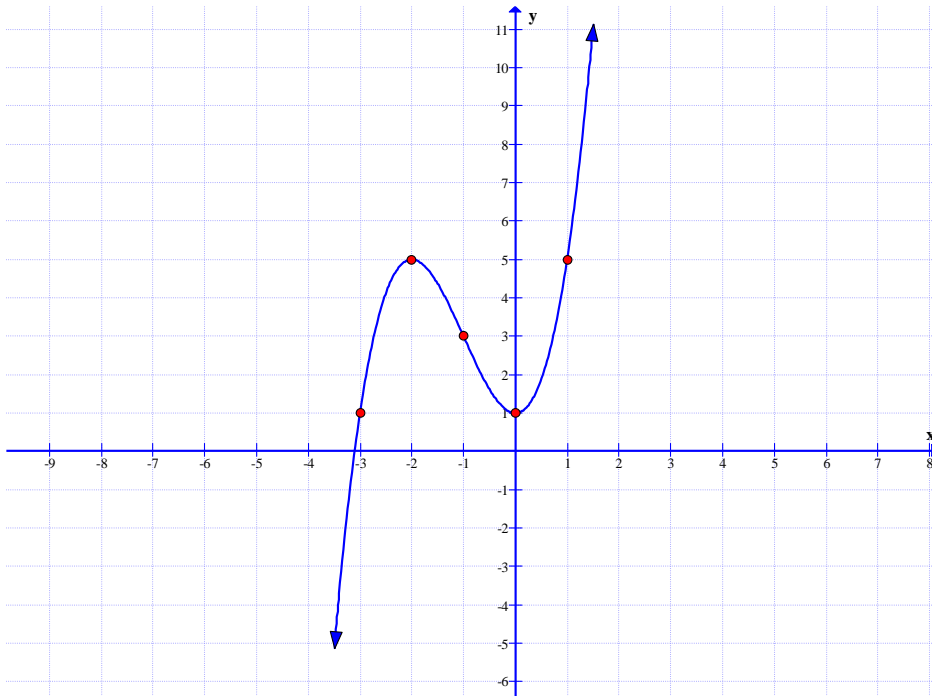
$y'' = 6x + 6 \xrightarrow{y''=0} 6x + 6 = 0 \rightarrow x = -1$

$x$	$-\infty$	$-2$	$-1$	$0$	$+\infty$
$y'$	$+$	$0$	$-$	$0$	$+$
$y$	$-\infty$	$5$	$3$	$1$	$+\infty$

$\nearrow$  max  $\searrow$  min  $\nearrow$

$x = -3 \rightarrow y = -27 + 27 + 1 = 1 \rightarrow A(-3, 1)$  نقطه‌ی کمکی

$x = 1 \rightarrow y = 1 + 3 + 1 = 5 \rightarrow B(1, 5)$  نقطه‌ی کمکی

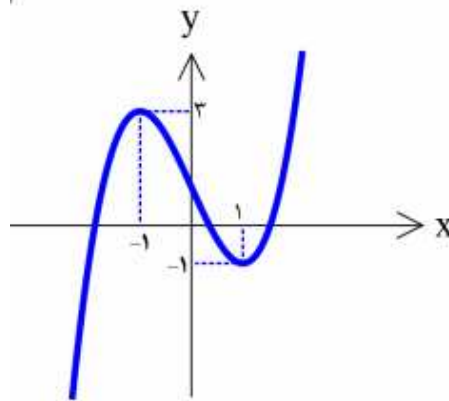


نقاط بحرانی  $y' = 3x^2 - 3 \xrightarrow{y'=0} 3x^2 - 3 = 0 \rightarrow x = \pm 1$

نقطه‌ی عطف  $y'' = 6x \xrightarrow{y''=0} 6x = 0 \rightarrow x = 0$

$x$	$-\infty$	$-1$	$0$	$1$	$+\infty$
$y'$	$+$	$0$	$-$	$0$	$+$
$y''$	$-$	$-$	$0$	$+$	$+$
$y$	$-\infty$	$3$	$1$	$-1$	$+\infty$

max
min



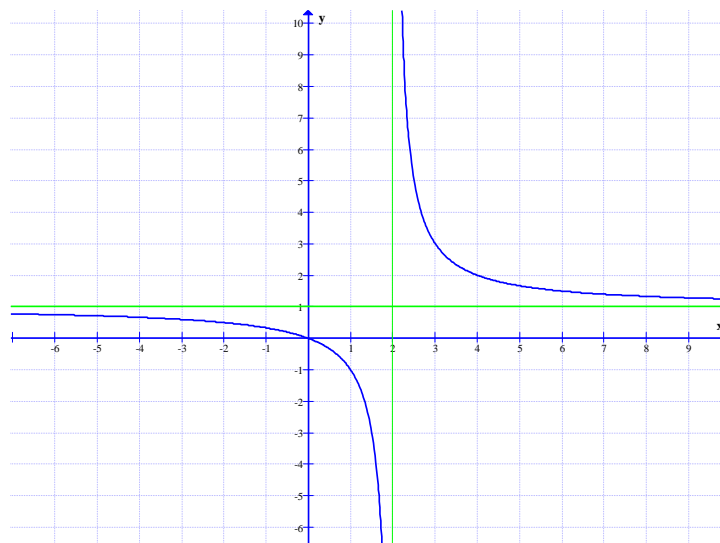
۹

مجانب قائم  $x = 2$

مجانب افقی  $y = 1$

$y' = \frac{-2}{(x-2)^2} < 0$

$x$	$-\infty$	$0$	$2$	$3$	$+\infty$
$f(x)$		$-$		$-$	
$f'(x)$	$1$	$0$	$-\infty$	$+\infty$	$1$



۱۰

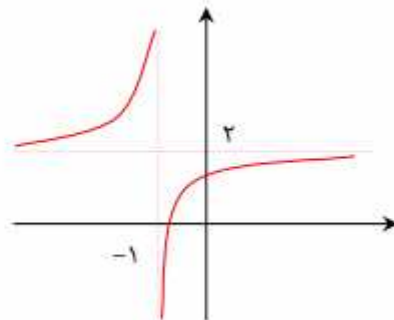
دامنه‌ی تابع  $D_f = R - \{-1\}$

مجانِب قائم  $x + 1 = 0 \rightarrow x = -1$

مجانِب افقی  $y = \lim_{x \rightarrow \pm\infty} \frac{2x-1}{x+1} = \lim_{x \rightarrow \pm\infty} \frac{2x}{x} = 2$

تابع در دو طرف مجانب قائم خود صعودی است.  $f'(x) = \frac{2(x+1) - 1(2x-1)}{(x+1)^2} = \frac{3}{(x+1)^2} > 0$

$x$	$-\infty$	$-1$	$+\infty$
$f'(x)$			
		+	+
$f(x)$	$2$	$+\infty$	$2$
		$-\infty$	



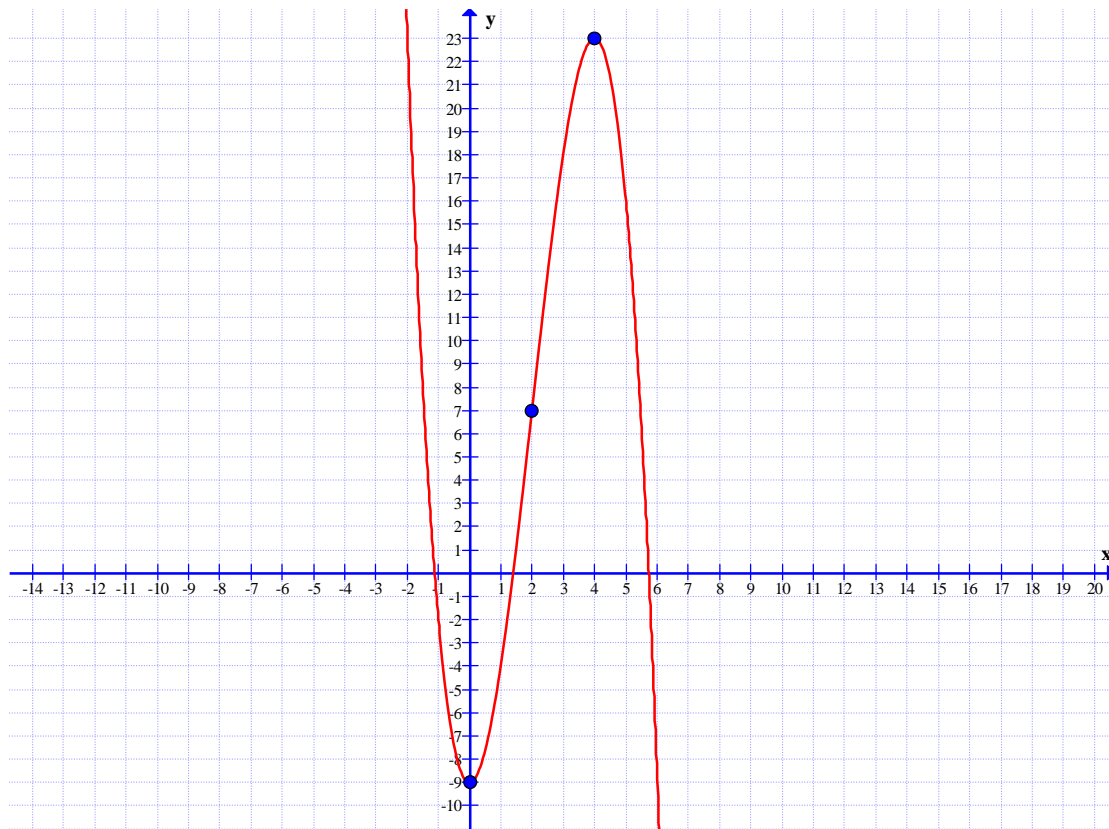
$$D_f = R$$

$$f'(x) = -3x^2 + 12x \xrightarrow{f'(x)=0} -3x^2 + 12x = 0 \rightarrow x = 0, x = 4$$

$$f''(x) = -6x + 12 \xrightarrow{f''(x)=0} -6x + 12 = 0 \rightarrow x = 2$$

$x$	$-\infty$	$0$	$2$	$4$	$+\infty$
$f'$	$-$	$0$	$+$	$0$	$-$
$f$		$-9$	$7$	$23$	

min
max



تهیه کننده:

جابر عامری عضو گروه ریاضی دوره‌ی دوم متوسطه استان خوزستان

[www.mathtower.ir](http://www.mathtower.ir)

@amerimath